

ピラミッド計算

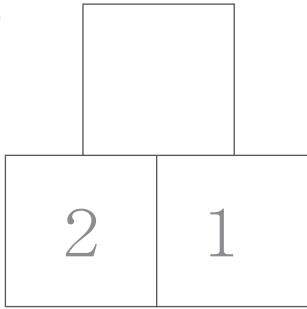
が 月 日 時 分 ~ 時 分

たしざん ① 繰り上がり無しの計算

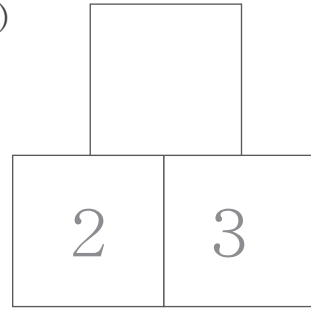
なまえ
名前

【問題】もんだい となり同士どうしの 数かずを足たして答えこたを上うへのますかに書かきましょう。

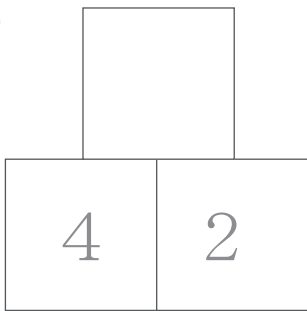
(1)



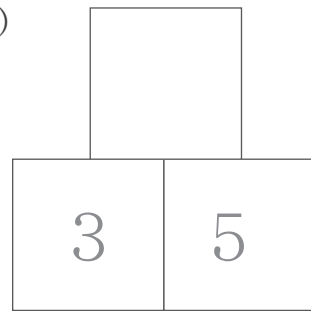
(2)



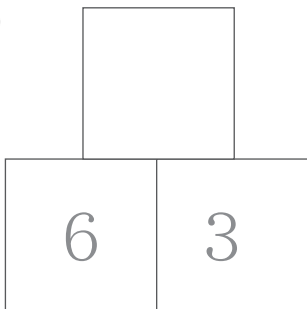
(3)



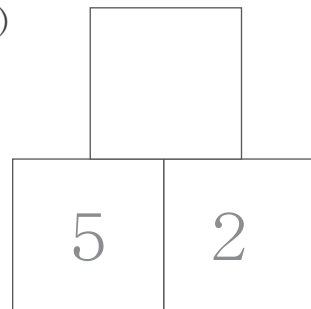
(4)



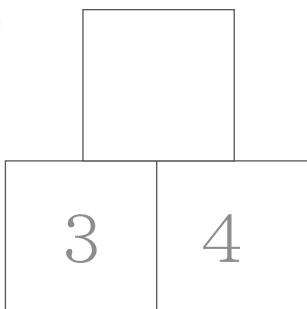
(5)



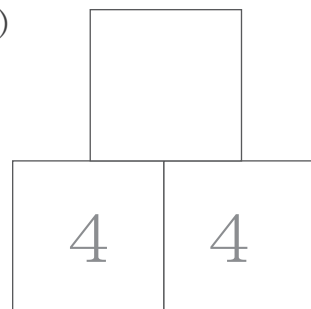
(6)



(7)



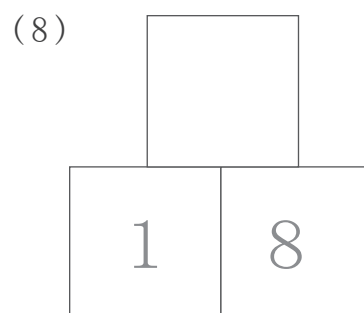
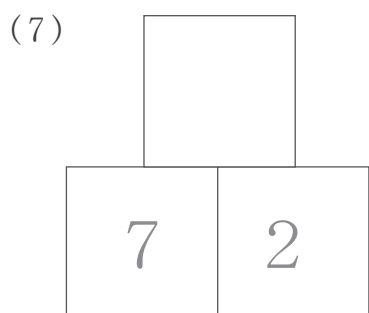
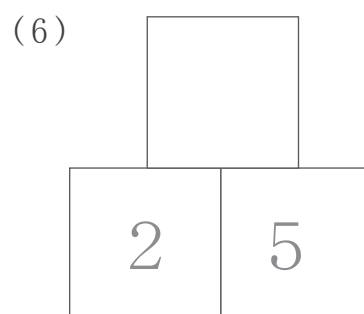
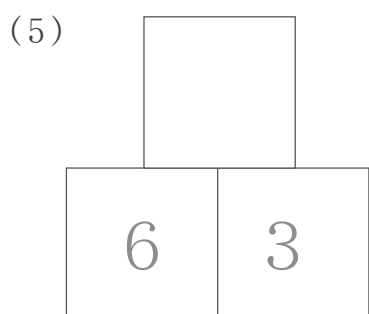
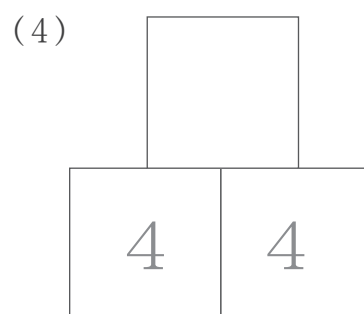
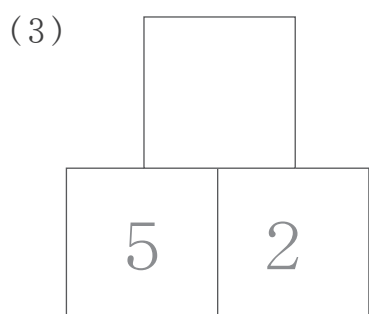
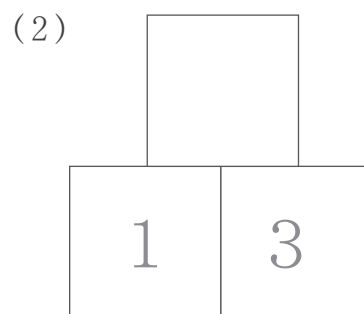
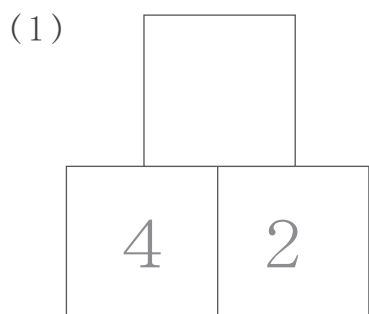
(8)



ピラミッド計算

たしざん ① 繰り上がり無しの計算

【問題】もんだいとなり同士の どうし 数かずを足して た 答えこたを上うへのますに書かきましょう。



ピラミッド計算

たしざん ① 繰り上がり無しの計算

【問題】となり同士の 数を足して 答えを上の ますに書きましょう。

