

ピラミッド計算

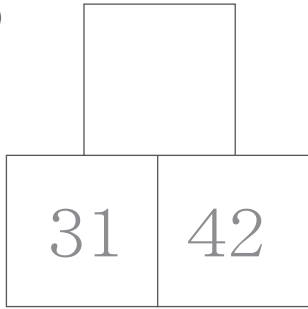
が 月 月 日 日 時 時 分 分 ~ 分 分

たし さん 足し算 ② く あ 繰り上がりのない計算 けいさん

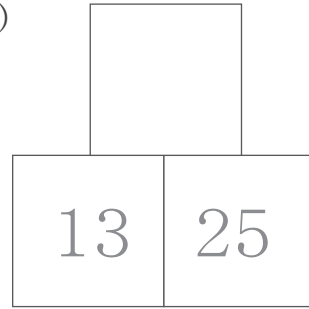
なまえ
名前

【問題】^{もんだい}となり同士の^{どうし}数を^{かず}足して^た答えを^{こた}上の^{うへ}ますに^か書きましょう。

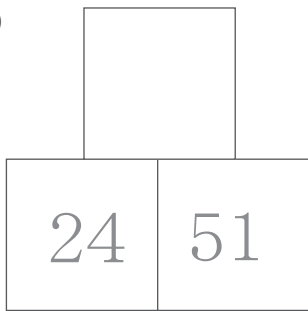
(1)



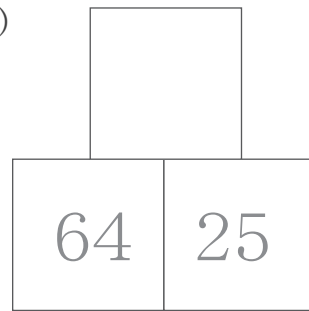
(2)



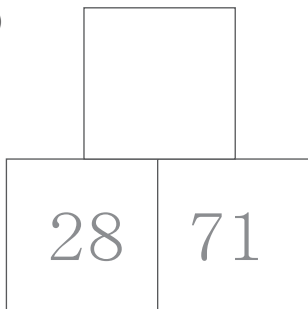
(3)



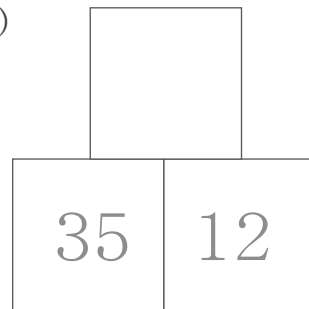
(4)



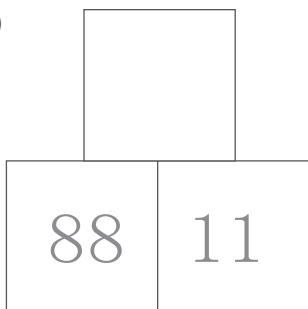
(5)



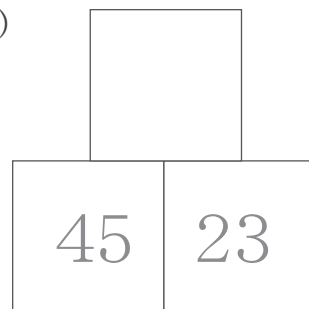
(6)



(7)



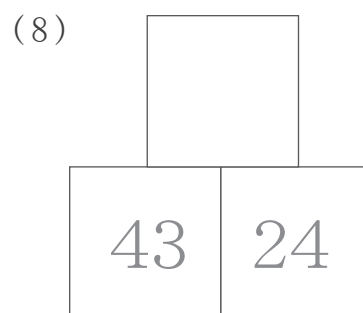
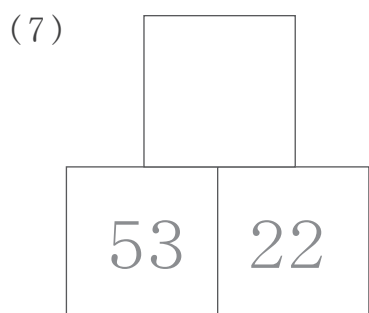
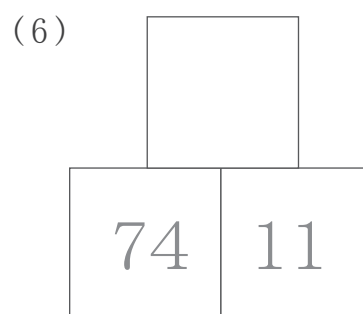
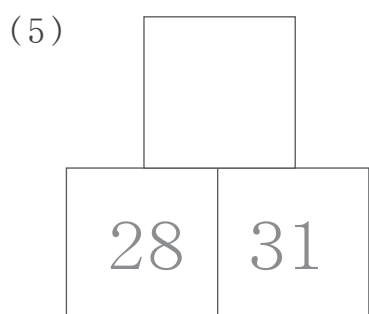
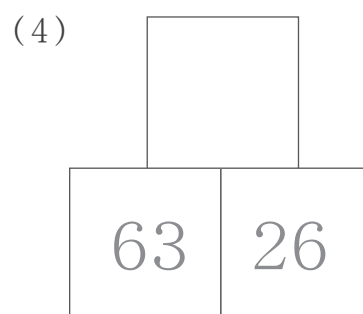
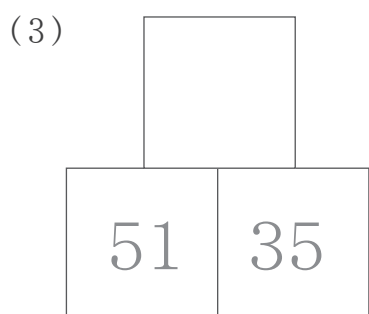
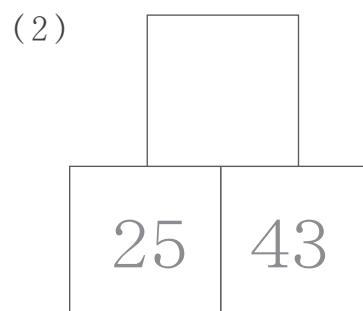
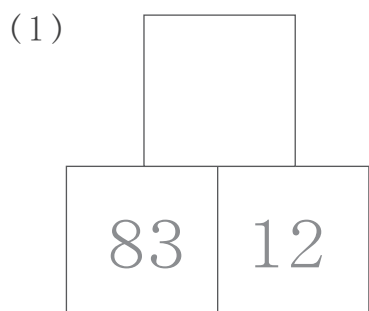
(8)



ピラミッド計算

たしざん ② くあがりのないけいざん
足し算 ② 繰り上がりのない計算

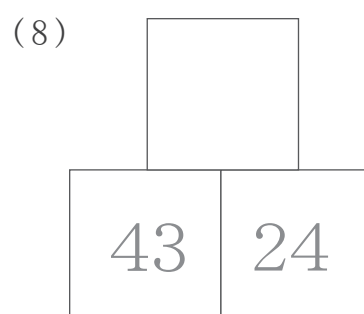
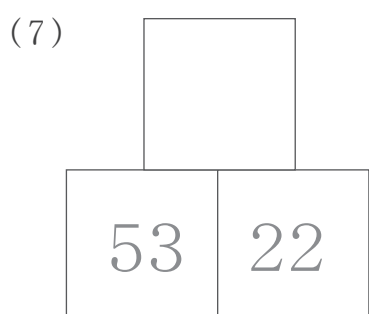
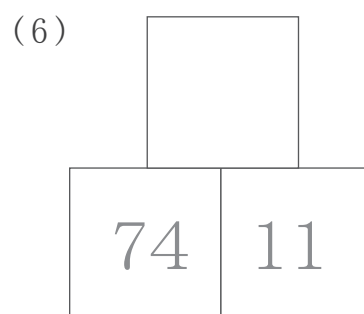
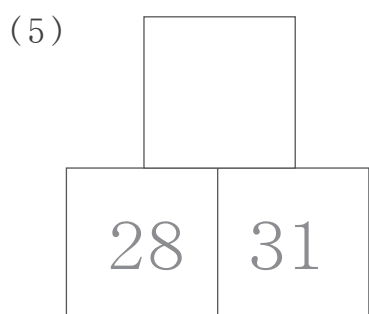
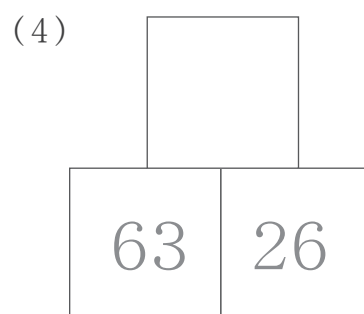
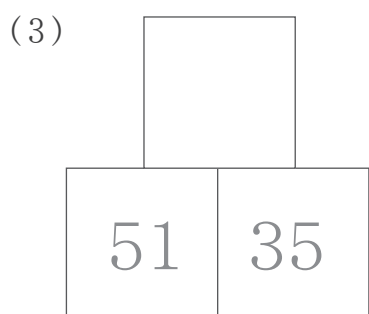
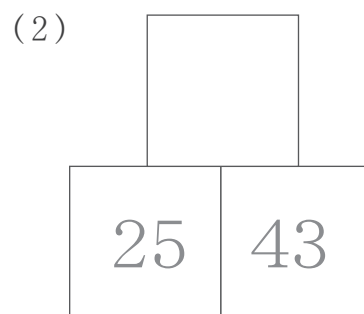
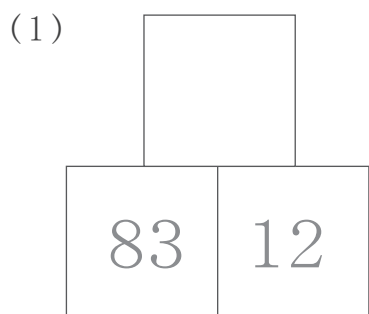
【問題】もんだい となり同士どうしの 数かずを足してた答えを上のこたますにうへ書きましょう。か



ピラミッド計算

たしざん ② くあがりのないけいざん
足し算 ② 繰り上がりのない計算

【問題】もんだい となり同士の数どうしを足して答えかを上うへのますに書かきましょう。



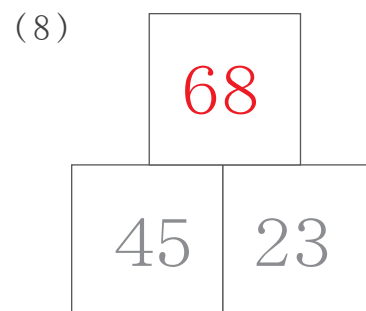
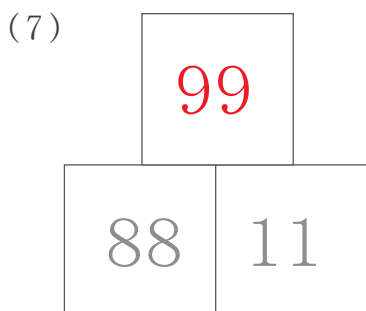
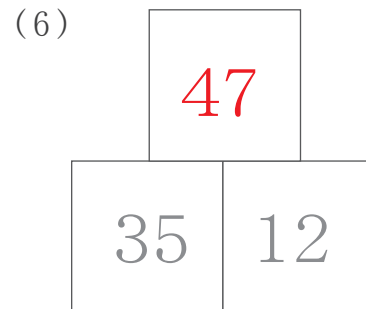
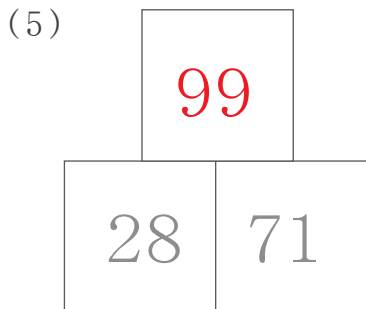
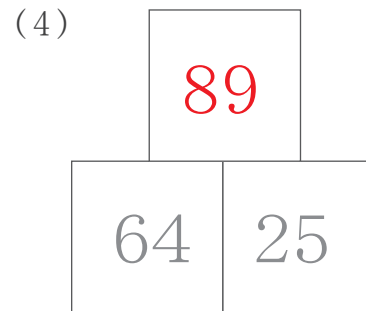
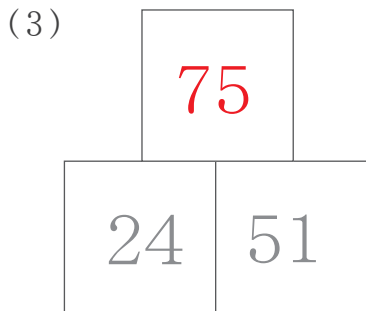
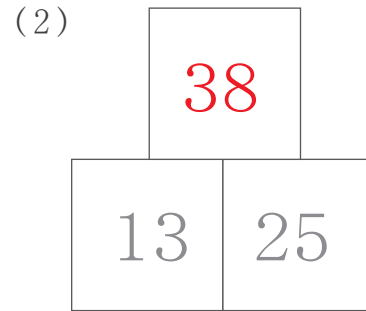
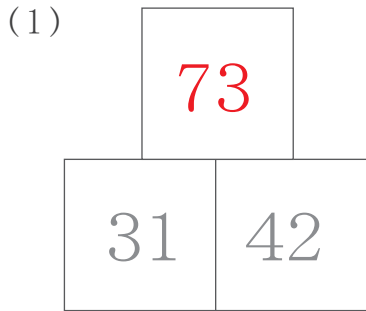
ピラミッド計算 (答え)

が 月 日 時 分 ~ 時 分

たし さん 足し算 ② く あ 繰り上がりのない計算

なまえ
名前

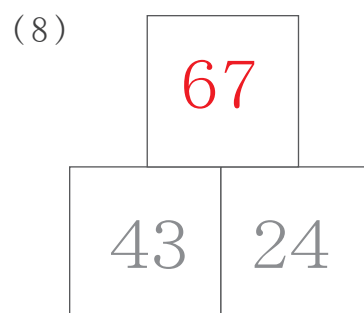
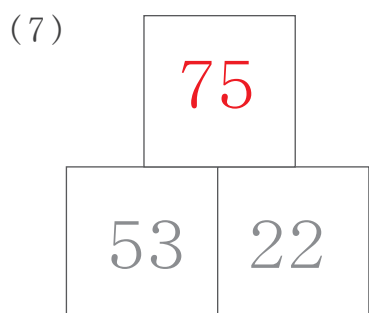
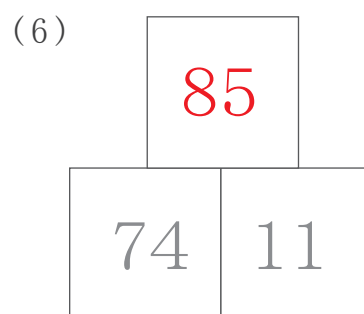
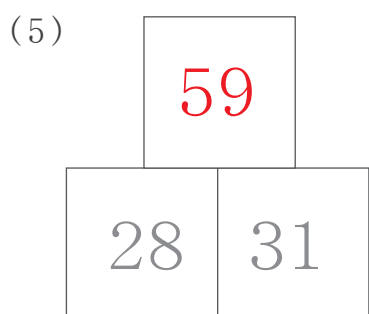
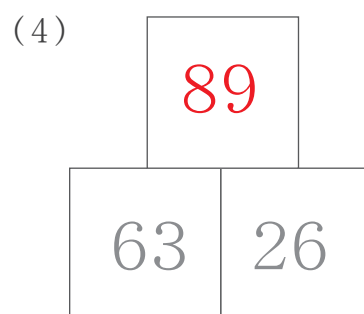
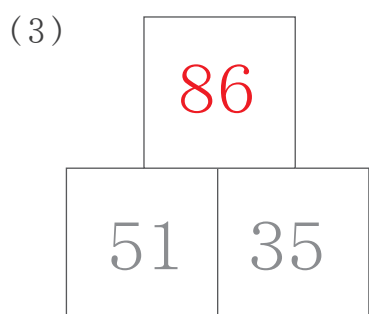
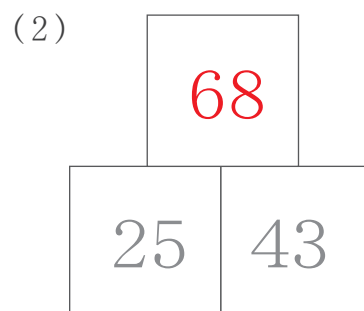
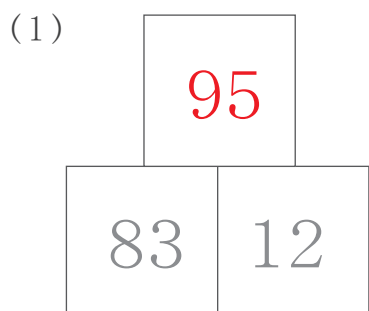
【問題】^{もんだい}となり同士の^{どうし} 数^{かず}を足して^た 答え^{こた}を上^{うへ}のますに^か書きましょう。



ピラミッド計算 (答え)

たしざん ② くあがりのないけいざん
足し算 ② 繰り上がりのない計算

【問題】もんだい となり同士どうしの 数かずを足してた答えこたを上うへのますに書かきましょう。



ピラミッド計算 (答え)

たしざん ② くあがりのないけいざん
足し算 ② 繰り上がりのない計算

【問題】^{もんだい}となり同士の^{どうし}数を^{かず}足して^た答えを^{こた}上の^{うへ}ますに^か書きましょう。

