

小数の計算

割り算 [まとめ3]

月 日 時 分 ~ 時 分
名前 _____

1 それぞれ筆算になおして 商は()の位までの がい数で答えましょう。

① $5.8 \div 4$ $(\frac{1}{10})$

筆算

② $6.6 \div 8$ $(\frac{1}{100})$

筆算

③ $20 \div 7$ $(\frac{1}{1000})$

筆算

④ $46 \div 3$ $(\frac{1}{1000})$

筆算


小数の計算

割り算 [まとめ3]

1 それぞれ筆算になおして 商は()の位までの がい数で答えましょう。


① $54 \div 8$ $(\frac{1}{10})$

筆算




② $81.9 \div 92$ $(\frac{1}{100})$

筆算




③ $62.8 \div 19$ $(\frac{1}{1000})$

筆算



④ $8.7 \div 9$ $(\frac{1}{1000})$

筆算




小数の計算

割り算 [まとめ3]

1 それぞれ筆算になおして 商は()の位までの がい数で答えましょう。


① $4.3 \div 9$ $(\frac{1}{10})$

筆算




② $9.7 \div 4$ $(\frac{1}{100})$

筆算




③ $10 \div 6$ $(\frac{1}{1000})$

筆算



④ $65 \div 9$ $(\frac{1}{1000})$

筆算




小数の計算

割り算 [まとめ3]

1 それぞれ筆算になおして 商は()の位までの がい数で答えましょう。


① $2.8 \div 5$ $(\frac{1}{10})$

筆算




② $94.1 \div 4$ $(\frac{1}{100})$

筆算




③ $2.4 \div 9$ $(\frac{1}{1000})$

筆算



④ $95.9 \div 69$ $(\frac{1}{1000})$

筆算




小数の計算

割り算 [まとめ3]

1 それぞれ筆算になおして 商は()の位までの がい数で答えましょう。


① $91.6 \div 69$ $(\frac{1}{10})$

筆算




② $4 \div 6$ $(\frac{1}{100})$

筆算




③ $23 \div 9$ $(\frac{1}{1000})$

筆算



④ $1 \div 3$ $(\frac{1}{1000})$

筆算




小数の計算

割り算 [まとめ3]

1 それぞれ筆算になおして 商は()の位までの がい数で答えましょう。


① $8.1 \div 6$ $(\frac{1}{10})$

筆算




② $85.7 \div 6$ $(\frac{1}{100})$

筆算




③ $2.8 \div 9$ $(\frac{1}{1000})$

筆算



④ $8.8 \div 7$ $(\frac{1}{1000})$

筆算




小数の計算

割り算 [まとめ3]

1 それぞれ筆算になおして 商は()の位までの がい数で答えましょう。


① $78.1 \div 4$ $\left(\frac{1}{10}\right)$

筆算




② $29.4 \div 37$ $\left(\frac{1}{100}\right)$

筆算




③ $41.7 \div 46$ $\left(\frac{1}{1000}\right)$

筆算



④ $54 \div 7$ $\left(\frac{1}{1000}\right)$

筆算




小数の計算

割り算 [まとめ3]

1 それぞれ筆算になおして 商は()の位までの がい数で答えましょう。


① $1.9 \div 5$ $(\frac{1}{10})$

筆算




② $43.4 \div 6$ $(\frac{1}{100})$

筆算




③ $2.6 \div 3$ $(\frac{1}{1000})$

筆算



④ $9.2 \div 3$ $(\frac{1}{1000})$

筆算




小数の計算

割り算 [まとめ3]

1 それぞれ筆算になおして 商は()の位までの がい数で答えましょう。


① $8.5 \div 4$ $(\frac{1}{10})$

筆算




② $7 \div 6$ $(\frac{1}{100})$

筆算




③ $20 \div 9$ $(\frac{1}{1000})$

筆算



④ $36.2 \div 76$ $(\frac{1}{1000})$

筆算




小数の計算

割り算 [まとめ3]

1 それぞれ筆算になおして 商は()の位までの がい数で答えましょう。


① $57.9 \div 92$ ($\frac{1}{10}$)

筆算




② $2.6 \div 6$ ($\frac{1}{100}$)

筆算




③ $0.8 \div 6$ ($\frac{1}{1000}$)

筆算



④ $1.7 \div 6$ ($\frac{1}{1000}$)

筆算



小数の計算 [答え]

割り算 [まとめ 3]

1 ~ 10 ページ目までの答え

1 ページ目

①	1.5	②	0.83
③	2.857	④	15.333

2 ページ目

①	6.8	②	0.89
③	3.305	④	0.967

3 ページ目

①	0.5	②	2.43
③	1.667	④	7.222

4 ページ目

①	0.6	②	23.52
③	0.267	④	1.39

5 ページ目

①	1.3	②	0.67
③	2.556	④	0.333

6 ページ目

①	1.4	②	14.28
③	0.311	④	1.257

7 ページ目

①	19.5	②	0.79
③	0.907	④	7.714

8 ページ目

①	0.4	②	7.23
③	0.867	④	3.067

9 ページ目

①	2.1	②	1.17
③	2.222	④	0.476

10 ページ目

①	0.6	②	0.43
③	0.133	④	0.283