

# 10000より大きい数


## お金を数える [3]

月 日 時 分 ~ 時 分

名前

1 次のお金をそれぞれ数えて、合計すると何円になるか 答えましょう。

①

								
まい 4枚	まい 1枚	まい 4枚	まい 1枚	まい 2枚	まい 1枚	まい 3枚	まい 1枚	まい 1枚


合計 \_\_\_\_\_ 円

②

								
まい 3枚	まい 2枚	まい 3枚	まい 1枚	まい 5枚	まい 2枚	まい 4枚	まい 1枚	まい 5枚

合計 \_\_\_\_\_ 円

③

								
まい 4枚	まい 3枚	まい 5枚	まい 2枚	まい 4枚	まい 3枚	まい 5枚	まい 2枚	まい 2枚

合計 \_\_\_\_\_ 円

④

								
まい 5枚	まい 1枚	まい 2枚	まい 2枚	まい 3枚	まい 3枚	まい 2枚	まい 1枚	まい 8枚









合計 \_\_\_\_\_ 円

# 10000より大きい数

## お金を数える [3]










1 次のお金をそれぞれ数えて、合計すると何円になるか 答えましょう。

①

								
まい 3枚	まい 8枚	まい 7枚	まい 6枚	まい 4枚	まい 9枚	まい 4枚	まい 1枚	まい 1枚





合計 \_\_\_\_\_ 円

②

								
まい 2枚	まい 5枚	まい 3枚	まい 8枚	まい 5枚	まい 7枚	まい 4枚	まい 1枚	まい 8枚






合計 \_\_\_\_\_ 円

③

								
まい 0枚	まい 7枚	まい 2枚	まい 1枚	まい 6枚	まい 3枚	まい 5枚	まい 4枚	まい 3枚

合計 \_\_\_\_\_ 円

④

								
まい 6枚	まい 9枚	まい 0枚	まい 5枚	まい 3枚	まい 2枚	まい 5枚	まい 0枚	まい 3枚

合計 \_\_\_\_\_ 円