

時間と時刻のまとめ[1]

月 日 時 分 ~ 時 分

きまりと1日の生活

名前

1

にあてはまる 時間かんけいに関する単位たんいや数を書きましょう。

① 50m走るのに かかる時間は 10 でした。

② 昨日きのうは 夏休みしゆくだいの宿題を 30 しました。

③ 昨日きのうは 8 ねむりました。

④ 1日は 時間で、1時間は 分です。

⑤ 1分は 秒びょうなので、2分は 秒びょうになります。


⑥ 1日の中の 午前と午後は どちらも 時間ずつです。


2

それぞれの文を読み 午前・午後たんいの単位をつけて わたしの時間を答えましょう。
時計に 短針しん・長針しんも書きましょう。

① 学校へ行くのに 家をでる時間

② 学校つに着く時間





3

上の問題もんだいで 答えた時間つかを使って 答えましょう。


家をでる時間から 学校つに着くまでの間の時間はどれだけですか。

時間と時刻こくのまとめ[1]

時間の読み問題もんだい

1 つぎの時計を見て 何時何分か 答えましょう。

①



[時 分]


②



[時 分]


2 びょうしん 秒針が1周で60秒 しゅう 分針が1周で30分のストップウォッチがあります。
はり 針の位置に いち 注意して ちゅうい それぞれ時間を答えましょう。

①




[びょう 秒]

②




[びょう 秒]

③



[分 秒]

④



[分 秒]

時間と時刻こくのまとめ[1]

時間の換算・長さくら比べ

1 に あてはまる数を書きましょう。

① 75分 = 時間 分

② 1時間32分 = 分

③ 131分 = 時間 分

④ 2時間37分 = 分

⑤ 442分 = 時間 分

⑥ 5時間14分 = 分

⑦ 78秒びょう = 分 秒びょう

⑧ 1分34秒びょう = 秒びょう

⑨ 164秒びょう = 分 秒びょう

⑩ 3分45秒びょう = 秒びょう

⑪ 411秒びょう = 分 秒びょう

⑫ 8分57秒びょう = 秒びょう

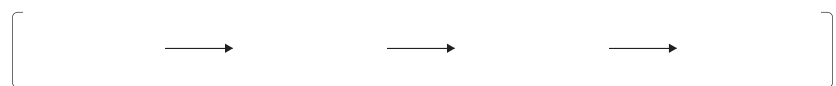
2 ①から⑫の時間みじかを 短い順じゅんに 並びかえ 記号ごうで答えましょう。

① ② ③ ④ ⑤ ⑥ ⑦ ⑧ ⑨ ⑩ ⑪ ⑫

① ② ③ ④ ⑤ ⑥ ⑦ ⑧ ⑨ ⑩ ⑪ ⑫

① ② ③ ④ ⑤ ⑥ ⑦ ⑧ ⑨ ⑩ ⑪ ⑫

① ② ③ ④ ⑤ ⑥ ⑦ ⑧ ⑨ ⑩ ⑪ ⑫



② ③ ④ ⑤ ⑥ ⑦ ⑧ ⑨ ⑩ ⑪ ⑫

② ③ ④ ⑤ ⑥ ⑦ ⑧ ⑨ ⑩ ⑪ ⑫

② ③ ④ ⑤ ⑥ ⑦ ⑧ ⑨ ⑩ ⑪ ⑫

② ③ ④ ⑤ ⑥ ⑦ ⑧ ⑨ ⑩ ⑪ ⑫



時間と時刻こくのまとめ[1]

2つの時刻こくの間を答える

問 はじはじ 始めの時刻こくから おお 終わりの時刻こくまでの時間を それぞれ答えましょう。



[午前 時 分] [午前 時 分] 答え



[午前 時 分] [午前 時 分] 答え



[午後 時 分] [午後 時 分] 答え



[午後 時 分] [午後 時 分] 答え




時間と時刻のまとめ[1]

指定時間 変化後の時刻を答える問題

- 1 それぞれの時計と 矢印の部分にある問題を 読んで答えましょう。
また時計に長針・短針も書き入れましょう。

①




42分前の時間は



[時 分] [時 分]

②




28分後の時間は



[時 分] [時 分]

③




2時間15分前の時間は



[時 分] [時 分]

④

4時間17分後の時間は



[時 分] [時 分]

時間と時刻のまとめ[1]

時間と時刻の文章問題[1]

問 文章を読んで 答えましょう。

1 昨日は1時間30分勉強しました。今日は70分勉強しました。
昨日は今日より どれだけ長く勉強していましたか。

[式]

答え

2 旅行で新幹線に2時間15分、バスに1時間50分乗りました。
新幹線とバスに乗っていた時間は 合わせて何時間何分になりますか。

[式]

答え

3 家を午前9時43分にでて、1時間38分後に図書館に着きました。
図書館に着いた時間は 何時何分ですか。

[式]

答え

4 家から飛行場へ行くのに2時間53分かかります。
飛行場に午後1時15分に着きたいです。
家を何時何分にできれば ちょうど飛行場に到着する予定になりますか。

[式]

答え

時間と時刻のまとめ[1]

時間と時刻の文章問題[2]

問 文章を読んで 答えましょう。

1 おかずを電子レンジで1分50秒 温めましたが、まだ冷たかったので 30秒 追加で 温めました。合わせてどれだけの時間 温めましたか。

[式]

答え

2 百ます計算の目標 時間は2分15秒でしたが、今日は目標 時間より20秒早くできました。今日 百ます計算にかかった時間はどれだけですか。

[式]

答え

3 わたしの一番大好きな曲の長さは5分40秒です。
その次に好きな曲の長さは6分25秒でした。
2つの曲の長さを合わせると どれだけの時間になりますか。

[式]

答え

4 友達はマラソン大会で5kmを18分30秒で走りました。ぼくはその友達よりも2分50秒早く走る事ができました。ぼくの走った時間はどれだけですか。

[式]

答え