


時間と時刻こく



指定時間 してい 変化後へんかの時刻こくを答える問題もんだいの答え
(まとめ)

問 それぞれの時計と 矢印じゆしの部分にある問題もんだいを 読んで答えましょう。
また時計に長針しん・短針しんも書き入れましょう。

①



34分前の時間は



[7 時 3 分] [6 時 29 分]

②




56分後の時間は





[9 時 45 分] [10 時 41 分]

③




5時間前の時間は





[3 時 55 分] [10 時 55 分]

④



3時間後の時間は




[12 時 33 分] [3 時 33 分]

時間と時刻



指定時間 変化後の時刻を答える問題の答え
(まとめ)

問 それぞれの時計と 矢印の部分にある問題を 読んで答えましょう。
また時計に長針・短針も書き入れましょう。

①




11時間前の時間は





[1 時 22 分] [2 時 22 分]

②




10時間後の時間は





[7 時 36 分] [5 時 36 分]

③




6時間24分前の時間は





[10 時 44 分] [4 時 20 分]

④



3時間13分後の時間は




[6 時 39 分] [9 時 52 分]

時間と時刻こく



指定時間 してい 変化後へんかの時刻こくを答える問題もんだいの答え
(まとめ)

問 それぞれの時計と 矢印じゆしの部分にある問題もんだいを 読んで答えましょう。
また時計に長針しん・短針しんも書き入れましょう。

①




33分前の時間は





[8 時 29 分] [7 時 56 分]

②




8時間後の時間は





[6 時 47 分] [2 時 47 分]

③




11時間37分前の時間は





[10 時 54 分] [11 時 17 分]

④



6時間53分後の時間は




[5 時 5 分] [11 時 58 分]

時間と時刻こく


指定時間 変化後の時刻を答える問題の答え
(まとめ)

問 それぞれの時計と 矢印の部分にある問題を 読んで答えましょう。
また時計に長針・短針も書き入れましょう。

①




47分後の時間は





[7 時 52 分] [8 時 39 分]

②




6時間前の時間は





[2 時 56 分] [8 時 56 分]

③




4時間19分前の時間は





[3 時 33 分] [11 時 14 分]

④



10時間48分後の時間は



[1 時 25 分] [12 時 13 分]