

時間と時刻


月 日 時 分 ~ 時 分

指定時間 変化後の時刻を答える問題
(まとめ)


名前

問 それぞれの時計と 矢印の部分にある問題を 読んで答えましょう。
また時計に長針・短針も書き入れましょう。

①



15分前の時間は




[時 分]

[時 分]

②



23分後の時間は




[時 分]

[時 分]

③



2時間前の時間は




[時 分]

[時 分]

④



10時間後の時間は



[時 分]


[時 分]

時間と時刻こく


指定時間 してい 変化後へんかの時刻こくを答える問題もんだい
(まとめ)

問 それぞれの時計と 矢印じゆしの部分にある問題もんだいを 読んで答えましょう。
また時計に長針しん・短針しんも書き入れましょう。

①




5時間前の時間は




[時 分] [時 分]

②




3時間後の時間は




[時 分] [時 分]

③




1時間32分前の時間は




[時 分] [時 分]

④



5時間36分後の時間は




[時 分] [時 分]

時間と時刻こく


指定時間 してい 変化後へんかの時刻こくを答える問題もんだい
(まとめ)

問 それぞれの時計と 矢印じゆしの部分にある問題もんだいを 読んで答えましょう。
また時計に長針しん・短針しんも書き入れましょう。

①




31分前の時間は




[時 分] [時 分]

②




4時間後の時間は




[時 分] [時 分]

③




4時間36分前の時間は




[時 分] [時 分]

④



3時間40分後の時間は




[時 分] [時 分]

時間と時刻こく


指定時間 してい 変化後へんかの時刻こくを答える問題もんだい
(まとめ)

問 それぞれの時計と 矢印じゆしの部分にある問題もんだいを 読んで答えましょう。
また時計に長針しん・短針しんも書き入れましょう。

①




58分後の時間は





[時 分] [時 分]

②




8時間前の時間は





[時 分] [時 分]

③




8時間26分前の時間は





[時 分] [時 分]

④



7時間43分後の時間は



[時 分] [時 分]