

時間と時刻


月 日 時 分 ~ 時 分

指定時間 変化後の時刻を答える問題
(何時間何分前/後の時間を答える)


名前

問 それぞれの時計と 矢印の部分にある問題を 読んで答えましょう。
また時計に長針・短針も書き入れましょう。

①



8時間41分後の時間は




[時 分]

[時 分]

②




7時間18分前の時間は




[時 分]

[時 分]

③




4時間26分後の時間は




[時 分]

[時 分]

④



3時間1分前の時間は



[時 分]


[時 分]

時間と時刻こく


指定時間 変化後の時刻を答える問題もんだい
(何時間何分前/後の時間を答える)

問 それぞれの時計と 矢印の部分にある問題を 読んで答えましょう。
また時計に長針・短針も書き入れましょう。

①




7時間43分後の時間は




[時 分]

[時 分]

②




8時間4分前の時間は




[時 分]

[時 分]

③




9時間9分後の時間は




[時 分]

[時 分]

④



10時間52分前の時間は



[時 分]


[時 分]

時間と時刻こく


指定時間 変化後の時刻を答える問題もんだい
(何時間何分前/後の時間を答える)

問 それぞれの時計と 矢印の部分にある問題を 読んで答えましょう。
また時計に長針・短針も書き入れましょう。

①




10時間35分後の時間は




[時 分] [時 分]

②




1時間35分前の時間は




[時 分] [時 分]

③




8時間52分後の時間は




[時 分] [時 分]

④



11時間16分前の時間は




[時 分] [時 分]

時間と時刻こく


指定時間 変化後の時刻を答える問題もんだい
(何時間何分前/後の時間を答える)

問 それぞれの時計と 矢印の部分にある問題を 読んで答えましょう。
また時計に長針・短針も書き入れましょう。

①




6時間40分後の時間は




[時 分] [時 分]

②




7時間19分前の時間は




[時 分] [時 分]

③




11時間32分後の時間は




[時 分] [時 分]

④



11時間35分前の時間は



[時 分] [時 分]