


時間と時刻こく



指定時間 変化後の時刻を答える問題の答え
(何時間何分前/後の時間を答える)

問 それぞれの時計と 矢印の部分にある問題を 読んで答えましょう。
また時計に長針・短針も書き入れましょう。

①




2時間7分後の時間は





[7 時 47 分] [9 時 54 分]

②




2時間1分前の時間は





[3 時 30 分] [1 時 29 分]

③




1時間41分後の時間は





[3 時 45 分] [5 時 26 分]

④



1時間48分前の時間は




[7 時 55 分] [6 時 7 分]

時間と時刻こく



指定時間 変化後の時刻を答える問題の答え
(何時間何分前/後の時間を答える)

問 それぞれの時計と 矢印の部分にある問題を 読んで答えましょう。
また時計に長針・短針も書き入れましょう。

①




3時間26分後の時間は





[4 時 52 分] [8 時 18 分]

②




7時間42分前の時間は





[8 時 18 分] [12 時 36 分]

③




2時間15分後の時間は





[11 時 34 分] [1 時 49 分]

④



5時間26分前の時間は




[9 時 36 分] [4 時 10 分]

時間と時刻こく



指定時間 変化後の時刻を答える問題の答え
(何時間何分前/後の時間を答える)

問 それぞれの時計と 矢印の部分にある問題を 読んで答えましょう。
また時計に長針・短針も書き入れましょう。

①




1時間41分後の時間は





[8 時 20 分] [10 時 1 分]

②




3時間56分前の時間は





[6 時 10 分] [2 時 14 分]

③




4時間17分後の時間は





[6 時 3 分] [10 時 20 分]

④



2時間16分前の時間は




[11 時 17 分] [9 時 1 分]

時間と時刻こく



指定時間 変化後の時刻を答える問題の答え
(何時間何分前/後の時間を答える)

問 それぞれの時計と 矢印の部分にある問題を 読んで答えましょう。
また時計に長針・短針も書き入れましょう。

①




8時間42分後の時間は





[11 時 35 分] [8 時 17 分]

②




5時間26分前の時間は





[10 時 9 分] [4 時 43 分]

③




5時間6分後の時間は





[9 時 12 分] [2 時 18 分]

④



6時間59分前の時間は



[7 時 29 分] [12 時 30 分]