

時間と時刻


月 日 時 分 ~ 時 分

指定時間 変化後の時刻を答える問題
(何時間何分前/後の時間を答える)


名前

問 それぞれの時計と 矢印の部分にある問題を 読んで答えましょう。
また時計に長針・短針も書き入れましょう。

①




2時間7分後の時間は




[時 分]

[時 分]

②




2時間1分前の時間は




[時 分]

[時 分]

③



1時間41分後の時間は




[時 分]

[時 分]

④



1時間48分前の時間は



[時 分]


[時 分]

時間と時刻こく


指定時間 変化後の時刻を答える問題もんだい
(何時間何分前/後の時間を答える)

問 それぞれの時計と 矢印の部分にある問題を読んで答えましょう。
また時計に長針・短針も書き入れましょう。

①




3時間26分後の時間は




[時 分] [時 分]

②




7時間42分前の時間は




[時 分] [時 分]

③




2時間15分後の時間は




[時 分] [時 分]

④



5時間26分前の時間は




[時 分] [時 分]

時間と時刻こく


指定時間 変化後の時刻を答える問題もんだい
(何時間何分前/後の時間を答える)

問 それぞれの時計と 矢印の部分にある問題を読んで答えましょう。
また時計に長針・短針も書き入れましょう。

①




1時間41分後の時間は




[時 分] [時 分]

②




3時間56分前の時間は




[時 分] [時 分]

③




4時間17分後の時間は




[時 分] [時 分]

④



2時間16分前の時間は




[時 分] [時 分]

時間と時刻こく


指定時間 変化後の時刻を答える問題もんだい
(何時間何分前/後の時間を答える)

問 それぞれの時計と 矢印の部分にある問題を 読んで答えましょう。
また時計に長針・短針も書き入れましょう。

①




8時間42分後の時間は




[時 分] [時 分]

②




5時間26分前の時間は




[時 分] [時 分]

③




5時間6分後の時間は




[時 分] [時 分]

④



6時間59分前の時間は



[時 分] [時 分]