


時間と時刻こく



指定時間 変化後の時刻を答える問題の答え
(何時間前 / 何時間後の時間を答える)

問 それぞれの時計と 矢印の部分にある問題を 読んで答えましょう。
また時計に長針・短針も書き入れましょう。

①




2時間後の時間は





[4 時 49 分] [6 時 49 分]

②




4時間前の時間は





[1 時 11 分] [9 時 11 分]

③




9時間後の時間は





[10 時 42 分] [7 時 42 分]

④



8時間前の時間は




[6 時 51 分] [10 時 51 分]

時間と時刻こく



指定時間 変化後の時刻を答える問題の答え
(何時間前 / 何時間後の時間を答える)

問 それぞれの時計と 矢印の部分にある問題を読んで答えましょう。
また時計に長針・短針も書き入れましょう。

①




8時間後の時間は





[8 時 36 分] [4 時 36 分]

②




6時間前の時間は





[11 時 16 分] [5 時 16 分]

③




10時間後の時間は





[9 時 29 分] [7 時 29 分]

④



9時間前の時間は




[10 時 35 分] [1 時 35 分]

時間と時刻こく



指定時間 変化後の時刻を答える問題の答え
(何時間前 / 何時間後の時間を答える)

問 それぞれの時計と 矢印の部分にある問題を 読んで答えましょう。
また時計に長針・短針も書き入れましょう。

①




5時間後の時間は





[5 時 28 分] [10 時 28 分]

②




2時間前の時間は





[4 時 56 分] [2 時 56 分]

③




12時間後の時間は





[7 時 49 分] [7 時 49 分]

④



3時間前の時間は




[9 時 19 分] [6 時 19 分]

時間と時刻こく



指定時間 変化後の時刻を答える問題の答え
(何時間前 / 何時間後の時間を答える)

問 それぞれの時計と 矢印の部分にある問題を 読んで答えましょう。
また時計に長針・短針も書き入れましょう。

①




3時間後の時間は





[2 時 43 分] [5 時 43 分]

②




11時間前の時間は





[8 時 45 分] [9 時 45 分]

③




6時間後の時間は





[3 時 32 分] [9 時 32 分]

④



12時間前の時間は



[12 時 59 分] [12 時 59 分]