

時間と時刻


月 日 時 分 ~ 時 分

指定時間 変化後の時刻を答える問題
(何時間前 / 何時間後の時間を答える)

名前


問 それぞれの時計と 矢印の部分にある問題を 読んで答えましょう。
また時計に長針・短針も書き入れましょう。

①



[時 分]

2時間後の時間は




[時 分]

②




[時 分]

4時間前の時間は




[時 分]

③




[時 分]

9時間後の時間は




[時 分]

④



[時 分]

8時間前の時間は




[時 分]

時間と時刻こく


指定時間 変化後の時刻を答える問題もんだい
(何時間前 / 何時間後の時間を答える)

問 それぞれの時計と 矢印の部分にある問題を読み取って答えてみましょう。
また時計に長針・短針も書き入れましょう。

①




8時間後の時間は




[時 分] [時 分]

②




6時間前の時間は




[時 分] [時 分]

③




10時間後の時間は




[時 分] [時 分]

④



9時間前の時間は




[時 分] [時 分]

時間と時刻こく


指定時間 変化後の時刻を答える問題もんだい
(何時間前 / 何時間後の時間を答える)

問 それぞれの時計と 矢印の部分にある問題を読みで答えましょう。
また時計に長針・短針も書き入れましょう。

①




5時間後の時間は




[時 分] [時 分]

②




2時間前の時間は




[時 分] [時 分]

③




12時間後の時間は




[時 分] [時 分]

④



3時間前の時間は




[時 分] [時 分]

時間と時刻こく


指定時間 変化後の時刻を答える問題
(何時間前 / 何時間後の時間を答える)

問 それぞれの時計と 矢印の部分にある問題を 読んで答えましょう。
また時計に長針・短針も書き入れましょう。

①




3時間後の時間は




[時 分] [時 分]

②




11時間前の時間は




[時 分] [時 分]

③




6時間後の時間は




[時 分] [時 分]

④



12時間前の時間は



[時 分] [時 分]