


時間と時刻こく



指定時間 変化後の時刻を答える問題の答え
(何時間前 / 何時間後の時間を答える)

問 それぞれの時計と 矢印の部分にある問題を 読んで答えましょう。
また時計に長針・短針も書き入れましょう。

①




1時間後の時間は





[2 時 11 分] [3 時 11 分]

②




11時間前の時間は





[3 時 23 分] [4 時 23 分]

③




3時間後の時間は





[12 時 14 分] [3 時 14 分]

④



9時間前の時間は




[6 時 35 分] [9 時 35 分]

時間と時刻こく



指定時間 変化後の時刻を答える問題の答え
(何時間前 / 何時間後の時間を答える)

問 それぞれの時計と 矢印の部分にある問題を 読んで答えましょう。
また時計に長針・短針も書き入れましょう。

①




8時間後の時間は





[6 時 11 分] [2 時 11 分]

②




10時間前の時間は





[2 時 14 分] [4 時 14 分]

③




7時間後の時間は





[7 時 29 分] [2 時 29 分]

④



2時間前の時間は




[1 時 10 分] [11 時 10 分]

時間と時刻



指定時間 変化後の時刻を答える問題の答え
(何時間前 / 何時間後の時間を答える)

問 それぞれの時計と 矢印の部分にある問題を 読んで答えましょう。
また時計に長針・短針も書き入れましょう。

①




6時間後の時間は





[4 時 35 分] [10 時 35 分]

②




8時間前の時間は





[5 時 1 分] [9 時 1 分]

③




4時間後の時間は





[9 時 36 分] [1 時 36 分]

④



12時間前の時間は




[12 時 11 分] [12 時 11 分]

時間と時刻こく



指定時間 変化後の時刻を答える問題の答え
(何時間前 / 何時間後の時間を答える)

問 それぞれの時計と 矢印の部分にある問題を 読んで答えましょう。
また時計に長針・短針も書き入れましょう。

①




11時間後の時間は





[8 時 58 分] [7 時 58 分]

②




7時間前の時間は





[7 時 31 分] [12 時 31 分]

③




9時間後の時間は





[10 時 25 分] [7 時 25 分]

④



6時間前の時間は



[11 時 51 分] [5 時 51 分]