

時間と時刻


月 日 時 分 ~ 時 分

指定時間 変化後の時刻を答える問題
(何時間前 / 何時間後の時間を答える)


名前

問 それぞれの時計と 矢印の部分にある問題を 読んで答えましょう。
また時計に長針・短針も書き入れましょう。

①



1 時間後の時間は




[時 分]

[時 分]

②




1 1 時間前の時間は




[時 分]

[時 分]

③



3 時間後の時間は




[時 分]

[時 分]

④



9 時間前の時間は



[時 分]


[時 分]

時間と時刻こく


指定時間 変化後の時刻を答える問題もんだい
(何時間前 / 何時間後の時間を答える)

問 それぞれの時計と 矢印の部分にある問題を 読んで答えましょう。
また時計に長針・短針も書き入れましょう。

①




8時間後の時間は




[時 分] [時 分]

②




10時間前の時間は




[時 分] [時 分]

③




7時間後の時間は




[時 分] [時 分]

④



2時間前の時間は




[時 分] [時 分]

時間と時刻こく


指定時間 変化後の時刻を答える問題もんだい
(何時間前 / 何時間後の時間を答える)

問 それぞれの時計と 矢印の部分にある問題を読んで答えましょう。
また時計に長針・短針も書き入れましょう。

①




6時間後の時間は




[時 分] [時 分]

②




8時間前の時間は




[時 分] [時 分]

③




4時間後の時間は




[時 分] [時 分]

④



12時間前の時間は




[時 分] [時 分]

時間と時刻こく


指定時間 変化後の時刻を答える問題もんだい
(何時間前 / 何時間後の時間を答える)

問 それぞれの時計と 矢印の部分にある問題を 読んで答えましょう。
また時計に長針・短針も書き入れましょう。

①




11時間後の時間は




[時 分] [時 分]

②




7時間前の時間は




[時 分] [時 分]

③




9時間後の時間は




[時 分] [時 分]

④



6時間前の時間は



[時 分] [時 分]