

# 時間と時刻


月 日 時 分 ~ 時 分

秒の読み [2]

名前


**問** 秒針が1周で60秒 分針が1周で30分のストップウォッチがあります。  
針の位置に注意してそれぞれ何分何秒か答えましょう。

①



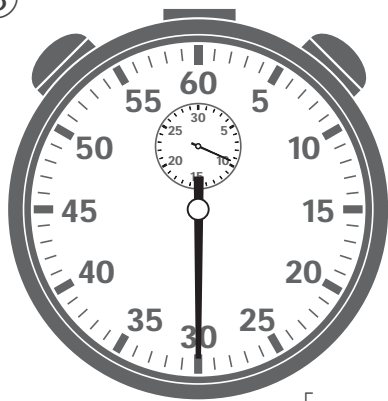
[ 分 秒 ]

②




[ 分 秒 ]

③




[ 分 秒 ]

④



[ 分 秒 ]

⑤



[ 分 秒 ]

⑥




[ 分 秒 ]

# 時間と時刻

## 秒の読み [2]


**問** 秒針が1周で60秒 分針が1周で30分のストップウォッチがあります。  
針の位置に注意してそれぞれ何分何秒か答えましょう。

①




[ 分 秒 ]

②




[ 分 秒 ]

③




[ 分 秒 ]

④




[ 分 秒 ]

⑤



[ 分 秒 ]

⑥



[ 分 秒 ]

# 時間と時刻

秒の読み [2]


**問** 秒針が1周で60秒 分針が1周で30分のストップウォッチがあります。  
針の位置に注意してそれぞれ何分何秒か答えましょう。

①




[ 分 秒 ]

②




[ 分 秒 ]

③




[ 分 秒 ]

④




[ 分 秒 ]

⑤



[ 分 秒 ]

⑥




[ 分 秒 ]

# 時間と時刻

秒の読み [2]

**問** 秒針が1周で60秒 分針が1周で30分のストップウォッチがあります。  
針の位置に注意してそれぞれ何分何秒か答えましょう。

①




[ 分 秒 ]

②




[ 分 秒 ]

③




[ 分 秒 ]

④




[ 分 秒 ]

⑤



[ 分 秒 ]

⑥



[ 分 秒 ]