

# 時間と時刻


月 日 時 分 ~ 時 分

秒の読み [1]

名前


**問** 次の 60秒で1周するストップウォッチは それぞれ何秒を 表していますか。

①



[ びょう 秒 ]

②



[ びょう 秒 ]

③



[ びょう 秒 ]

④




[ びょう 秒 ]

⑤



[ びょう 秒 ]

⑥




[ びょう 秒 ]

⑦



[ びょう 秒 ]

⑧




[ びょう 秒 ]

# 時間と時刻

## 秒の読み [1]


**問** つぎの 60秒で1周するストップウォッチは それぞれ何秒を 表していますか。

①




[ びょう 秒 ]

②




[ びょう 秒 ]

③



[ びょう 秒 ]

④




[ びょう 秒 ]

⑤



[ びょう 秒 ]

⑥




[ びょう 秒 ]

⑦



[ びょう 秒 ]

⑧



[ びょう 秒 ]