

# 時間と時刻こく

2つの時刻の間を求めるとの答えこく もと

**問** はじめの時刻から終わりの時刻までの時間をそれぞれ答えましょう。



[午前 3 時 44 分]

[午前 11 時 49 分]

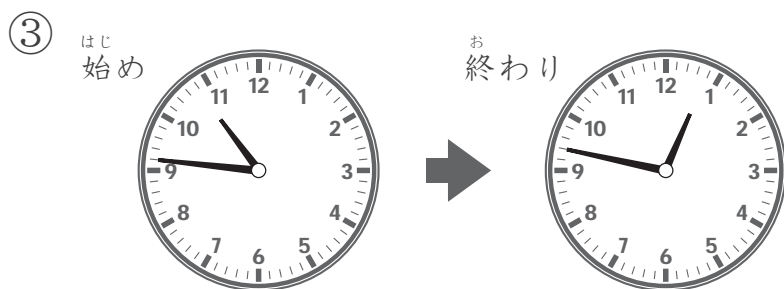
答え 8 時間 5 分



[午後 5 時 33 分]

[午後 10 時 21 分]

答え 4 時間 4 8 分



[午前 10 時 46 分]

[午後 12 時 47 分]

答え 2 時間 1 分



[午前 4 時 23 分]

[午前 9 時 2 分]

答え 4 時間 3 9 分

# 時間と時刻こく

2つの時刻の間を求めるとの答えこく もと

**問** はじめの時刻から 終わりの時刻までの時間を それぞれ答えましょう。



[午前 4 時 47 分]

[午前 10 時 6 分]

答え 5 時間 19 分



[午前 8 時 23 分]

[午後 12 時 27 分]

答え 4 時間 4 分



[午後 1 時 19 分]

[午後 5 時 56 分]

答え 4 時間 37 分



[午前 2 時 31 分]

[午前 8 時 22 分]

答え 5 時間 51 分

# 時間と時刻こく

2つの時刻の間を求めるとの答えこく もと

**問** はじめの時刻から 終わりの時刻までの時間を それぞれ答えましょう。

① はじめ 終わり



[午前 1 時 34 分] [午前 9 時 48 分] 答え 8 時間 14 分

② はじめ 終わり



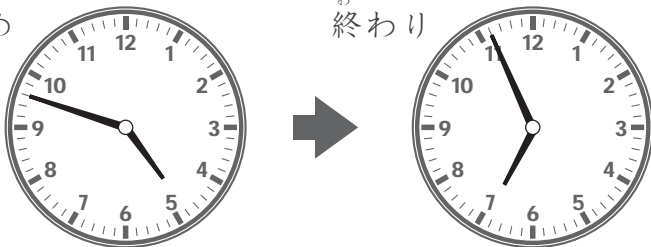
[午前 2 時 2 分] [午前 6 時 8 分] 答え 4 時間 6 分

③ はじめ 終わり



[午後 11 時 27 分] [午前 12 時 51 分] 答え 1 時間 24 分

④ はじめ 終わり



[午後 4 時 48 分] [午後 6 時 56 分] 答え 2 時間 8 分


# 時間と時刻

2つの時刻の間を求めるとの答え


**問** はじめの時刻から 終わりの時刻までの時間を それぞれ答えましょう。

①

はじめ



おわり




[午後 5 時 43 分]

[午前 12 時 1 分]


答え 6 時間 18 分

②

はじめ



おわり




[午前 4 時 33 分]

[午前 9 時 28 分]


答え 4 時間 55 分

③

はじめ



おわり




[午後 6 時 4 分]

[午後 11 時 48 分]


答え 5 時間 44 分

④

はじめ



おわり



[午前 3 時 52 分]

[午前 10 時 36 分]

答え 6 時間 44 分