

# 時間と時刻こく

2つの時刻の間を求めるとの答えこく もと

**問** はじめの時刻から 終わりの時刻までの時間を それぞれ答えましょう。

①

はじめ  →  終わり

[午前 1時50分] [午前 9時10分] 答え 7時間20分

②

はじめ  →  終わり


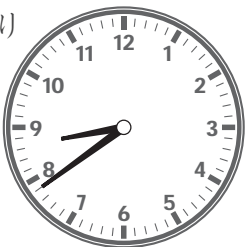
[午前 6時55分] [午前 10時25分] 答え 3時間30分

③

はじめ  →  終わり

[午後 4時43分] [午後 6時42分] 答え 1時間59分

④

はじめ  →  終わり

[午後 2時7分] [午後 8時39分] 答え 6時間32分

# 時間と時刻

2つの時刻の間を求めるとの答え

**問** はじめの時刻から終わりの時刻までの時間をそれぞれ答えましょう。

①

はじめ  →  終わり

[午前 1 時 30 分] [午前 10 時 50 分] 答え 9 時間 20 分

②

はじめ  →  終わり

[午後 6 時 40 分] [午後 11 時 45 分] 答え 5 時間 5 分

③

はじめ  →  終わり

[午前 5 時 26 分] [午前 8 時 22 分] 答え 2 時間 56 分

④

はじめ  →  終わり

[午後 7 時 2 分] [午後 11 時 19 分] 答え 4 時間 17 分

# 時間と時刻こく

2つの時刻の間を求めるとの答えこく もと

**問** はじめの時刻から終わりの時刻までの時間をそれぞれ答えましょう。

①

はじめ  →  おわり

[午後 1 時 40 分] [午後 11 時 30 分] 答え 9 時間 50 分

②

はじめ  →  おわり

[午前 3 時 5 分] [午前 10 時 55 分] 答え 7 時間 50 分

③

はじめ  →  おわり

[午後 2 時 54 分] [午前 12 時 12 分] 答え 9 時間 18 分

④

はじめ  →  おわり

[午前 4 時 36 分] [午前 9 時 52 分] 答え 5 時間 16 分

# 時間と時刻こく

2つの時刻の間を求めるとの答えこく もと



**問** はじめの時刻から 終わりの時刻までの時間を それぞれ答えましょう。

①

はじめ  →  終わり

[午前 5 時 10 分] [午前 10 時 30 分] 答え 5 時間 20 分

②

はじめ  →  終わり

[午後 2 時 15 分] [午後 8 時 20 分] 答え 6 時間 5 分

③

はじめ  →  終わり

[午後 5 時 52 分] [午後 11 時 33 分] 答え 5 時間 41 分

④

はじめ  →  終わり

[午前 3 時 59 分] [午後 12 時 18 分] 答え 8 時間 19 分