

分数

あらわ
分数の表し方

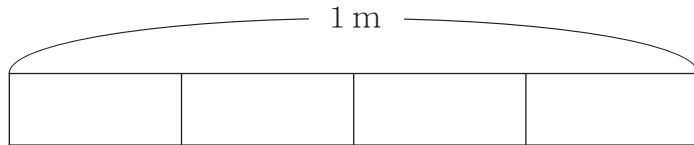
月 日 時 分 ~ 時 分

名前

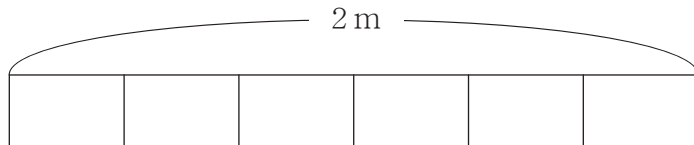
問

それぞれの長さの分だけ テープの図に 色をぬりましょう。

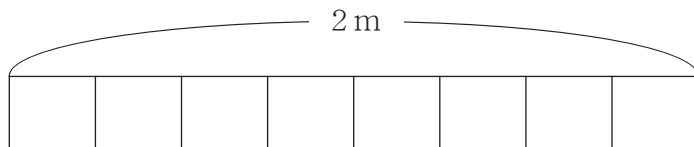
① $\frac{2}{4}$ m



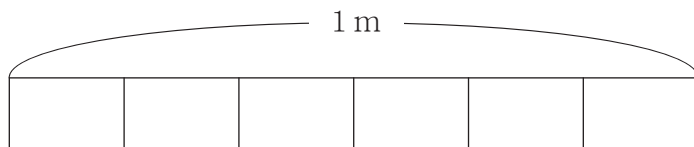
② $\frac{1}{3}$ m



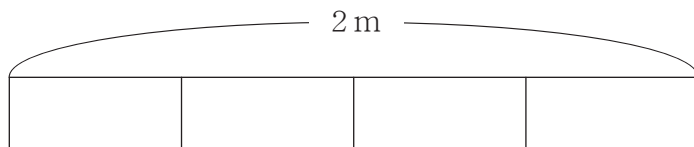
③ $\frac{3}{4}$ m



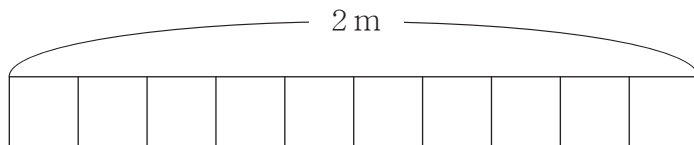
④ $\frac{3}{6}$ m



⑤ $\frac{1}{2}$ m



⑥ $\frac{4}{5}$ m



分数

あらわ 分数の表し方

問 それぞれの長さの分だけ テープの図に 色をぬりましょう。

