

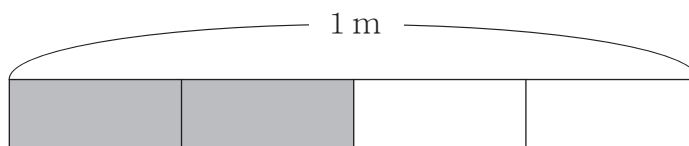
# 分数の答え

あらわ  
分数の表し方

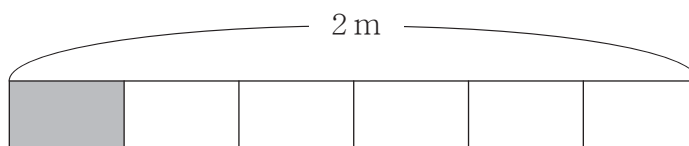
月 日 時 分 ~ 時 分  
名前

**問** それぞれの長さの分だけ テープの図に 色をぬりましょう。

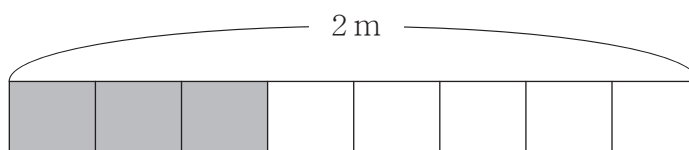
①  $\frac{2}{4}$  m



②  $\frac{1}{3}$  m



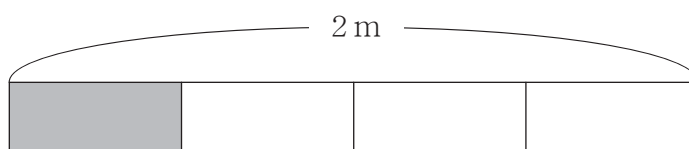
③  $\frac{3}{4}$  m



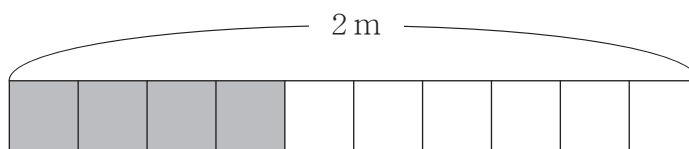
④  $\frac{3}{6}$  m



⑤  $\frac{1}{2}$  m



⑥  $\frac{4}{5}$  m



# 分数の答え

あらわ  
分数の表し方

**問** それぞれの長さの分だけ テープの図に 色をぬりましょう。

