

分数

あらわ
分数の表し方

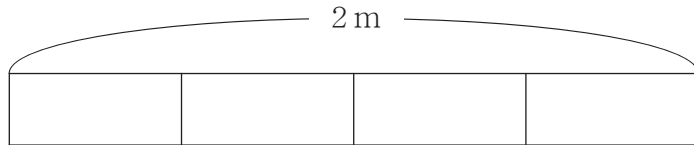
月 日 時 分 ~ 時 分

名前

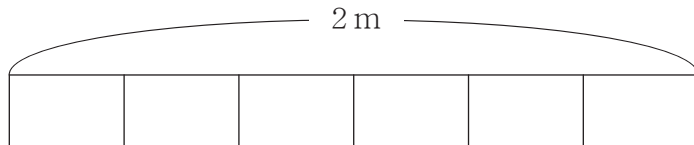
問

それぞれの長さの分だけ 2mのテープの図に 色をぬりましょう。

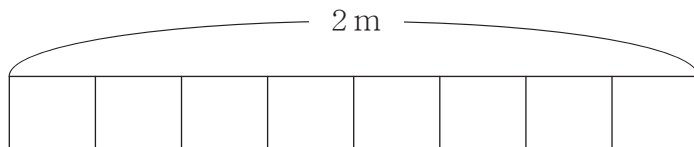
① $\frac{1}{2}$ m



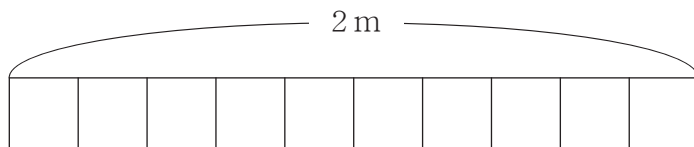
② $\frac{1}{3}$ m



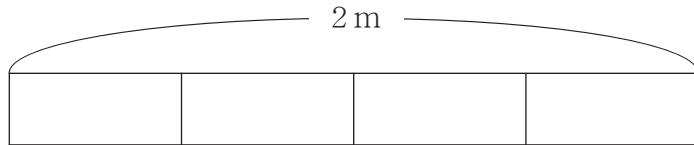
③ $\frac{1}{4}$ m



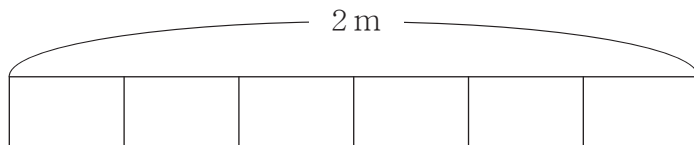
④ $\frac{1}{5}$ m



⑤ 1 m



⑥ $\frac{2}{3}$ m



分数

あらわ 分数の表し方

問 それぞれの長さの分だけ 2mのテープの図に 色をぬりましょう。

