

# 分数

あらわ  
分数の表し方

月 日 時 分 ~ 時 分

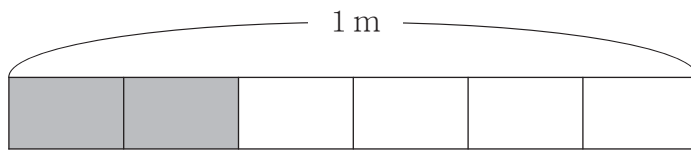
名前

**問**

それぞれのテープを下のよう<sup>に</sup>に 色と 色に分けました。

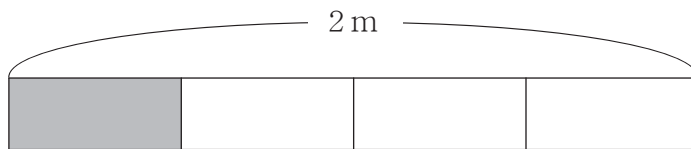
色にぬ<sup>ぶ</sup>った部分の長さを分数や整数<sup>つか</sup>を使って答えましょう。

①



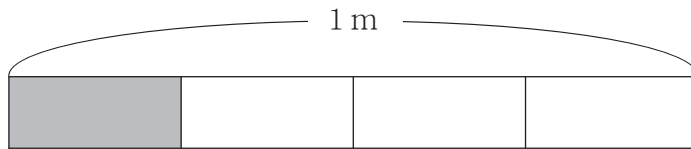
\_\_\_\_\_ m

②



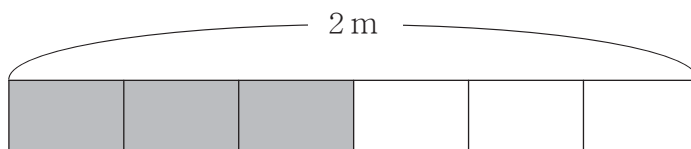
\_\_\_\_\_ m

③



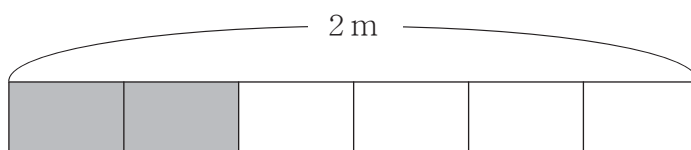
\_\_\_\_\_ m

④



\_\_\_\_\_ m

⑤



\_\_\_\_\_ m

# 分数

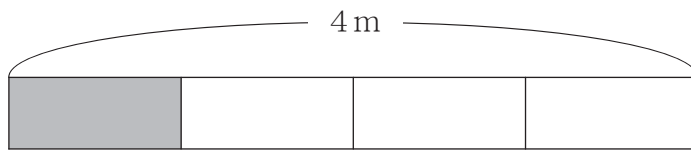
## あらわ 分数の表し方

**問**

それぞれのテープを下ののように  色と  色に分けました。

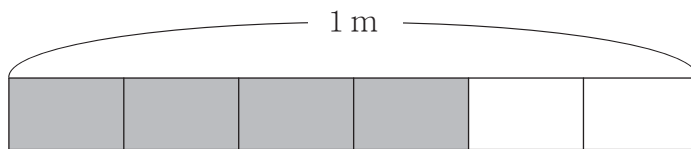
色にぬった部分の長さを 分数や整数<sup>つか</sup>を使って答えましょう。

①



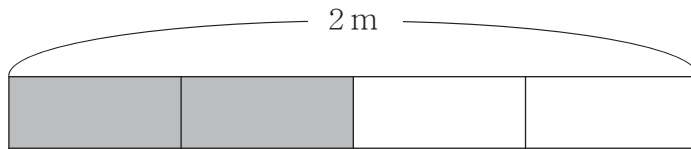
\_\_\_\_\_ m

②



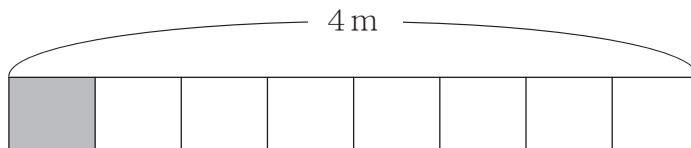
\_\_\_\_\_ m

③



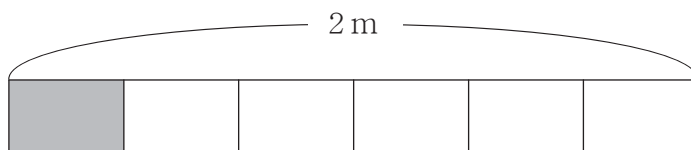
\_\_\_\_\_ m

④



\_\_\_\_\_ m

⑤



\_\_\_\_\_ m