

分数の答え

あらわ
分数の表し方

月 日 時 分 ~ 時 分

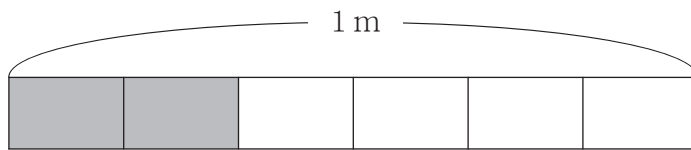
名前

問

それぞれのテープを下のよう^にに ■色と □色に分けました。

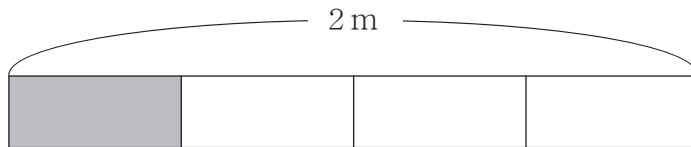
■色にぬ^ぶった部分の長さを分数や整数^{つか}を使って答えましょう。

①



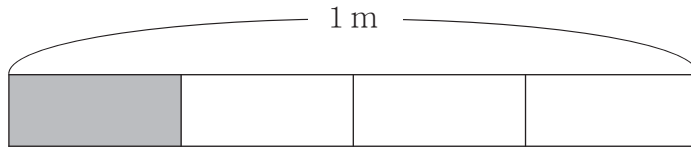
$$\frac{2}{6} \text{ m}$$

②



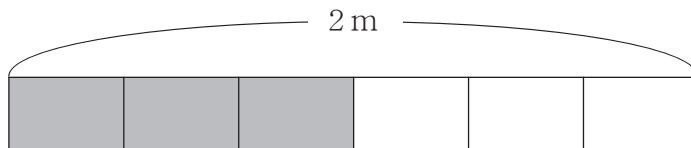
$$\frac{1}{2} \text{ m}$$

③



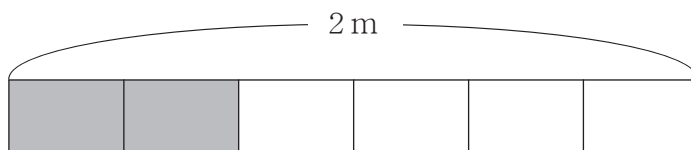
$$\frac{1}{4} \text{ m}$$

④



$$1 \text{ m}$$

⑤



$$\frac{2}{3} \text{ m}$$

分数の答え

あらわ
分数の表し方

問 それぞれのテープを下のよう^に ■色と □色に分けました。
 ■色にぬった部分^ぶの長さ^を 分数や整数^{つか}を使って答えましょう。

