

分数

あらわ
分数の表し方

月 日 時 分 ~ 時 分

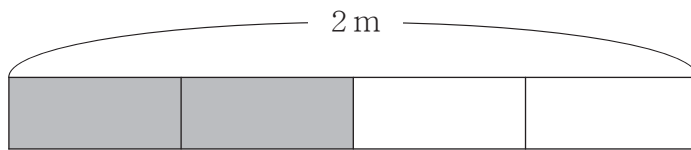
名前

問

2 mのテープを それぞれ下ののように ■色と □色に分けました。

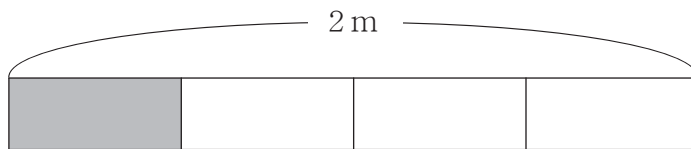
■色にぬった部分の長さを 分数や整数^{つか}を使って答えましょう。

①



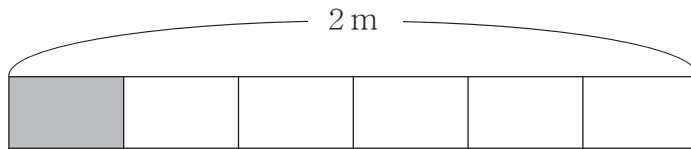
_____ m

②



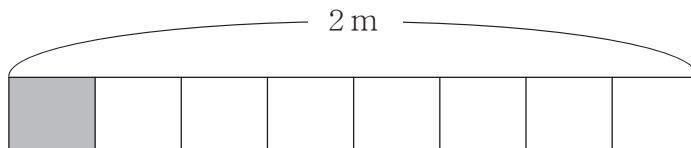
_____ m

③



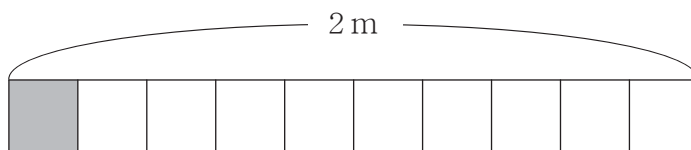
_____ m

④



_____ m

⑤






_____ m

分数

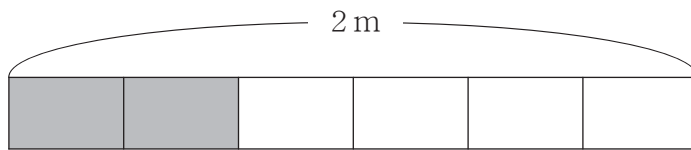
あらわ 分数の表し方

問

2 mのテープをそれぞれ下ののように  色と  色に分けました。

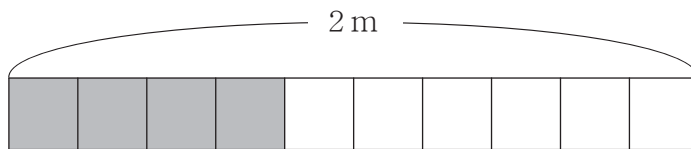
 色にぬった部分の長さを分数や整数^{つか}を使って答えましょう。

①



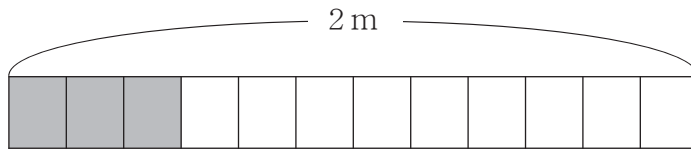
_____ m

②



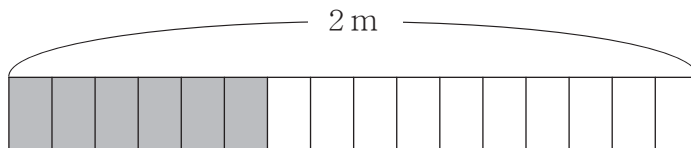
_____ m

③



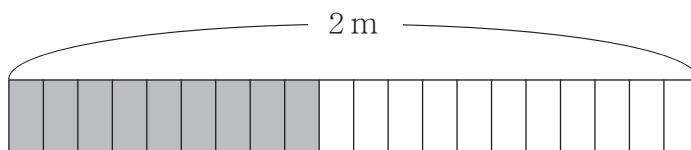
_____ m

④



_____ m

⑤



_____ m