

# 分数の答え

あらわ  
分数の表し方

月 日 時 分 ~ 時 分

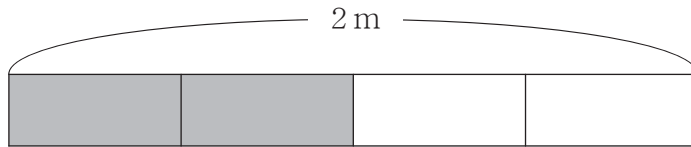
名前

**問**

2 mのテープをそれぞれ下のように 色と 色に分けました。

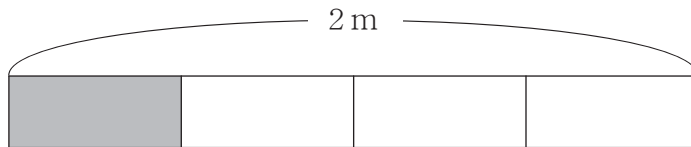
色にぬった部分の長さを分数や整数を使って答えましょう。

①



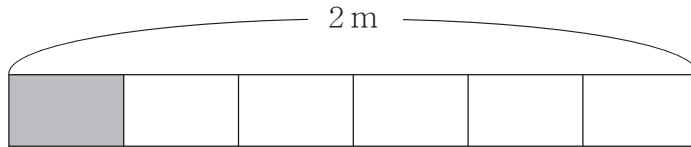
1 m

②



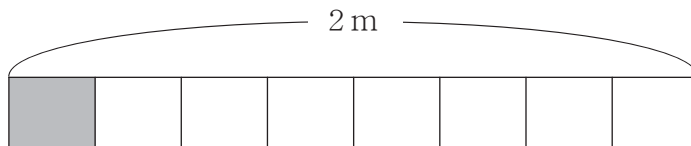
$\frac{1}{2}$  m

③



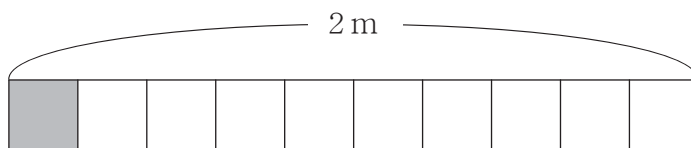
$\frac{1}{3}$  m

④



$\frac{1}{4}$  m

⑤



$\frac{1}{5}$  m

# 分数の答え

あらわ  
分数の表し方

**問** 2mのテープをそれぞれ下ののように  色と  色に分けました。  
 色にぬった部分の長さを分数や整数<sup>つか</sup>を使って答えましょう。

