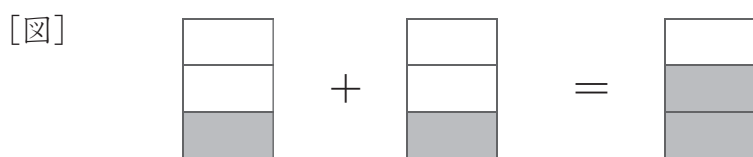


分数の答え

図で答える分数の足し算

問 分数の計算式にあうように、下の図に色をぬりましょう。

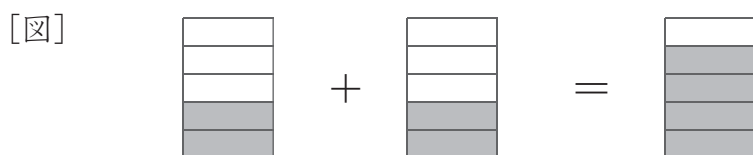
① [計算式] $\frac{1}{3} + \frac{1}{3} = \frac{2}{3}$



② [計算式] $\frac{2}{4} + \frac{1}{4} = \frac{3}{4}$



③ [計算式] $\frac{2}{5} + \frac{2}{5} = \frac{4}{5}$



④ [計算式] $\frac{2}{6} + \frac{3}{6} = \frac{5}{6}$



⑤ [計算式] $\frac{4}{7} + \frac{2}{7} = \frac{6}{7}$

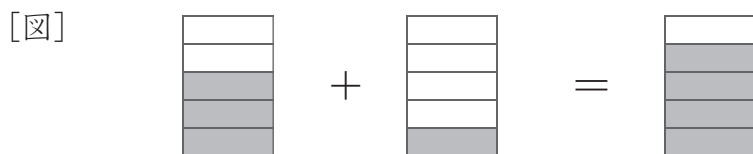


分数の答え

図で答える分数の足し算

問 分数の計算式にあうように、下の図に色をぬりましょう。

① [計算式] $\frac{3}{5} + \frac{1}{5} = \frac{4}{5}$



② [計算式] $\frac{4}{10} + \frac{5}{10} = \frac{9}{10}$



③ [計算式] $\frac{3}{9} + \frac{3}{9} = \frac{6}{9}$



④ [計算式] $\frac{2}{6} + \frac{2}{6} = \frac{4}{6}$



⑤ [計算式] $\frac{2}{8} + \frac{4}{8} = \frac{6}{8}$

