

分数

あらわ
分数の表し方

月 日 時 分 ~ 時 分

名前

問

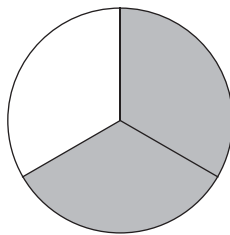
それぞれの図形を1の大きさとして、

■色にぬられた部分の^ぶ大きさを分数を使って表しましょう。

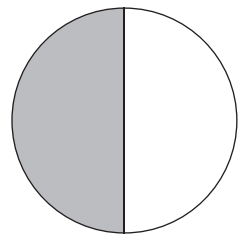
①



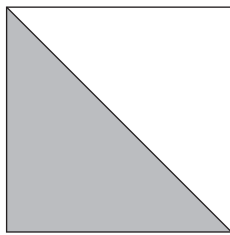
②



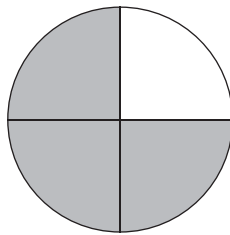
③



④



⑤



⑥




分数

あらわ 分数の表し方

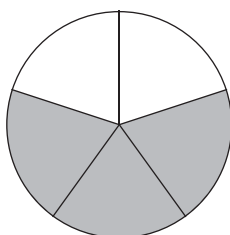
問 それぞれの図形を1の大きさとして、

■色にぬられた部分の^ぶ大きさを分数を使って表しましょう。

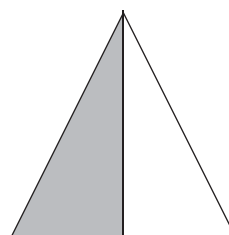
①




②



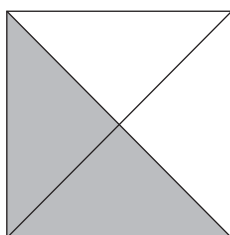
③




④



⑤



⑥



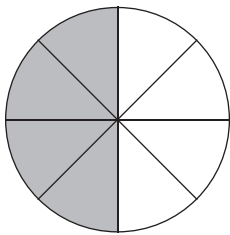
分数

あらわ 分数の表し方


問 それぞれの図形を1の大きさとして、

■色にぬられた部分の^ぶ大きさを分数を使って表しましょう。

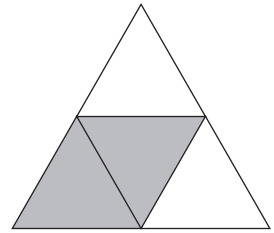
①



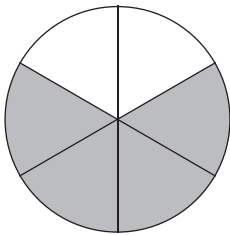
②



③



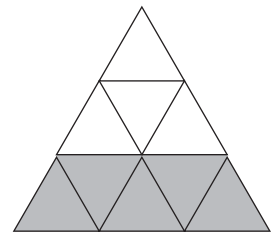
④



⑤



⑥



分数

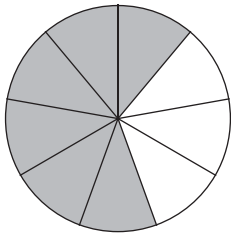
あらわ 分数の表し方

問

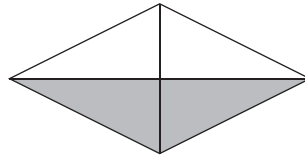
それぞれの図形を1の大きさとして、

■色にぬられた部分の^ぶ大きさを分数を使って表しましょう。


①



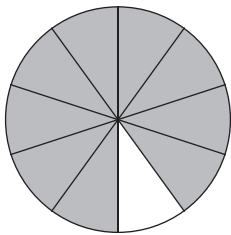
②



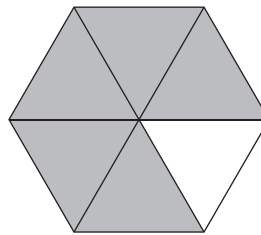
③



④



⑤



⑥

