


分数

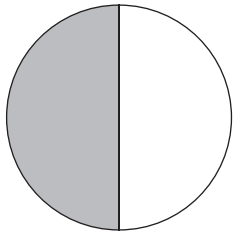
あらわ
分数の表し方

月 日 時 分 ~ 時 分

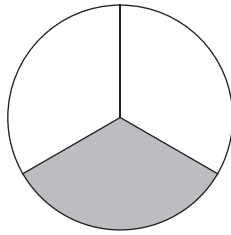
名前

問  色にぬられた部分の大きさは元の大きさの何分の一ですか。
それぞれ分数で答えましょう。

①



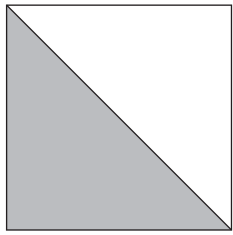
②



③



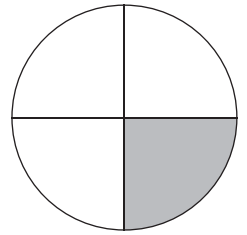
④



⑤



⑥



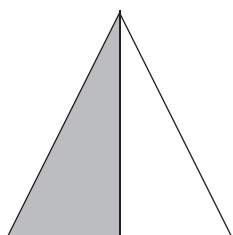
分数

あらわ 分数の表し方

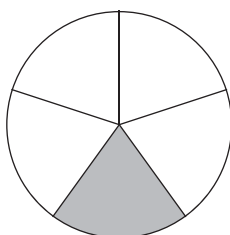
問 ■色にぬられた部分の^ぶ大きさは元の大きさの何分の一ですか。

それぞれ分数で答えましょう。

①




②



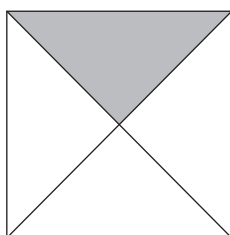
③




④



⑤



⑥




分数

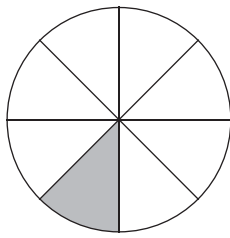
あらわ 分数の表し方

問 ■色にぬられた部分の^ぶ大きさは元の大きさの何分の一ですか。
それぞれ分数で答えましょう。

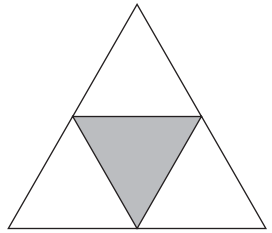
①



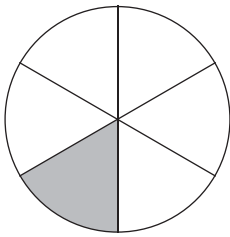
②



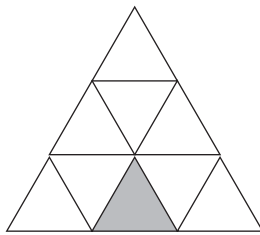
③




④



⑤



⑥



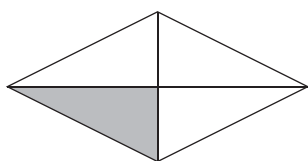
分数

あらわ 分数の表し方

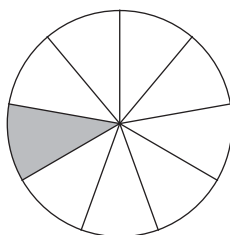
問 ■色にぬられた部分の^ぶ大きさは元の大きさの何分の一ですか。

それぞれ分数で答えましょう。


①



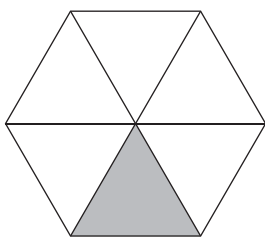
②



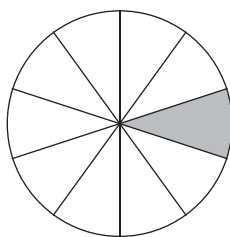
③



④



⑤



⑥

