

分数

あらわ
分数の表し方

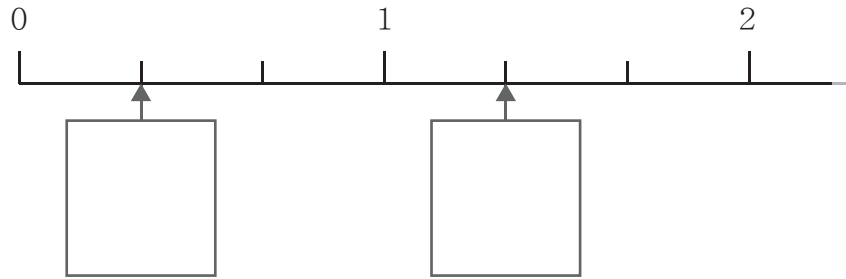
月 日 時 分 ~ 時 分

名前

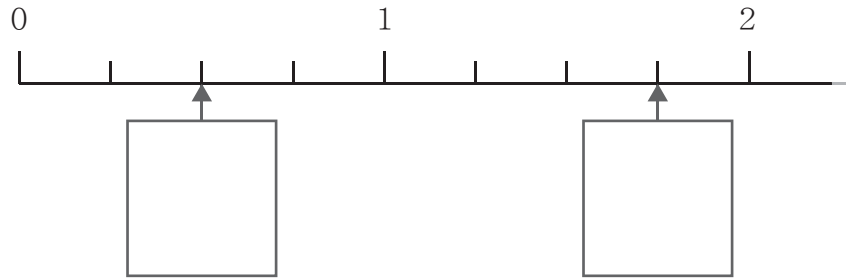
問

つぎ じるし ぶ
次の数直線の 矢印の部分 を 分数 で 答え ませう。

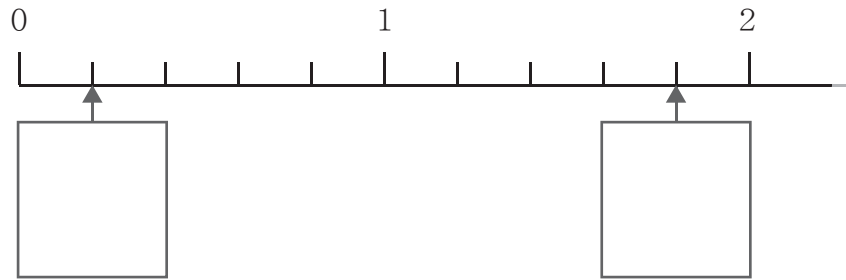
①



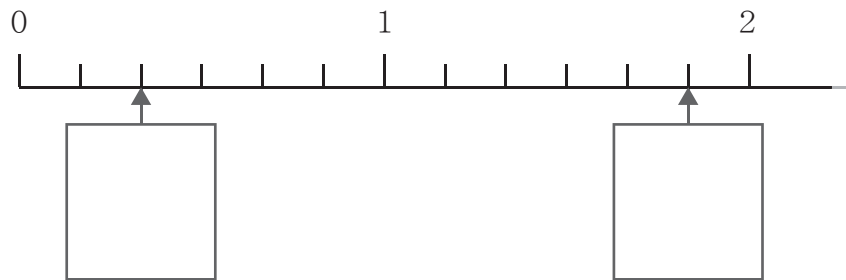
②



③



④



分数

あらわ 分数の表し方

問

つぎ 次の数直線の 矢印の部分を 分数で答えましょう。

