

# 時計の学習

が 月 日 時 分 ~ 時 分


なまえ  
名前

1 それぞれの時間まであと何分か時計を見て答えましょう。

① 1時まであと何分？



② 3時まであと何分？



③ 5時まであと何分？



④ 7時まであと何分？



⑤ 9時まであと何分？



⑥ 11時まであと何分？



# 時計の学習

が 月 日 時 分 ~ 時 分

なまえ  
名前

1 それぞれの時間まであと何分か時計を見て答えましょう。

① 2時まであと何分？



② 4時まであと何分？



③ 6時まであと何分？



④ 8時まであと何分？



⑤ 10時まであと何分？



⑥ 12時まであと何分？



# 時計の学習

が 月 日 時 分 ~ 時 分


なまえ  
名前

1 それぞれの時間まであと何分か時計を見て答えましょう。

① 11時まであと何分?



② 9時まであと何分?



③ 7時まであと何分?



④ 5時まであと何分?



⑤ 3時まであと何分?



⑥ 1時まであと何分?



# 時計の学習

が 月 日 時 分 ~ 時 分


なまえ  
名前

1 それぞれの時間まであと何分か時計を見て答えましょう。

① 12時まであと何分?




② 10時まであと何分?



③ 8時まであと何分?



④ 6時まであと何分?



⑤ 4時まであと何分?



⑥ 2時まであと何分?

