

時計のがくしゅう

長針と短針を記入する問題


月 日 時 分 ~ 時 分

なまえ


1

時間を読んで、長い針と短い針を書きましょう。


① 7時10分




② 3時40分




③ 11時50分




④ 1時15分



⑤ 8時35分



⑥ 12時45分



時計のがくしゅう


長針と短針を記入する問題

月 日 時 分 ~ 時 分


なまえ

1 時間を読んで、長い針と短い針を書きましょう。


① 2時00分




② 6時05分




③ 10時20分




④ 4時55分



⑤ 9時30分



⑥ 5時25分



時計のがくしゅう

長針と短針を記入する問題


月 日 時 分 ~ 時 分

なまえ


1

時間を読んで、長い針と短い針を書きましょう。


① 10時50分




② 5時55分




③ 2時05分




④ 8時15分



⑤ 6時35分



⑥ 12時10分



時計のがくしゅう

長針と短針を記入する問題


月 日 時 分 ~ 時 分

なまえ


1

時間を読んで、長い針と短い針を書きましょう。


① 1時40分




② 4時25分




③ 9時00分




④ 11時20分



⑤ 7時45分



⑥ 3時50分



時計のがくしゅう

長針と短針を記入する問題


月 日 時 分 ~ 時 分

なまえ


1

時間を読んで、長い針と短い針を書きましょう。


① 9時50分




② 6時45分




③ 4時15分




④ 3時20分



⑤ 2時40分



⑥ 5時35分



時計のがくしゅう


長針と短針を記入する問題

月 日 時 分 ~ 時 分


なまえ

1 時間を読んで、長い針と短い針を書きましょう。


① 12時25分




② 1時00分




③ 8時55分




④ 10時30分



⑤ 7時35分



⑥ 11時05分



時計のがくしゅう

長針と短針を記入する問題


月 日 時 分 ~ 時 分

なまえ


1

時間を読んで、長い針と短い針を書きましょう。


① 8時20分




② 2時55分




③ 7時30分




④ 9時15分



⑤ 5時10分



⑥ 1時50分



時計のがくしゅう

長針と短針を記入する問題


月 日 時 分 ~ 時 分

なまえ


1

時間を読んで、長い針と短い針を書きましょう。


① 3時00分




② 12時40分




③ 6時25分




④ 4時45分



⑤ 11時35分



⑥ 10時05分



時計のがくしゅう

長針と短針を記入する問題


月 日 時 分 ~ 時 分

なまえ


1

時間を読んで、長い針と短い針を書きましょう。


① 4時35分




② 10時25分




③ 7時00分




④ 1時20分



⑤ 11時45分



⑥ 3時10分



時計のがくしゅう

長針と短針を記入する問題


月 日 時 分 ~ 時 分

なまえ


1

時間を読んで、長い針と短い針を書きましょう。


① 6時15分




② 8時55分




③ 12時30分



④ 2時50分



⑤ 9時40分



⑥ 5時05分

