

時計の学習

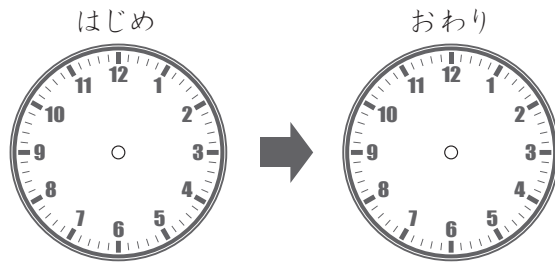
時間を計算する文章問題

月 日 時 分 ~ 時 分

名前

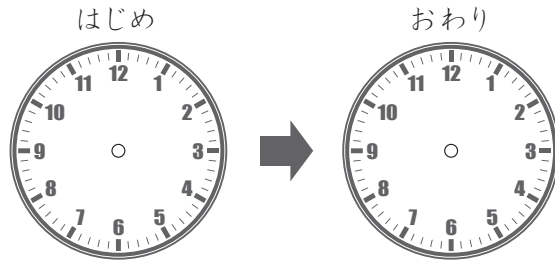
問 文章を読んで問題にあうように時計の はりを書き 答えましょう。

1 弟は公園で午後3時から午後5時まであそびました。
弟はなん時間公園であそびましたか。



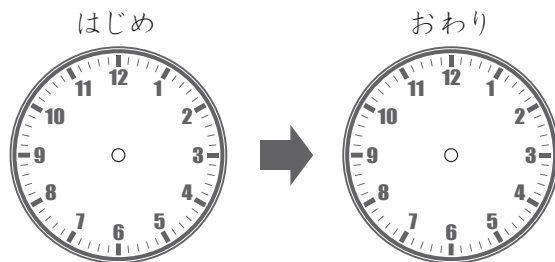
こたえ

2 妹は午後1時から午後4時までお昼ねをしました。
妹はなん時間お昼ねをしましたか。



こたえ

3 家を午前11時に出て午後2時に海につきました。
家から海につくまでなん時間かかりましたか。



こたえ

時計の学習

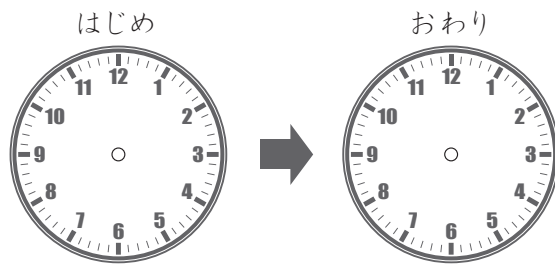
時間を計算する文章問題

月 日 時 分 ~ 時 分

名前

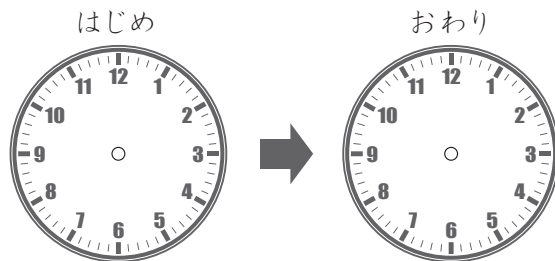
問 文章を読んで問題にあうように時計の はりを書き 答えましょう。

1 夏休みのある日 午前8時から午前10時までべん強をしました。
この日はなん時間べん強をしましたか。




こたえ

2 家で しおひがりに行き 午前10時から午後2時まで貝をとりました。
貝をとっていた時間はなん時間ですか。



こたえ

3 午前8時に家を出て、午後3時にふじ山につきました。
ふじ山につくまでなん時間かかりましたか。



こたえ