

時計の学習

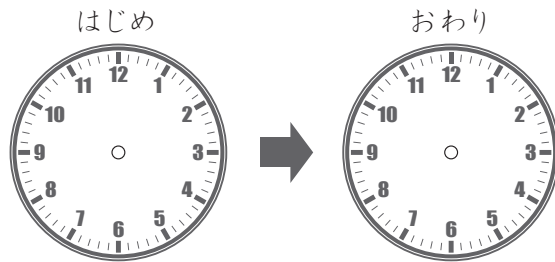
時間を計算する文章問題

月 日 時 分 ~ 時 分

名前

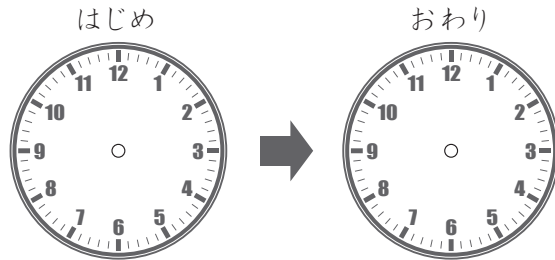
問 文章を読んで問題にあうように時計のほりを書き答えましょう。

1 きこう公園で 11時から 16時まで あそびました。
公園で なん時間 あそびましたか。



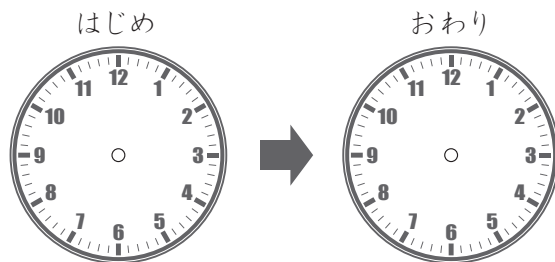
こたえ

2 つかれていたので 15時から 16時まで お昼ねをしました。
なん時間 昼ねをしましたか。



こたえ

3 家を 9時に出で 13時に海につきました。
家から海につくまで なん時間 かかりましたか。



こたえ

時計の学習

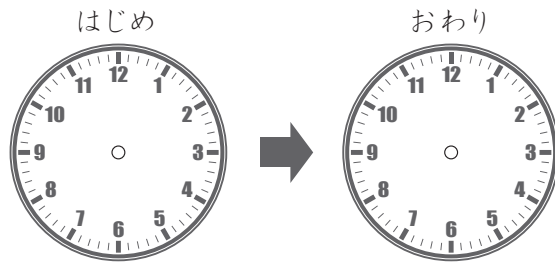
時間を計算する文章問題

が 月 に 日 じ 時 ふん 分 ～ じ 時 ふん 分

なまえ
名前

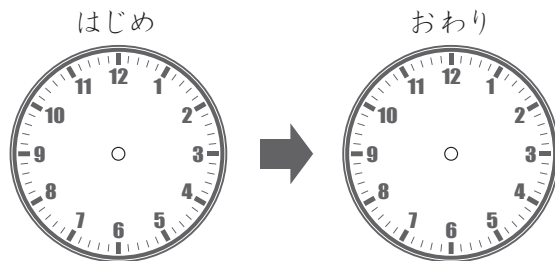
問 文章を読んで問題にあうように時計の はりを書き 答えましょう。

1 夏休みのある日 9時から 11時まで べんきょうをしました。
なん時間 べんきょうをしていましたか。



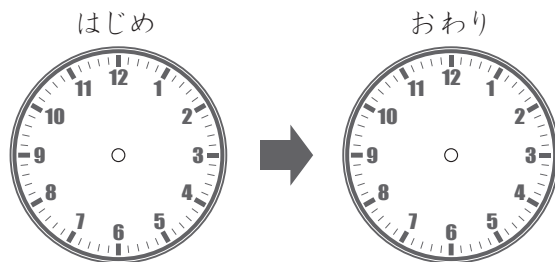
こたえ

2 かぞくで しおひがりに 行き 11時から 15時まで 貝をとりました。
なん時間 貝をとっていましたか。



こたえ

3 10時に 家を出て、 14時に ふじ山につきました。
ふじ山につくまで なん時間かかりましたか。



こたえ