

時計の学習


30分前 30分後の時間は？

が 月 日 時 分 ~ 時 分


な 名前

1 それぞれの 時間を 答え、時計のはりも 書きましょう。


① 1時15分の30分前は？




② 6時25分の30分後は？




③ 10時05分の30分前は？




④ 8時45分の30分前は？



⑤ 4時35分の30分後は？



⑥ 12時55分の30分後は？



時計の学習


30分前 30分後の時間は？

が 月 に 日 じ 時 ふん 分 ~ じ 時 ふん 分


な まえ
名前

1 それぞれの 時間を 答え、時計のはりも 書きましょう。


① 3時10分の30分前は？




② 7時50分の30分前は？




③ 11時05分の30分前は？




④ 9時35分の30分後は？



⑤ 2時45分の30分後は？



⑥ 5時40分の30分後は？



時計の学習


30分前 30分後の時間は？

が 月 日 時 分 ~ 時 分


な 名前

1 それぞれの 時間を 答え、時計のはりも 書きましょう。


① 4時45分の30分後は？




② 8時55分の30分後は？




③ 12時35分の30分後は？




④ 10時20分の30分前は？



⑤ 1時45分の30分前は？



⑥ 6時10分の30分前は？



時計の学習


30分前 30分後の時間は？

が 月 日 時 分 ~ 時 分


名前

1 それぞれの時間を答え、時計のはりも書きましょう。


① 2時20分の30分前は？




② 9時10分の30分後は？




③ 5時15分の30分後は？



④ 3時40分の30分後は？



⑤ 7時35分の30分前は？



⑥ 11時15分の30分前は？

