

なが 長さ

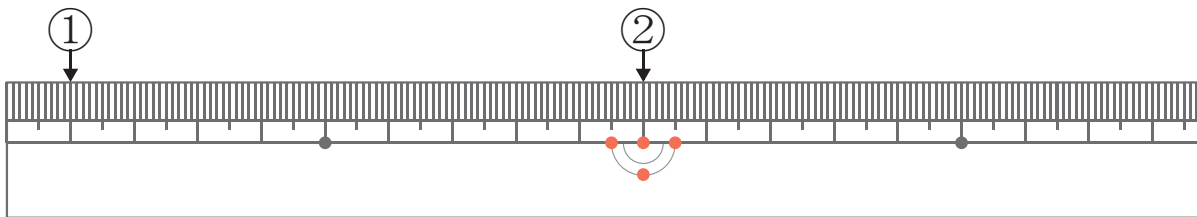
2点の長さを計算

が 月 につ 日 に ち じ 時 ぶん 分 ~ じ 時 ぶん 分

なまえ
名前

問 まず ①と②の長さを答え、次に①と②の間の長さを計算しましょう。

1



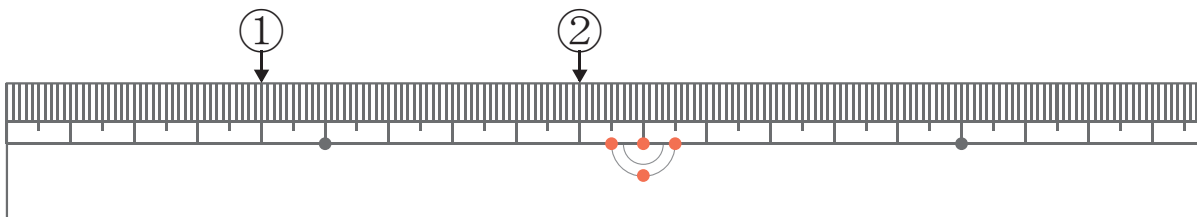
①の長さ

②の長さ

しき
式

こた
答え

2



①の長さ

②の長さ

しき
式

こた
答え

なが 長さ

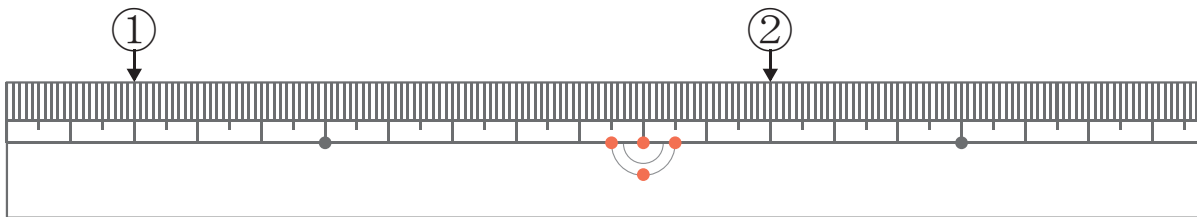
てん の なが を けい さん
2 点 の 長 さ を 計 算

が つ 月 に ち 日 じ 時 ふ ん 分 ~ じ 時 ふ ん 分

な ま え
名 前

問 まず ① と ② の 長 さ を 答 え、次 に ① と ② の 間 の 長 さ を 計 算 し ま し ょ う。

1



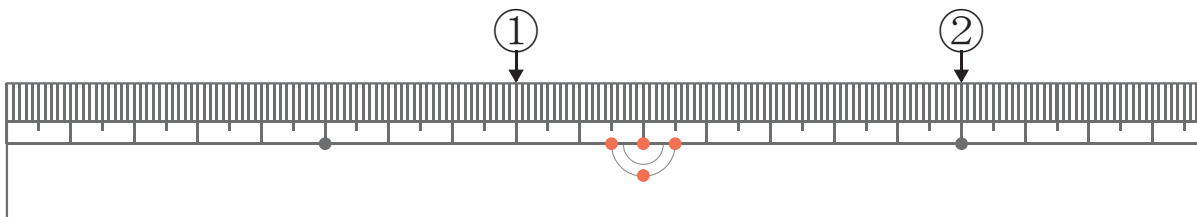
① の 長 さ

② の 長 さ

し き 式

こ た 答 え

2



① の 長 さ

② の 長 さ

し き 式

こ た 答 え

なが 長さ

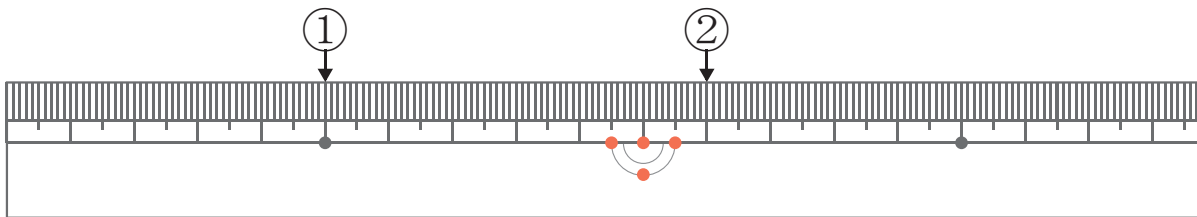
てん の なが さを けい さん
2点の長さを計算

が っ 月 に ち 日 じ 時 ふ ん 分 ~ じ 時 ふ ん 分

な ま え
名前

問 まず ①と②の長さを答え、次に①と②の間の長さを計算しましょう。

1



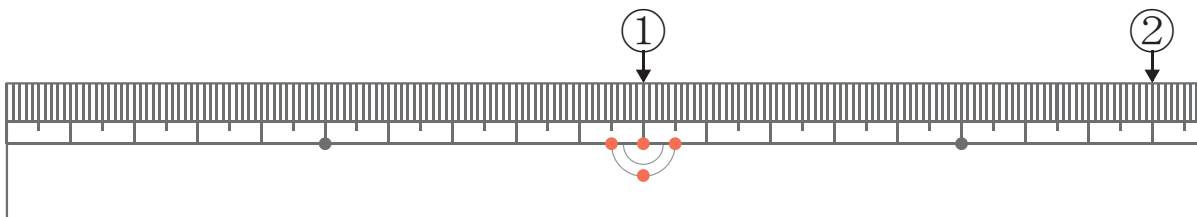
①の長さ

②の長さ

しき
式

こた
答え

2



①の長さ

②の長さ

しき
式

こた
答え

なが 長さ

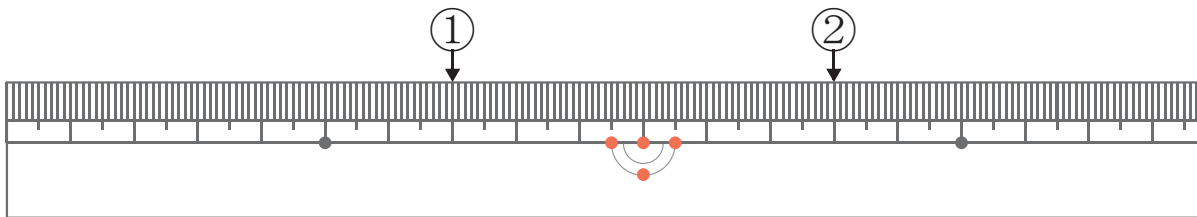
てん の なが を けい さん
2点の長さを計算

が っ 月 に ち 日 じ 時 ふ ん 分 ~ じ 時 ふ ん 分

な ま え
名前

問 まず ①と②の長さを答え、次に①と②の間の長さを計算しましょう。

1



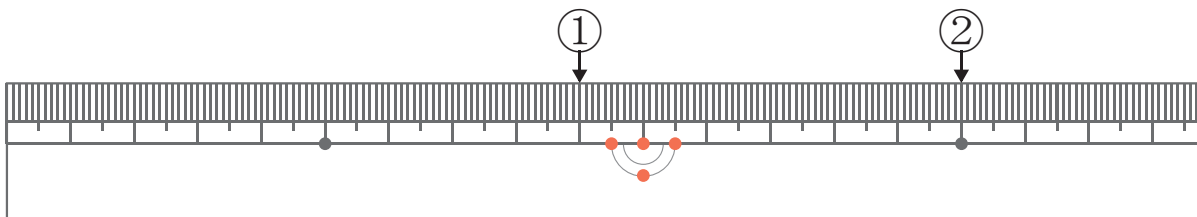
①の長さ

②の長さ

しき
式

こた
答え

2



①の長さ

②の長さ

しき
式

こた
答え

なが 長さ

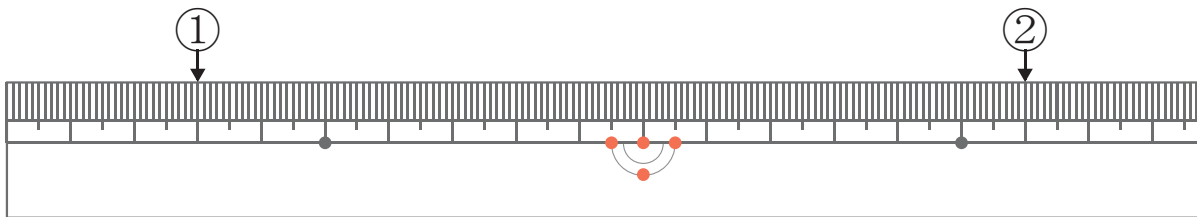
てん の なが を けい さん
2点の長さを計算

が っ 月 に ち 日 じ 時 ふ ん 分 ~ じ 時 ふ ん 分

な ま え
名前

問 まず ①と②の長さを答え、次に①と②の間の長さを計算しましょう。

1



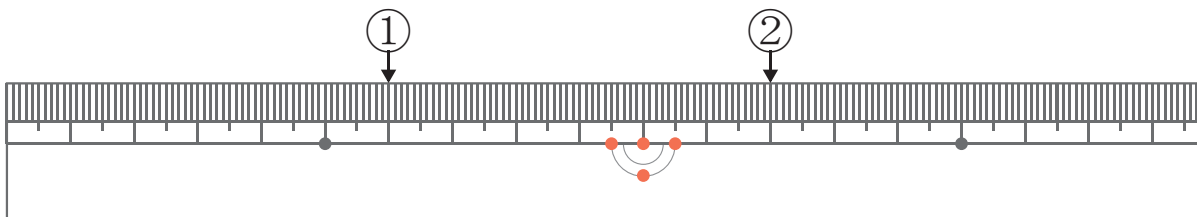
①の長さ

②の長さ

しき
式

こた
答え

2



①の長さ

②の長さ

しき
式

こた
答え