

なが 長さ

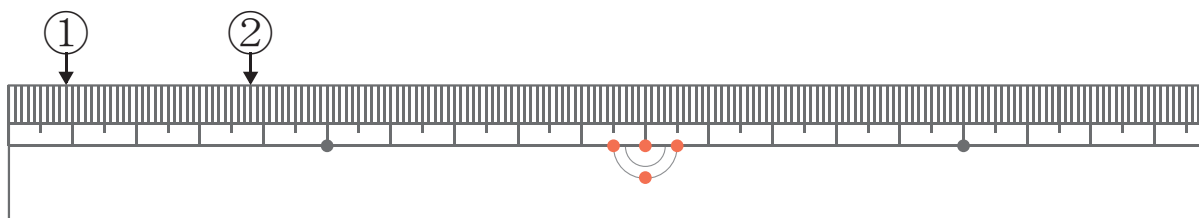
2点の長さを計算

が 月 につ 日 に ち じ 時 ぶん 分 ~ じ 時 ぶん 分

なまえ
名前

問 まず ①と②の長さを答え、次に①と②の間の長さを計算しましょう。

1



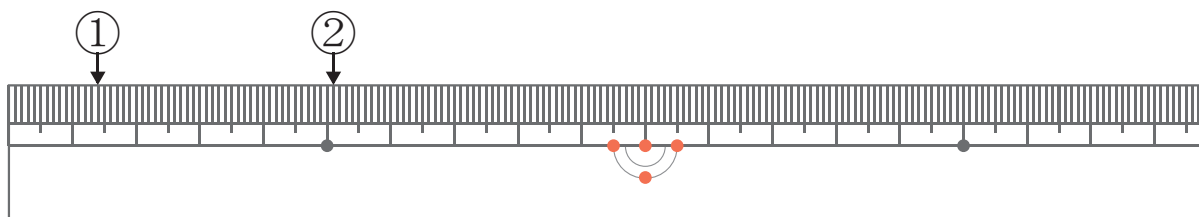
①の長さ

②の長さ

しき
式

こた
答え

2



①の長さ

②の長さ

しき
式

こた
答え

なが 長さ

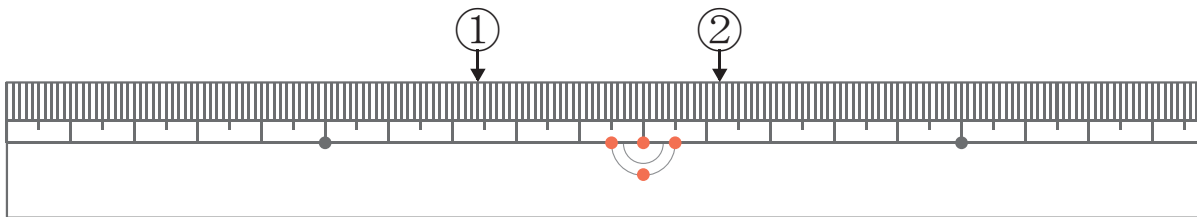
2点の長さを計算

が 月 につ 日 に じ 時 ぶん 分 ~ じ 時 ぶん 分

なまえ
名前

問 まず ①と②の長さを答え、次に①と②の間の長さを計算しましょう。

1



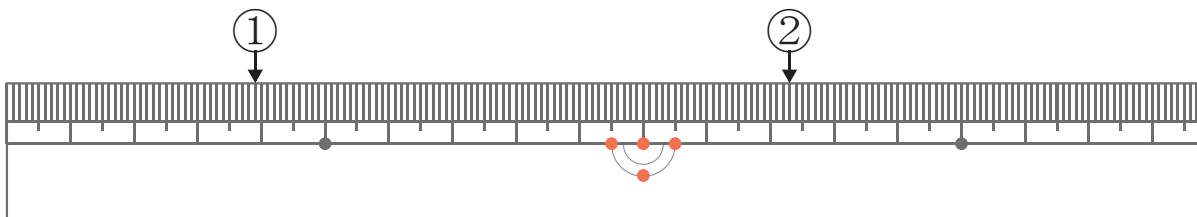
①の長さ

②の長さ

しき
式

こた
答え

2



①の長さ

②の長さ

しき
式

こた
答え

なが 長さ

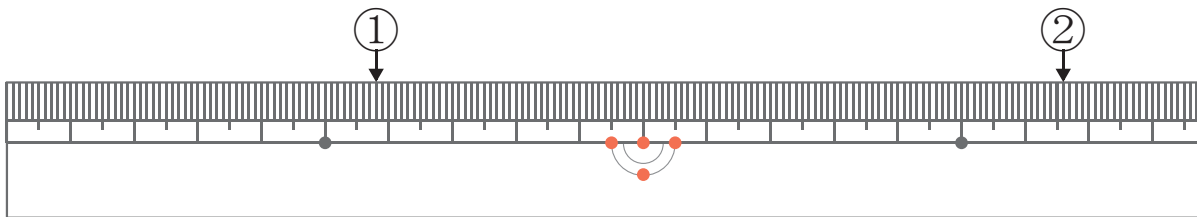
2点の長さを計算

が 月 につ 日 に じ 時 ぶん 分 ~ じ 時 ぶん 分

なまえ
名前

問 まず ①と②の長さを答え、次に①と②の間の長さを計算しましょう。

1



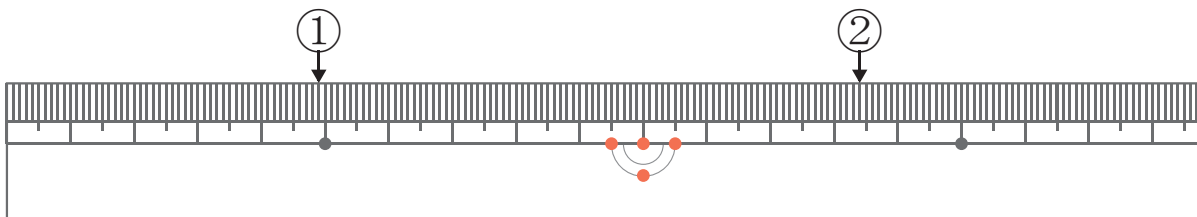
①の長さ

②の長さ

しき
式

こた
答え

2



①の長さ

②の長さ

しき
式

こた
答え

なが 長さ

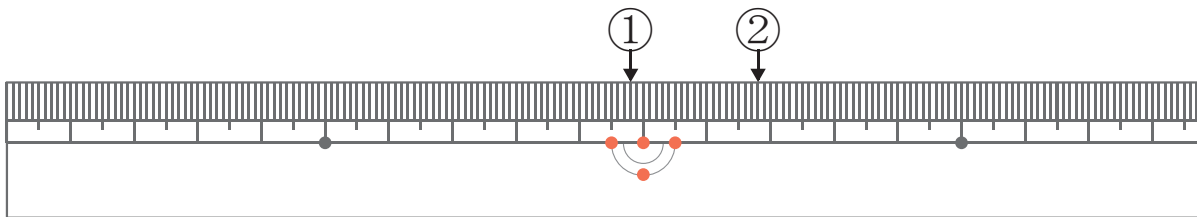
2点の長さを計算

が 月 につ 日 に ち じ 時 ぶん 分 ~ じ 時 ぶん 分

なまえ
名前

問 まず ①と②の長さを答え、次に①と②の間の長さを計算しましょう。

1



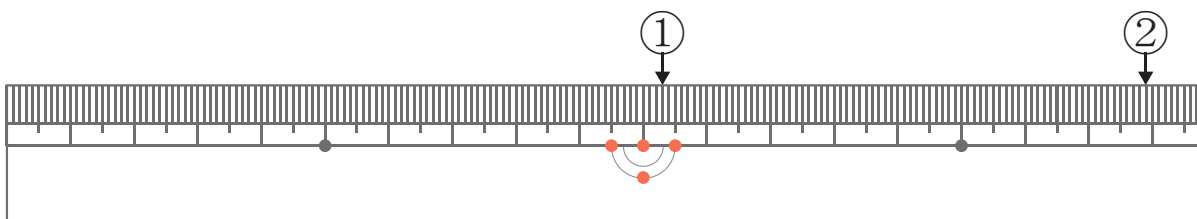
①の長さ

②の長さ

しき
式

こた
答え

2



①の長さ

②の長さ

しき
式

こた
答え

なが 長さ

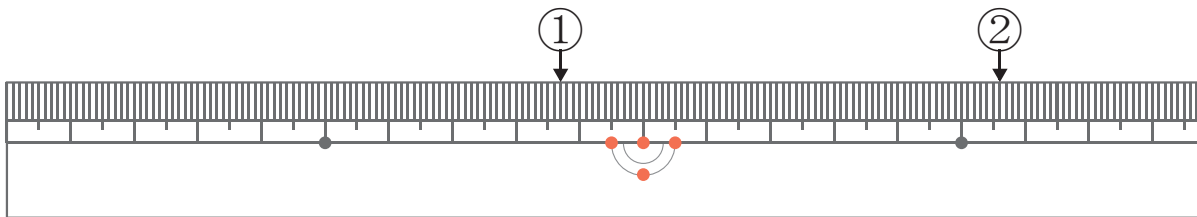
2点の長さを計算

が 月 につ 日 に じ 時 ぶん 分 ~ じ 時 ぶん 分

なまえ
名前

問 まず ①と②の長さを答え、次に①と②の間の長さを計算しましょう。

1



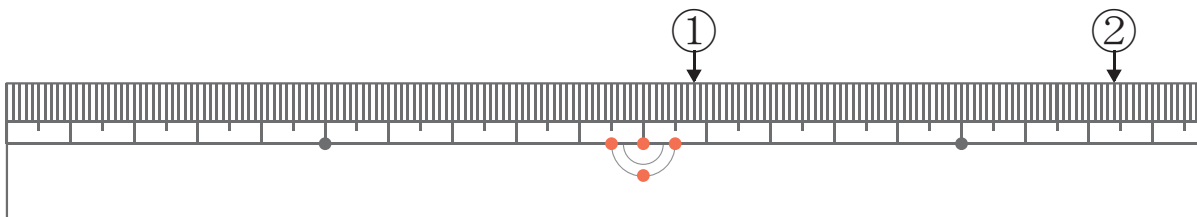
①の長さ

②の長さ

しき
式

こた
答え

2



①の長さ

②の長さ

しき
式

こた
答え