

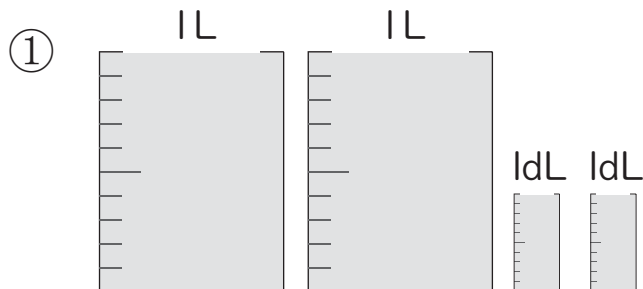
かさ (たいせき)

かさを数字であらわす

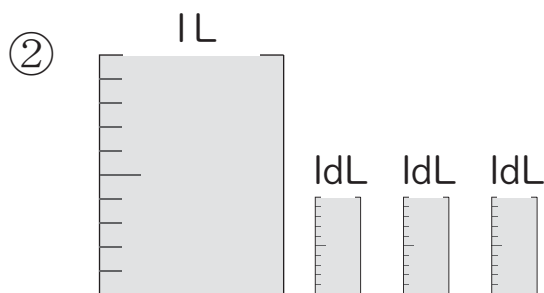
が 月 につ 日 に ち じ 時 ぶん 分 ~ じ 時 ぶん 分

なまえ
名前

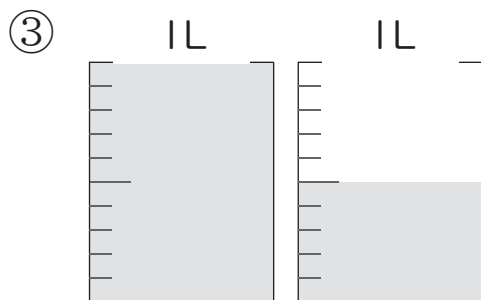
問 次の水のかさをそれぞれあわせると何L何dLになりますか。



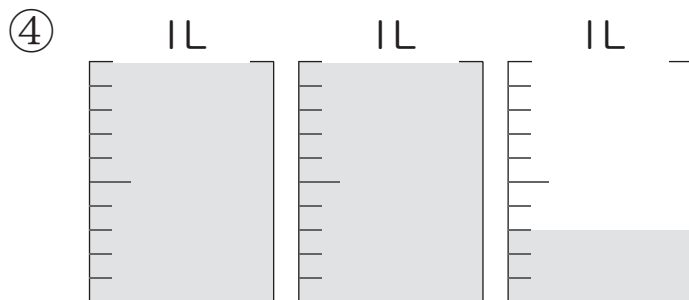
こた
答え



こた
答え



こた
答え



こた
答え

かさ (たいせき)

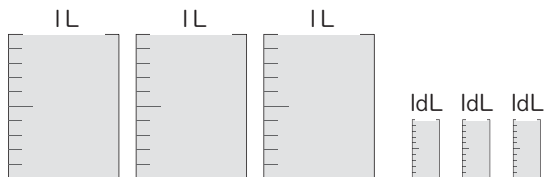
かさを数字であらわす

が 月 日 時 分 ~ 時 分

なまえ

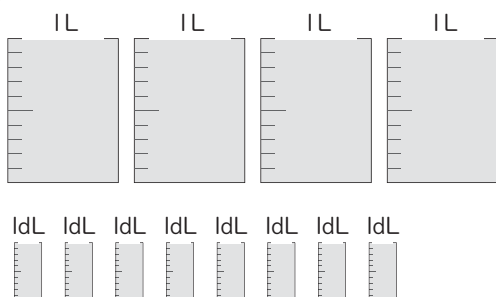
問 次の水のかさをそれぞれあわせると何L何dLになりますか。

①



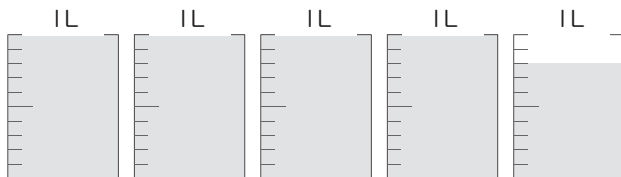
こた
答え

②



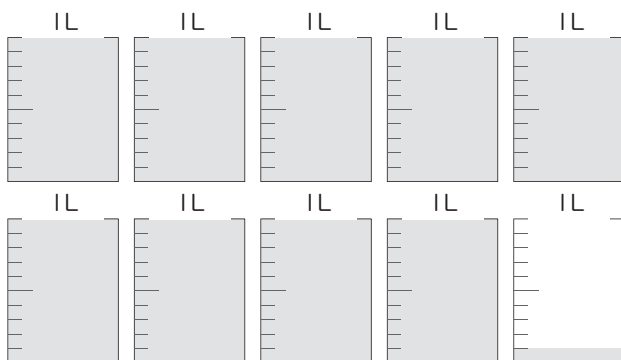
こた
答え

③



こた
答え

④



こた
答え