

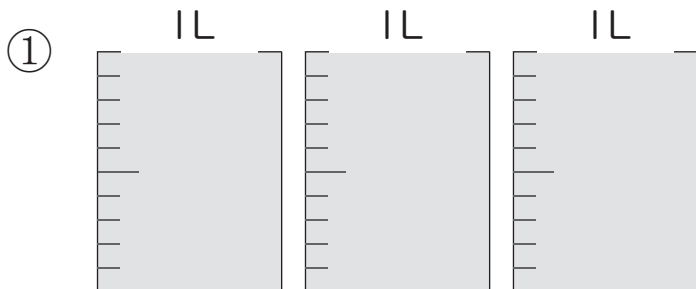
かさ (たいせき)

かさを数字であらわす

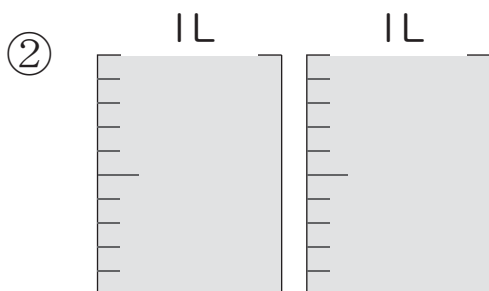
が 月 日 時 分 ~ 時 分

なまえ
名前

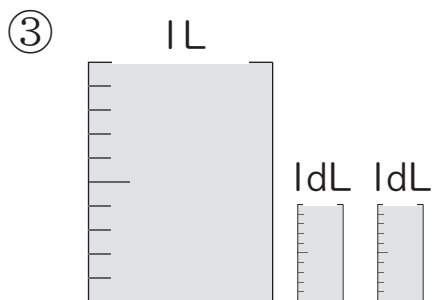
問 次の水のかさをそれぞれあわせるとどれだけになりますか。



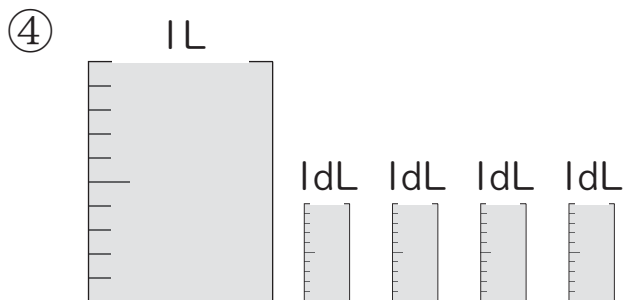
こた
答え



こた
答え



こた
答え



こた
答え

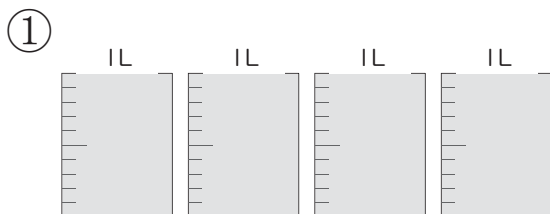
かさ (たいせき)

かさを数字であらわす

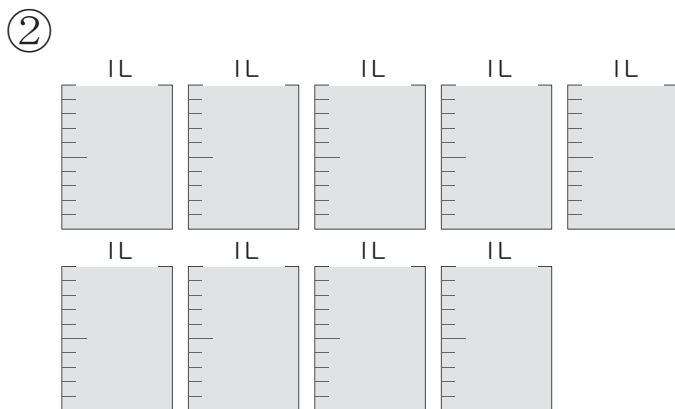
が 月 につ 日 に ち じ 時 ぶん 分 ~ じ 時 ぶん 分

なまえ
名前

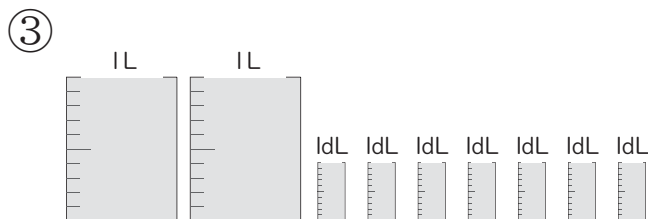
問 次の水のかさをそれぞれあわせるとどれだけになりますか。



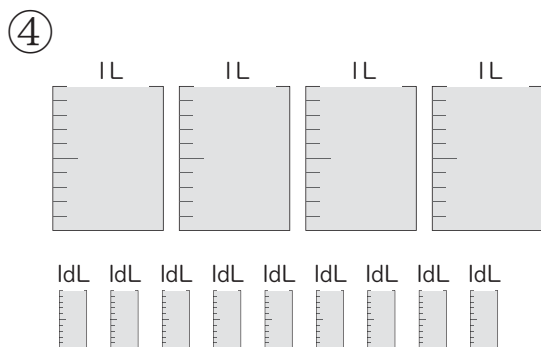
こた
答え



こた
答え



こた
答え



こた
答え
