

# かけ算ざんのまとめ [1]

月 日 時 分 ~ 時 分

名前

**1** つぎ けいさん 次の計算をしましょう。

①  $7 \times 4 =$

②  $8 \times 3 =$

③  $8 \times 6 =$

④  $6 \times 4 =$

⑤  $3 \times 5 =$

⑥  $5 \times 9 =$

⑦  $9 \times 2 =$

⑧  $7 \times 6 =$

⑨  $7 \times 7 =$

⑩  $4 \times 8 =$

**2** けいさん 計算があうように  の中に すう字を か 書きましょう。

①   $\times 5 = 10$

②  $2 \times$    $= 10$

③   $\times 9 = 72$

④  $8 \times$    $= 72$

⑤   $\times 6 = 36$

⑥  $7 \times$    $= 49$

⑦   $\times 6 = 48$

⑧  $3 \times$    $= 24$

⑨   $\times 7 = 56$

⑩  $9 \times$    $= 27$

# かけ算ざんのまとめ [1]

**1** 答えこたが同じカードおなの ● と ● を線せんで結びむすましょう。

|              |   |   |              |
|--------------|---|---|--------------|
| $9 \times 1$ | ● | ● | $6 \times 4$ |
| $8 \times 3$ | ● | ● | $2 \times 6$ |
| $6 \times 8$ | ● | ● | $8 \times 6$ |
| $3 \times 4$ | ● | ● | $3 \times 3$ |

**2**  にあてはまる数かずを書きかきましょう。

① 5のだんでは、かける数かずが1ふえると、答えこたは  つふえます。

② 8のだんでは、かける数かずが1へると、答えこたは  つへります。

③  $7 \times 7$ の答えこたは、 $7 \times 5$ より  大きいです。

④  $9 \times 5$ の答えこたは、 $9 \times 6$ より  小さいです。

⑤  $6 \times 8$ の答えこたは、 $6 \times$   より12大きいです。

⑥  $4 \times 3$ の答えこたは、 $4 \times$   より16小さいです。

# かけ算ざんのまとめ [1]

---

**1**  にあてはまる かず か 数を書きましょう。

①  $2 \times 4 = 4 \times$        ②  $6 \times 4 = 4 \times$

③  $3 \times 3 = 9 \times$        ④  $8 \times 3 = 6 \times$

⑤  $6 \times 8 =$    $\times 6$       ⑥  $7 \times 5 =$    $\times 7$

⑦  $4 \times 9 =$    $\times 6$       ⑧  $2 \times 6 =$    $\times 4$

**2** つぎ こた への こた 答えになる九九を  の中に か すべて書きましょう。


① こた への こた 答え  
24

② こた への こた 答え  
12

③ こた への こた 答え  
8

# かけ算ざんのまとめ [1]

**1** ●を九九と足し算ざん つかを使っていくつあるか数えかぞてみましょう。



九九つかを使う時の式

---

足し算ざんを使う時の式

---

こた  
答え

---

**2** ●を九九つかを使っていくつあるか数えかぞてみましょう。

※式しきの作り方がわかるように●を  でかこもう。




しき  
式

---

こた  
答え

---




しき  
式

---

こた  
答え

---



しき  
式

---

こた  
答え

---

# かけ算のまとめ [1]

**1** もんだい よ こた  
問題を読んで答えましょう。

- ① こども1人ずつ 6人におり紙がみを8まいずつくばります。  
おり紙がみはぜんぶで何まいひつようになりますか。

しき

こた  
答え

---

- ② 5本のカーネーションを1たばにしています。  
この花たばが9たばあります。カーネーションはぜんぶで何本なんですか。

しき

こた  
答え

---

- ③ ぼくはビー玉を7こもっています。  
おにいちゃんおにいちゃんはぼくの4ばいのビー玉もっています。  
おにいちゃんおにいちゃんはいくつビー玉もっていますか。

しき

こた  
答え

---

**2**  $5 \times 3 = 15$ になる文しょうもんだいを自分じぶんで作りつくましょう。

# かけ算ざんのまとめ [1]

---

**1** 2つの式しきで答こたえる問題もんだいです。問題文もんだいぶんを讀よんで答こたえましょう。

- ① スーパーで 9円のおかし 4本と 30円のおかし1つをかいました。  
ぜんぶで何なん円になりますか。

**しき**

こた  
答え

---

- ② こども1人ずつ 5人におり紙を 6まいずつくばりましたが、  
おり紙がみは まだ8まいあまっています。  
はじめにおり紙がみは何なんまいあったでしょうか。

**しき**

こた  
答え

---

- ③ 8まいのおさらの上に ドーナツを 5こずつのせようとしたら、  
ドーナツが 4こたりませんでした。ドーナツは何なんこありますか。

**しき**

こた  
答え

---

- ④ 1本のくしに 3こだんごがささっている くしが 7本 おさらにあります。  
6こだんごを食たべるとだんごは何なんこのこっていますか

**しき**

こた  
答え

---