

たしざんとひきざん


ぶんしょうもんだい (10 までのかず)

が 月 に 日 じ 時 ふん 分 ~ じ 時 ふん 分

なまえ

1

うしが 4 とういます。
なかまのうしが 2 とうやってきました。
ぜんぶでなんとういますか。




しき ()

こたえ ()

2

にわとりが 3 わいます。
ひよこは 5 わいます。
ひよこはなんわおおいですか。




しき ()

こたえ ()

3

犬が 4 ひきいます。
ともだちの犬が 5 ひきあそびにきました。
ぜんぶで犬はなんひきいますか。



しき ()

こたえ ()

たしざんとひきざん

ぶんしょうもんだい (10 までのかず)

が につ 月 に ち 日 じ 時 ふ ん 分 ~ じ 時 ふ ん 分

なまえ

1

ねこが 5 ひきいます。

3 ひきのねこがねてしまいました。

おきているねこはなんびきいますか。



しき ()

こたえ ()

2

5 ひきねこがあそんでいます。

3 ひきのねこがやってきました。

ぜんぶでねこはなんひきですか。



しき ()

こたえ ()

3

ねこが 4 ひきねています。

3 ひきのねこがめをさしました。

まだねているねこはなんひきですか。



しき ()

こたえ ()

たしざんとひきざん

ぶんしょうもんだい (10 までのかず)

が 月 に 日 じ 時 ぶん 分 ~ じ 時 ぶん 分

なまえ

1

こうえんに すずめが 4 わ います。
1 わ とんでいきました。
すずめは いま なん わ いますか。




しき ()

こたえ ()

2

こぶたが 5 ひき あそんでいます。
なかまのこぶたも 2 ひき います。
みんなでこぶたは なん ひき ですか。



しき ()

こたえ ()

3

らいおんが 4 とう あそんでいます。
2 とう いえにかえりました。
ライオンは いま なん とう いますか。



しき ()

こたえ ()

たしざんとひきざん

ぶんしょうもんだい (10 までのかず)

が 月 に 日 じ 時 ふん 分 ~ じ 時 ふん 分

なまえ

1

おおきなぞうが 3 とう、
ちいさなぞうが 2 とういます。
あわせてなんとういますか。



しき ()

こたえ ()

2

とりが 4 わいます。
2 わがどこかへとんでいきました。
いまなんわいますか。



しき ()

こたえ ()

3

ぞうが 5 とういます。
なかまのぞうが 4 とうきました。
いまぞうはなんとういますか。



しき ()

こたえ ()

たしざんとひきざん

ぶんしょうもんだい (10 までのかず)

が 月 に 日 じ 時 ふん 分 ~ じ 時 ふん 分

なまえ

1

ざりがにが 3 ひきいます。
かには 5 ひきいます。
かにはなんひきおおくいますか。



しき ()

こたえ ()

2

さかなを 5 ひきつかまえました。
たこは 2 ひきつかまえました。
さかなはたこよりなんひきおおいですか。



しき ()

こたえ ()

3

おとなのかめが 5 ひきいました。
こどものかめも 5 ひきいます。
あわせてなんびきいますか。



しき ()

こたえ ()

たしざんとひきざん


ぶんしょうもんだい (10 までのかず)

が 月 につ 日 に ち じ 時 ぶん 分 ~ じ 時 ぶん 分

なまえ

1

おおきなたこが 4 ひきいました。
ちいさなたこは 3 ひきいます。
ぜんぶでなんひきのたこがいますか。




しき ()

こたえ ()

2

ちいさなふぐが 4 ひき、
おおきなふぐは 3 ひきいます。
ふぐはぜんぶでなんひきいますか。




しき ()

こたえ ()

3

3 ひきかめがあそんでいます。
2 ひきのかめがいえにかえりました。
いまなんひきいますか。



しき ()

こたえ ()

たしざんとひきざん


ぶんしょうもんだい (10 までのかず)

が 月 に 日 じ 時 ふん 分 ~ じ 時 ふん 分

なまえ

1

おとなライオンが3とういます。
こどもライオンが5とういます。
あわせてライオンはなんとうですか。




しき ()

こたえ ()

2

さめが5ひきいます。
3ひきのさめがやってきました。
ぜんぶでさめはなんひきいますか。




しき ()

こたえ ()

3

えびが5ひきいます。
かめは2ひきいます。
えびはかめよりなんひきおおいですか。



しき ()

こたえ ()

たしざんとひきざん

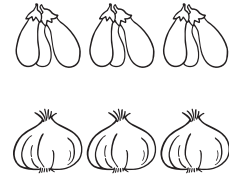
ぶんしょうもんだい (10 までのかず)

が 月 に 日 じ 時 ふん 分 ~ じ 時 ふん 分

なまえ

1

なすびが 9 こ、
たまねぎが 3 こあります。
なすびはなんこおいですか。

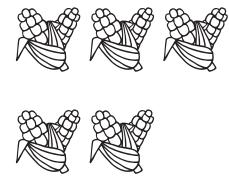


しき ()

こたえ ()

2

きのうとうもろこしを 6 本^{ほん}たべました。
きょう 4 本^{ほん}たべました。
きのうときょうでなん本^{ほん}たべましたか。




しき ()

こたえ ()

3

りんごが 3 こ、
いちごが 8 こあります。
いちごはなんこおいですか。



しき ()

こたえ ()

たしざんとひきざん

ぶんしょうもんだい (10 までのかず)

が 月 に 日 じ 時 ぶん 分 ~ じ 時 ぶん 分

なまえ

1

ばったを 5 ひきつかまえました。



ともだちに 4 ひきあげました。



のこっているばったはなんひきですか。

しき ()

こたえ ()

2

木^きにせみが 4 ひきとまっています。



いま 3 ひきのせみがとんできました。



いませみはなんひきいますか。

しき ()

こたえ ()

3

くわがたが 5 ひき、



かぶとむしが 2 ひきいます



くわがたはなんひきおおいですか。

しき ()

こたえ ()