

たしざん


たしざんのぶんしょうだい

が 月 に 日 じ 時 ぶん 分 ~ じ 時 ぶん 分

なまえ

1

こうえんに すずめが 5 わ いました。
あとから 2 わ ききました。
すずめは ぜんぶで なん わ いますか。




しき ()

こたえ ()

2

こぶたが 3 ひき あそんで いました。
なかまの こぶたが 2 ひき ききました。
みんなで なん ひき いる でしょう。




しき ()

こたえ ()

3

らいおんを 2 とう みつけました。
また 4 とう みつけました。
ぜんぶで なん とう みつけた でしょう。



しき ()

こたえ ()

たしざん

たしざんのぶんしょうだい

が につ 月 に ち 日 じ 時 ふん 分 ~ じ 時 ふん 分

なまえ

1

きのうばったを2ひきつかまえました。



きょうは4ひきつかまえました。

ぜんぶでなんひきつかまえましたか。



しき ()

こたえ ()

2

せみが4ひきいます。



むこうの木にも4ひきいます。

あわせてなんひきいますか。



しき ()


こたえ ()

3

くわがたが3ひき、



かぶとむしが2ひきいます



あわせてなんひきですか。

しき ()

こたえ ()

たしざん


たしざんのぶんしょうだい

が 月 に 日 じ 時 ぶん 分 ~ じ 時 ぶん 分

なまえ

1


おおきなぞうが2とう、
ちいさなこどものぞうが4とういます。
あわせてなんとういるでしょう。



しき ()
こたえ ()

2


とりが4わいます。
しゅるいのちがうとりも5わいます。
みんなでなんわいるでしょう。



しき ()
こたえ ()

3

えさをたべているとりが2わ、
木^きのうえにとりが3わいます。
あわせてとりはなんわいますか。



しき ()
こたえ ()

たしざん


たしざんのぶんしょうだい

が じ ぶん じ ぶん
月 日 時 分 ~ 時 分

なまえ

1


たこが2ひきいました。
ちいさなたこも3びきいます。
あわせてなんひきいるでしょう。



しき ()
こたえ ()

2


ふぐが4ひきおよいでいます、
また3びきやってきました。
あわせてふぐはなんひきいますか。



しき ()
こたえ ()

3

いるかを3びきみつけました。
また2ひきみつけました。
ぜんぶでなんひきみつけたでしょう。



しき ()
こたえ ()

たしざん

たしざんのぶんしょうだい

が 月 に 日 じ 時 ぶん 分 ~ じ 時 ぶん 分

なまえ

1

ねこが2ひきねています。



なかまのねこが3びきやってきました。



ぜんぶでねこはなんひきいますか。

しき ()

こたえ ()

2

4ひきねこがあそんでいます。



ともだちのねこが5ひきやってきました。



みんなでなんひきいるでしょう。

しき ()

こたえ ()

3

ねこが2ひきねています。



となりでねこが4ひきねています。



みんなでなんひきねていますか。

しき ()

こたえ ()

たしざん

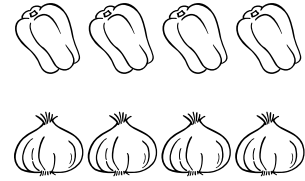
たしざんのぶんしょうだい

が 月 に 日 じ 時 ふん 分 ~ じ 時 ふん 分

なまえ

1

ピーマンが4こ、
たまねぎが4こあります。
あわせてなんこありますか。




しき ()

こたえ ()

2

とうもろこしが3^{ほん}本と、
べつのとうもろもこしが4^{ほん}本があります。
あわせてなん^{ほん}本ありますか。




しき ()

こたえ ()

3

ぶどうが2ふさ、
べつのぶどうを4ふさがあります。
あわせてはなんふさありますか。



しき ()

こたえ ()

たしざん


たしざんのぶんしょうだい

が じ ぶん
月 日 時 分 ~ 時 分

なまえ

1


うまが2とういます。
なかまのうまが2とうやってきました。
あわせてなんとういるでしょう。



しき ()
こたえ ()

2


おさるが3びきあそんでいます。
ほかのおさるが3びきやってきました。
みんなでなんびきいるでしょう。



しき ()
こたえ ()

3

ねずみを3びきみつけました。
また5ひきみつけました。
ぜんぶでなんひきみつけたでしょう。



しき ()
こたえ ()

たしざん


たしざんのぶんしょうだい

が じ ぶん じ ぶん
月 日 時 分 ~ 時 分

なまえ

1


いま うしが 4 とう います。
あした 2 とう の うしが きます。
あわせて なんとう になりますか。



しき ()
こたえ ()

2


きの うひよこ が 3 わ うまれました。
きょう は 4 わ うまれました。
あわせて なんわ うまれましたか。



しき ()
こたえ ()

3

犬が 4 ひき います。
ちがう 犬が 5 ひき きました。
ぜんぶ で なんひき になりますか。



しき ()
こたえ ()

たしざん


たしざんのぶんしょうだい

が 月 に 日 じ 時 ぶん 分 ~ じ 時 ぶん 分

なまえ

1

おとなのライオンが3とういます。
こどものライオンが4とういます。
あわせてなんとういますか。




しき ()

こたえ ()

2

さめが4ひきいます。
またさめが5ひきやってきました。
ぜんぶでなんひきいますか。




しき ()

こたえ ()

3

えびを4ひきつかまえました。
また3ひきつかまえました。
ぜんぶでなんひきつかまえましたか。



しき ()

こたえ ()

たしざん

たしざんのぶんしょうだい

が 月 に 日 じ 時 ぶん 分 ~ じ 時 ぶん 分

なまえ

1

かにを2ひきつかまえました。
また4ひきつかまえました。
ぜんぶでなんひきつかまえましたか。



しき ()

こたえ ()

2

かいがらを3つみつけました。
またかいがらを1つみつけました。
あわせていくつみつけましたか。




しき ()

こたえ ()

3

かめが3びきいました。
なかまのかめが4ひきやってきました。
あわせてなんひきのかめがいますか。



しき ()

こたえ ()