

ながさくらべ

いろいろなながさをかんがえよう

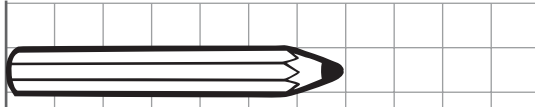
が 月 に 日 じ 時 ふん 分 ~ じ 時 ふん 分

なまえ _____

①と②のどちらがながいか()にこたえましょう

1

①




②



()

2

①



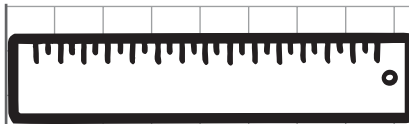
②



()

3

①



②




()

4

①



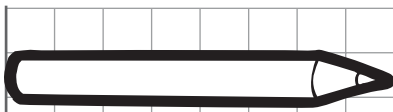
②



()

5

①



②



()

ながさくらべ

いろいろなながさをかんがえよう

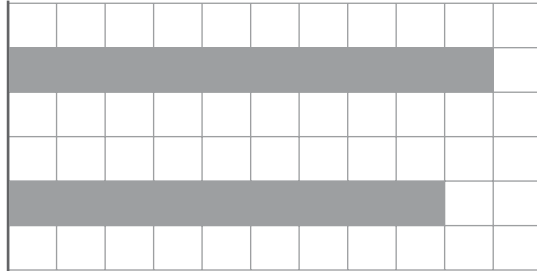
が 月 に 日 じ 時 ふん 分 ~ じ 時 ふん 分

なまえ

①と②のどちらがながいか()にこたえましょう

1

①

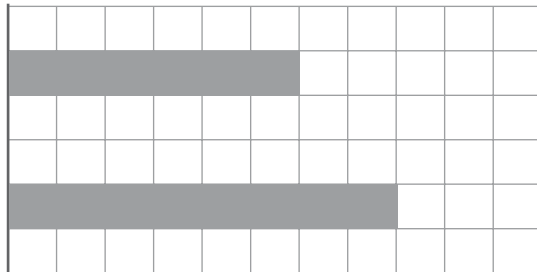


②

()

2

①



②

()

3

①

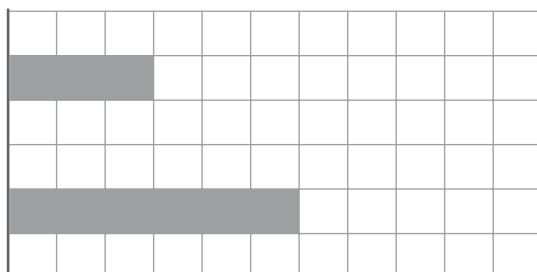


②

()

4

①




②

()

5

①



②

()