

ねんせい  
1年生のまとめ [3]

たしざんとひきざんのけいさん

が につ 月 日に ち 日 じ 時 ぶん 分 ~ じ 時 ぶん 分

なまえ

**1** けいさんをしましょう

①  $2 + 3 =$

②  $4 + 5 =$

③  $0 + 7 =$

④  $1 + 8 =$

⑤  $7 + 2 =$

⑥  $5 + 2 =$

**2** けいさんをしましょう

①  $4 - 0 =$

②  $5 - 2 =$

③  $7 - 6 =$

④  $3 - 2 =$

⑤  $8 - 3 =$

⑥  $9 - 1 =$

**3** けいさんをしましょう

①  $4 + 2 + 1 =$

②  $3 + 3 + 2 =$

③  $5 + 2 + 2 =$

④  $1 + 7 + 1 =$

⑤  $8 - 4 - 1 =$

⑥  $6 - 2 - 2 =$

⑦  $9 - 3 - 5 =$

⑧  $4 - 1 - 2 =$

ねんせい  
1年生のまとめ [3]

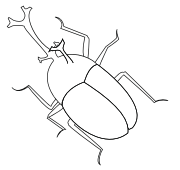
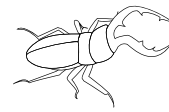
たしざんとひきざんのぶんしょうもんだい

もんだい ぶんをよんでしきをかいてこたえましょう

- 1 ぼくの <sup>むし</sup>虫かごの <sup>なか</sup>中には、くわがたが4ひき  
かぶとむしが4ひきいます。  
あわせてなんひきいますか？

しき


こたえ



- 2 なつ <sup>やす</sup>休みのある日 <sup>ひ</sup>あさがおに2つ <sup>はな</sup>花がさきました。  
つぎの日 <sup>ひ</sup>は3つ、そのつぎの日 <sup>ひ</sup>は4つさきました。  
この3日 <sup>か</sup>のあいだに、<sup>はな</sup>花はいくつさきましたか？

しき

こたえ



- 3 ねこが2ひき、ねずみが8ひきいます。  
どちらがなんひきおおいですか？

しき



こたえ



ねんせい  
1年生のまとめ [3]

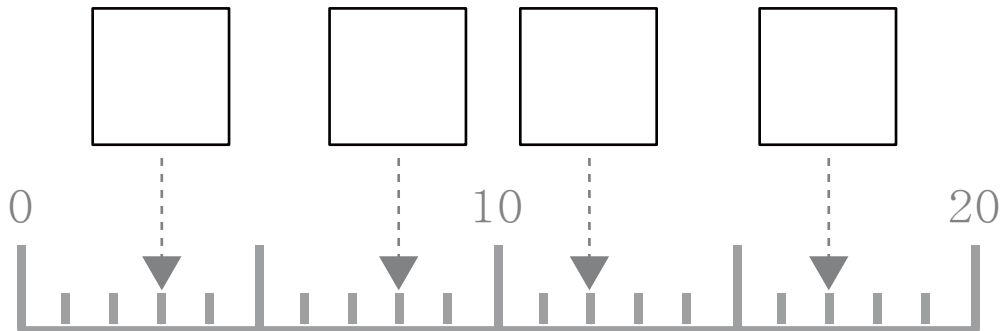
20までのかず

1 かずをかぞえていくつあるかをすうじでかきましょう

①  ② 

( こ ) ( まい )

2  にあてはまるかずをこたえましょう。



3  にあてはまるかずをこたえましょう。

①  — 10 — 11 —  —

②  —  —  — 15 — 16

③ 16 — 17 —  —  —

# 1年生のまとめ [3]

20までのかず

**1**  にあてはまる かずを こたえましょう。

① 10 より 10 おおきいかずは

② 10 より 6 おおきいかずは

③ 20 より 9 ちいさいかずは

④ 20 より 10 ちいさいかずは

**2**  にあてはまる かずを こたえましょう。

① 10 と 1 で

② 10 と 4 で

③ 7 と 10 で

④ 9 と 10 で

**2**  にあてはまる かずを こたえましょう。

①  は 10 と 3

②  は 10 と 6

③  は 2 と 10

④  は 9 と 10

## 1年生のまとめ [3]

たしざんとひきざんのけいさん

**1** けいさんをしましょう

①  $2+8=$

②  $7+3=$

③  $6+6=$

④  $9+0=$

⑤  $3+9=$

⑥  $5+8=$

**2** けいさんをしましょう

①  $10-3=$

②  $11-6=$

③  $17-0=$

④  $13-8=$

⑤  $12-9=$

⑥  $15-7=$

**3** けいさんをしましょう

①  $2+5+5=$

②  $7+4+0=$

③  $4+7+3=$

④  $9+2+5=$

⑤  $11-6-2=$

⑥  $13-5-7=$

⑦  $15-8-5=$

⑧  $18-9-3=$

ねんせい  
1年生のまとめ [3]


たしざんとひきざんのぶんしょうもんだい

もんだい ぶんをよんでしきをかいてこたえましょう

- 1 こうまが6とう目のま<sup>め</sup>えにいます。  
おとなのうまはこうまよりも2とうおおいです。  
みんなでなんとううまはいますか？

しき

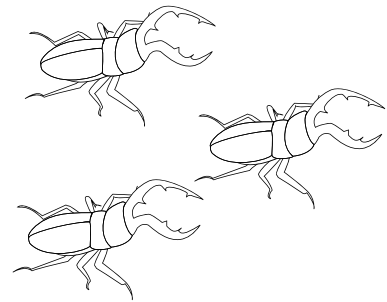
こたえ



- 2 くわがた1ひきのあしのかずは6本<sup>ほん</sup>です。  
ぼくのむし<sup>むし</sup>かごのなか<sup>なか</sup>にくわがたが3ひきいます。  
3ひきのあしのかずをあわせるといくつになるでしょうか？

しき

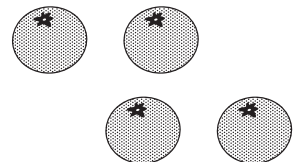
こたえ



- 3 おじいちゃんにみかんを12こもらいました。  
かぞく4人<sup>にん</sup>で、きのう4こたべて、きょうも4こたべました。  
みかんはのこりなんこありますか？

しき

こたえ



ねんせい  
1年生のまとめ [3]

なんばんめ

1 えをみて  にかずをかきましょう。

まえ



ねずみ うさぎ ねこ いぬ しか うま うし ぞう

うしろ

① うしは まえから  ばんめにいます。

② しかの うしろには  とうの どうぶつがいます。

③ うまは なんばんめですか？ 2つの いいかたで こたえましょう。

・ まえから  ばんめ ・ うしろから  ばんめ

④ いぬの まえとうしろには なんとうの どうぶつがいますか？

・ まえには  とう ・ うしろには  とう

2 こどもが いちれつにならんでいます。

ぼくは まえから 7人<sup>にん</sup>めで、うしろから 3人<sup>にん</sup>めです。

みんなで なん<sup>にん</sup>人 ならんでいますか？

こたえ

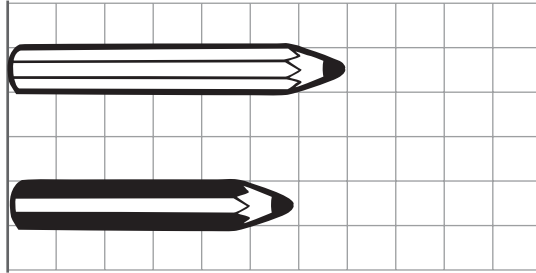
ねんせい  
1年生のまとめ [3]

ながさくらべ

1 ①と②のどちらがながいか( )に 答えましょう

①

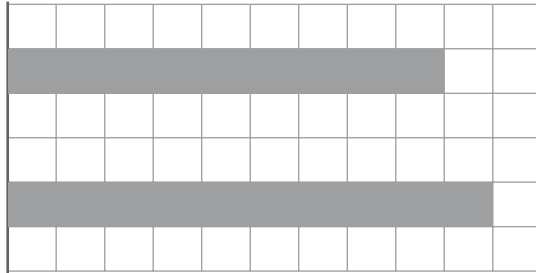
① あ



( )

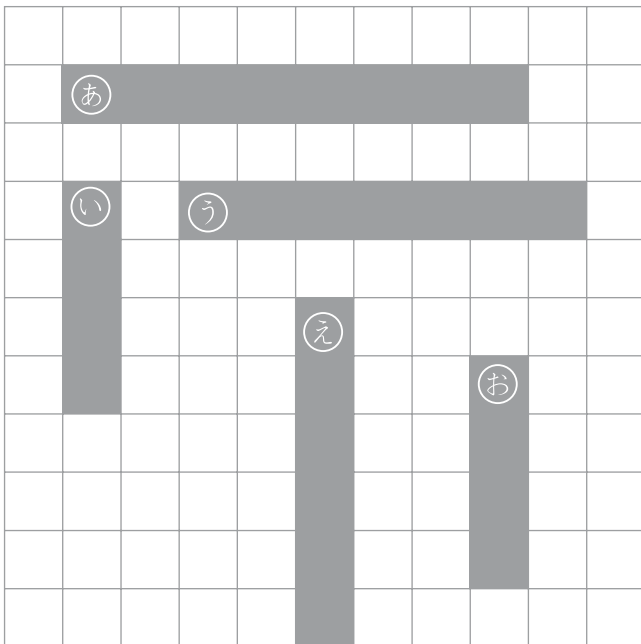
②

② あ



( )

2 えをみて もんだいに 答えましょう



① ① ② ③ ④ ⑤ の しかくを  
ながいじゅんばんにならべよう

いちばんみじかい ( )

( )

( )

( )

いちばんながい ( )




ねんせい  
1年生のまとめ [3]

100までの大きいかず

1 いくつあるか かぞえて すうじで かきましょう

①



(      まい )

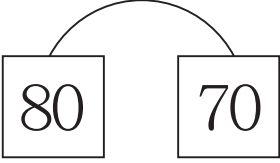
2 あいている  に あてはまる かずを かきましょう。


1	2	3	4	5		7		9	
	12	13	14		16	17	18	19	
21		23		25	26		28	29	30
31	32		34	35		37	38	39	
	42	43		45	46		48	49	50
51		53	54		56	57		59	60
61	62		64	65		67	68		70
	72	73	74	75	76			79	80
81		83		85	86	87	88		90
91	92		94		96	97	98		100


ねんせい  
1年生のまとめ [3]

100までの大きいかず


1 おおきいかずのほうに○をつけましょう。

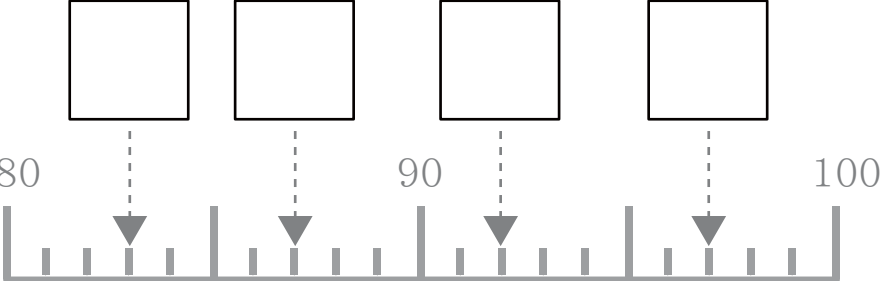
①   
( ) ( )

②   
( ) ( )

③   
( ) ( )

2 あいている□にあてはまるかずをかきましょう。

① 

② 

③ 43の<sup>じゅう</sup>十のくらはいは□で、<sup>いち</sup>一のくらはいは□

④ 78は10が□つ、1が□つあるかず

⑤ <sup>じゅう</sup>十のくらいが3で、<sup>いち</sup>一のくらいが8のかずは□

⑥ 30より8 <sup>おお</sup>大きいかずは□

⑦ 100より3 <sup>ちい</sup>小さいかずは□

⑧ 51は55より□ <sup>ちい</sup>小さいかず

ねんせい  
1年生のまとめ [3]

おお  
大きなかずのたしざん

**1** けいさんをしましょう

①  $30 + 20 =$

②  $20 + 70 =$

③  $40 + 50 =$

④  $30 - 10 =$

⑤  $90 - 10 =$

⑥  $40 - 20 =$

**2** けいさんをしましょう

①  $15 + 3 =$

②  $70 + 7 =$

③  $80 + 5 =$

④  $18 - 3 =$

⑤  $73 - 2 =$

⑥  $87 - 5 =$

**3** けいさんをしましょう

①  $40 + 10 + 20 =$

②  $20 + 60 + 10 =$

③  $50 + 10 + 10 =$

④  $30 + 50 + 10 =$

⑤  $80 - 40 - 30 =$

⑥  $50 - 10 - 10 =$

⑦  $70 - 20 - 40 =$

⑧  $90 - 20 - 50 =$

ねんせい  
1年生のまとめ [3]


たしざんとひきざんのぶんしょうもんだい

もんだい ぶんをよんでしきをかいてこたえましょう

- 1 わたしは、<sup>あか</sup>赤いきんぎょを15ひきかっています。  
きょう <sup>くろ</sup>黒いきんぎょを2ひきもらいました。  
あわせてなんひきになったでしょうか？

しき


こたえ



- 2 ひまわりのたねを90こまきました。  
そのうち20こはめがでませんでした。  
ひまわりのめはいくつでてきたでしょうか？

しき

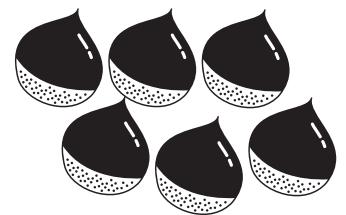
こたえ



- 3 かぞくで、くりひろいにいきました。  
おとうさんは50こ、おかあさんは30こ、ぼくは20こひろいました。  
あわせていくつくりをひろったでしょうか？

しき

こたえ



ねんせい  
1年生のまとめ [3]

たしざんとひきざんのけいさん

**1** けいさんをしましょう

①  $5 - 2 + 9 =$

②  $7 + 2 - 8 =$

③  $10 + 8 - 5 =$

④  $13 - 1 + 6 =$

⑤  $6 + 13 - 7 =$

⑥  $13 - 10 + 5 =$

⑦  $4 + 9 - 5 =$

⑧  $15 - 3 + 6 =$

⑨  $9 - 5 + 3 =$

⑩  $16 + 2 - 5 =$

⑪  $14 - 10 + 6 =$

⑫  $15 - 3 + 3 =$

⑬  $2 + 15 - 5 =$

⑭  $19 - 10 + 5 =$

⑮  $9 + 5 - 3 =$

⑯  $8 - 6 + 5 =$

⑰  $5 + 12 - 6 =$

⑱  $15 + 3 - 7 =$

⑲  $12 - 5 + 7 =$

⑳  $14 + 2 - 8 =$

ねんせい  
1年生のまとめ [3]


たしざんとひきざんのぶんしょうもんだい

もんだい ぶんをよんでしきをかいてこたえましょう

- 1 バスにおきゃくさんが12人のっています。  
つぎのバスで、おきゃくさんが10人おりて8人のってきました。  
いまバスの中にはなん人のおきゃくさんがいますか？

しき

こたえ



- 2 ぼくはトンボを5ひき、おにいちゃんに7ひきつかまえました。  
そのうち4ひきのトンボをいへにもってかえります。  
なんひきトンボをにがさないといけないますか？

しき

こたえ



- 3 きょうのごはんはコロッケです。テーブルの上に12こあります。  
すぐに4こたべました。おかあさんがつかいで6こもってきました。  
いまテーブルの上にはいくつコロッケがありますか？

しき

こたえ

