

ねんせい  
1年生のまとめ [2]

たしざんとひきざんのけいさん

が 月 に 日 じ 時 ふん 分 ~ じ 時 ふん 分

なまえ

**1** けいさんをしましょう

①  $3 + 1 =$

②  $5 + 2 =$

③  $4 + 4 =$

④  $3 + 3 =$

⑤  $3 + 5 =$

⑥  $9 + 0 =$

**2** けいさんをしましょう

①  $7 - 3 =$

②  $6 - 5 =$

③  $4 - 3 =$

④  $5 - 4 =$

⑤  $9 - 5 =$

⑥  $8 - 4 =$

**3** けいさんをしましょう

①  $2 + 2 + 2 =$

②  $6 + 1 + 2 =$

③  $4 + 4 + 1 =$

④  $3 + 3 + 3 =$

⑤  $5 - 2 - 1 =$

⑥  $7 - 5 - 1 =$

⑦  $8 - 5 - 2 =$

⑧  $9 - 3 - 3 =$

ねんせい  
1年生のまとめ [2]


たしざんとひきざんのぶんしょうもんだい

もんだい ぶんをよんでしきをかいてこたえましょう

- 1 ぼくの <sup>むし</sup>虫かごの <sup>なか</sup>中には、くわがたが3ひき  
かぶとむしが5ひきいます。  
あわせてなんひきいますか？

しき


こたえ



- 2 なつ <sup>やす</sup>休みのある日 <sup>ひ</sup>あさがおに3つ <sup>はな</sup>花がさきました。  
つぎの日 <sup>ひ</sup>は3つ、そのつぎの日 <sup>ひ</sup>は3つさきました。  
この3日 <sup>か</sup>のあいだに、<sup>はな</sup>花はいくつさきましたか？

しき


こたえ



- 3 ねこが4ひき、ねずみが3ひきいます。  
どちらがなんひきおおいですか？

しき


こたえ




ねんせい  
1年生のまとめ [2]

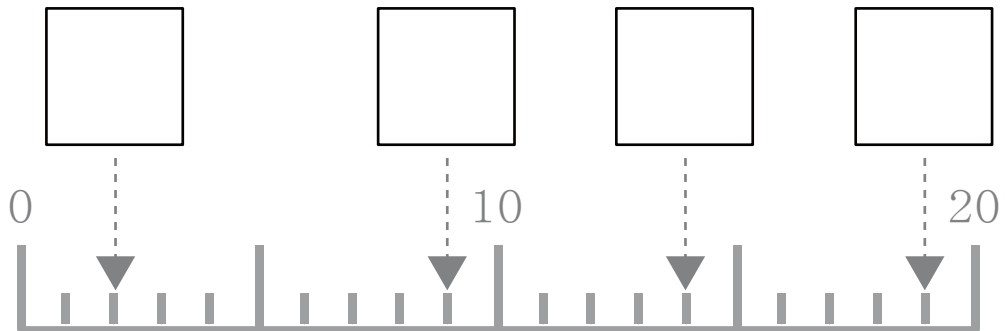
20までのかず

**1** かずをかぞえていくつあるかをすうじでかきましょう

①  (こ)

②  (まい)

**2**  にあてはまるかずをこたえましょう。



**3**  にあてはまるかずをこたえましょう。

①  —  —  —  —

②  —  —  —  —

③  —  —  —  —

# 1年生のまとめ [2]

20までのかず

**1**  にあてはまる かずを こたえましょう。

① 10 より 8 おおきいかずは

② 10 より 10 おおきいかずは

③ 20 より 5 ちいさいかずは

④ 20 より 7 ちいさいかずは

**2**  にあてはまる かずを こたえましょう。

① 10 と 5 で

② 10 と 9 で

③ 3 と 10 で

④ 7 と 10 で

**2**  にあてはまる かずを こたえましょう。

①  は 10 と 5

②  は 10 と 2

③  は 9 と 10

④  は 4 と 10

ねんせい  
1年生のまとめ [2]

たしざんとひきざんのけいさん

**1** けいさんをしましょう

①  $3+7=$

②  $5+6=$

③  $3+9=$

④  $8+0=$

⑤  $9+9=$

⑥  $4+9=$

**2** けいさんをしましょう

①  $10-7=$

②  $12-5=$

③  $19-0=$

④  $15-6=$

⑤  $17-8=$

⑥  $13-9=$

**3** けいさんをしましょう

①  $5+5+3=$

②  $4+0+8=$

③  $7+8+4=$

④  $8+5+2=$

⑤  $13-5-3=$

⑥  $14-7-5=$

⑦  $16-9-3=$

⑧  $11-4-4=$

ねんせい  
1年生のまとめ [2]

たしざんとひきざんのぶんしょうもんだい


もんだい ぶんをよんでしきをかいてこたえましょう

1 こうまが5とう目のま<sup>め</sup>えにいます。

おとなのうまはこうまよりも3とうおおいです。  
みんなでな<sup>ん</sup>とううまはいますか？

しき

こたえ



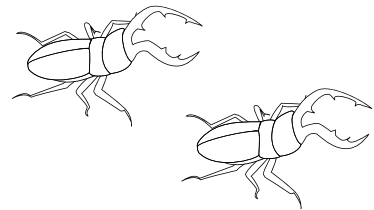
2 くわがた1ひきのあしのかずは6本<sup>ほん</sup>です。

ぼくのむし<sup>むし</sup>かごのなか<sup>なか</sup>にくわがたが2ひきいます。

2ひきのあしのかずをあわせるといくつになるでしょうか？

しき

こたえ



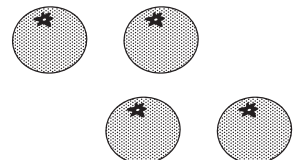
3 おじいちゃんにみかんを15こもらいました。

かぞく4人<sup>にん</sup>で、きのう8こたべて、きょうは4こたべました。

みかんはのこりなんこありますか？

しき

こたえ




ねんせい  
1年生のまとめ [2]

なんばんめ

1 えをみて  にかずをかきましょう。

まえ



うしろ

① うまは まえから  ばんめにいます。

② いぬの うしろには  とうの どうぶつがいます。

③ ねこは なんばんめですか？ 2つの いいかたで こたえましょう。

・ まえから  ばんめ    ・ うしろから  ばんめ

④ うしの まえとうしろには なんとうの どうぶつがいますか？

・ まえには  とう    ・ うしろには  とう

2 こどもが いちれつにならんでいます。

ぼくは まえから 5人<sup>にん</sup>めで、うしろから 8人<sup>にん</sup>めです。

みんなで なん<sup>にん</sup>人 ならんでいますか？

こたえ

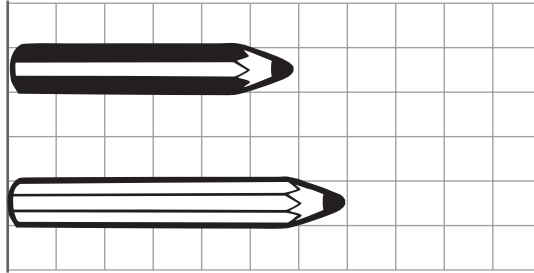
ねんせい  
1年生のまとめ [2]

ながさくらべ

1 ①と②のどちらがながいか( )に 答えましょう

①

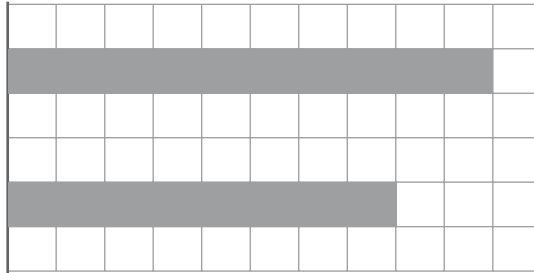
① あ



( )

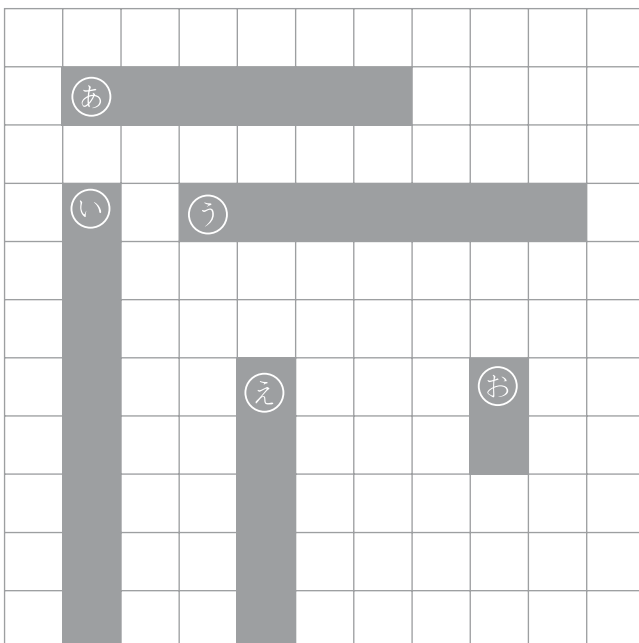
②

② あ



( )

2 えをみて もんだいに 答えましょう



① ① ② ③ ④ ⑤の しかくを  
ながいじゅんばんにならべよう

いちばんみじかい ( )

( )

( )

( )



いちばんながい ( )




ねんせい  
1年生のまとめ [2]

100までの大きいかず

1 いくつあるか かぞえて すうじで かきましょう

①



(      まい )

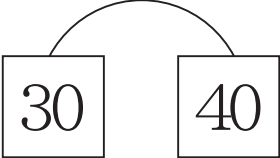
2 あいている  に あてはまる かずを かきましょう。

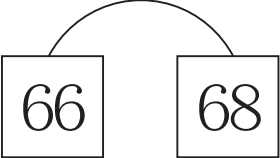
	2	3	4		6	7	8	9	
11		13		15	16		18	19	20
21	22		24	25		27	28	29	
	32	33		35	36		38	39	40
41		43	44		46	47		49	50
51	52		54	55		57	58		60
61	62	63	64	65	66			69	70
71		73		75	76	77	78		80
	82		84		86	87	88		90
91	92	93	94	95		97		99	


ねんせい  
1年生のまとめ [2]

100までの大きいかず


1 おおきいかずのほうに○をつけましょう。

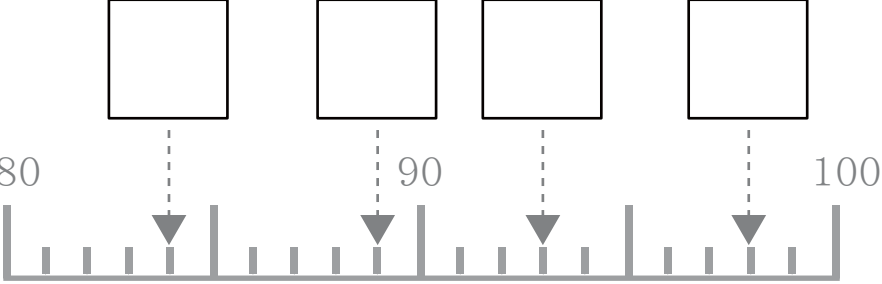
①   
( ) ( )

②   
( ) ( )

③   
( ) ( )

2 あいている□にあてはまるかずをかきましょう。

① 

② 

③ 98の<sup>じゅう</sup>十のくらはいは□で、<sup>いち</sup>一のくらはいは□

④ 44は10が□つ、1が□つあるかず

⑤ <sup>じゅう</sup>十のくらいが9で、<sup>いち</sup>一のくらいが4のかずは□

⑥ 90より7 <sup>おお</sup>大きいかずは□

⑦ 100より5 <sup>ちい</sup>小さいかずは□

⑧ 95は99より□ <sup>ちい</sup>小さいかず

ねんせい  
1年生のまとめ [2]

おお  
大きなかずのたしざん

**1** けいさんをしましょう

①  $50 + 20 =$

②  $40 + 40 =$

③  $10 + 70 =$

④  $90 - 50 =$

⑤  $60 - 20 =$

⑥  $70 - 40 =$

**2** けいさんをしましょう

①  $12 + 5 =$

②  $40 + 5 =$

③  $20 + 8 =$

④  $13 - 2 =$

⑤  $56 - 5 =$

⑥  $99 - 6 =$

**3** けいさんをしましょう

①  $20 + 20 + 20 =$

②  $10 + 50 + 20 =$

③  $30 + 30 + 10 =$

④  $20 + 10 + 30 =$

⑤  $60 - 30 - 10 =$

⑥  $80 - 40 - 20 =$

⑦  $70 - 40 - 20 =$

⑧  $90 - 50 - 10 =$

ねんせい  
1年生のまとめ [2]


たしざんとひきざんのぶんしょうもんだい

もんだい ぶんをよんでしきをかいてこたえましょう

- 1 わたしは、<sup>あか</sup>赤いきんぎょを11ひきかっています。  
きょう <sup>くろ</sup>黒いきんぎょを6ひきもらいました。  
あわせてなんひきになったでしょうか？

しき


こたえ



- 2 ひまわりのたねを30こまきました。  
そのうち10こはめがでませんでした。  
ひまわりのめはいくつでてきたでしょうか？

しき

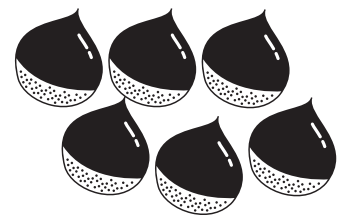
こたえ



- 3 かぞくで、くりひろいにいきました。  
おとうさんは20こ、おかあさんは20こ、ぼくは30こひろいました。  
あわせていくつくりをひろったでしょうか？

しき

こたえ



ねんせい  
1年生のまとめ [2]

たしざんとひきざんのけいさん

**1** けいさんをしましょう

①  $7 - 3 + 8 =$

②  $6 + 3 - 5 =$

③  $10 + 4 - 2 =$

④  $16 - 3 + 5 =$

⑤  $7 + 12 - 5 =$

⑥  $17 - 10 + 2 =$

⑦  $5 + 7 - 3 =$

⑧  $17 - 5 + 3 =$

⑨  $9 - 3 + 4 =$

⑩  $12 + 5 - 3 =$

⑪  $18 - 10 + 3 =$

⑫  $17 - 9 + 5 =$

⑬  $6 + 11 - 2 =$

⑭  $15 - 10 + 4 =$

⑮  $8 + 4 - 3 =$

⑯  $7 - 5 + 8 =$

⑰  $4 + 13 - 5 =$

⑱  $12 + 5 - 6 =$

⑲  $13 - 6 + 8 =$

⑳  $11 + 3 - 5 =$

ねんせい  
1年生のまとめ [2]


たしざんとひきざんのぶんしょうもんだい

もんだい ぶんをよんでしきをかいてこたえましょう

- 1 バスにおきゃくさんが15人のっています。  
つぎのバスで、おきゃくさんが10人おりて6人のってきました。  
いまバスの中にはなん人のおきゃくさんがいますか？

しき

こたえ



- 2 ぼくはトンボを7ひき、おにいちゃんも7ひきつかまえました。  
そのうち5ひきのトンボをいえにもってかえります。  
なんひきトンボをにがさないといけないますか？

しき

こたえ



- 3 きょうのごはんはコロッケです。テーブルの上に13こあります。  
すぐに7こたべました。おかあさんがつかいで8こもってきました。  
いまテーブルの上にはいくつコロッケがありますか？

しき

こたえ

