

ねんせい
1年生のまとめ [1]

たしざんとひきざんのけいさん

が につ 月 日 に ち じ 時 ぶん 分 ~ じ 時 ぶん 分

なまえ

1 けいさんをしましょう

① $1 + 2 =$

② $3 + 3 =$

③ $5 + 4 =$

④ $2 + 7 =$

⑤ $3 + 5 =$

⑥ $5 + 1 =$

2 けいさんをしましょう

① $5 - 2 =$

② $9 - 3 =$

③ $4 - 3 =$

④ $7 - 0 =$

⑤ $8 - 4 =$

⑥ $9 - 8 =$

3 けいさんをしましょう

① $2 + 3 + 3 =$

② $1 + 5 + 3 =$

③ $4 + 3 + 2 =$

④ $3 + 1 + 3 =$

⑤ $8 - 1 - 4 =$

⑥ $5 - 2 - 2 =$

⑦ $9 - 3 - 5 =$

⑧ $7 - 4 - 2 =$

ねんせい
1年生のまとめ [1]

たしざんとひきざんのぶんしょうもんだい

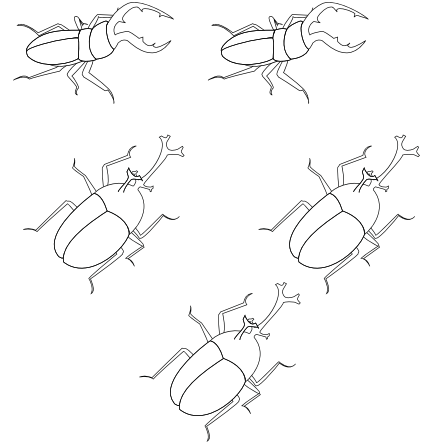
もんだい ぶんをよんでしきをかいてこたえましょう

1

ぼくの ^{むし}虫かごの ^{なか}中には、くわがたが 2ひき
かぶとむしが 3ひき います。
あわせて なんひき いますか？

しき

こたえ




2

なつ ^{やす}休みの ある ^ひ日 あさがおに 2つ ^{はな}花が さきました。
つぎの ^ひ日は 4つ、そのつぎの ^ひ日は 3つ さきました。
この 3 ^か日の あいだに、^{はな}花は いくつ さきましたか？

しき

こたえ




3

ねこが 2ひき、ねずみが 8ひき います。
どちらが なんひき おおい ですか？

しき


こたえ




ねんせい
1年生のまとめ [1]

20までのかず

1 かずをかぞえていくつあるかをすうじでかきましょう

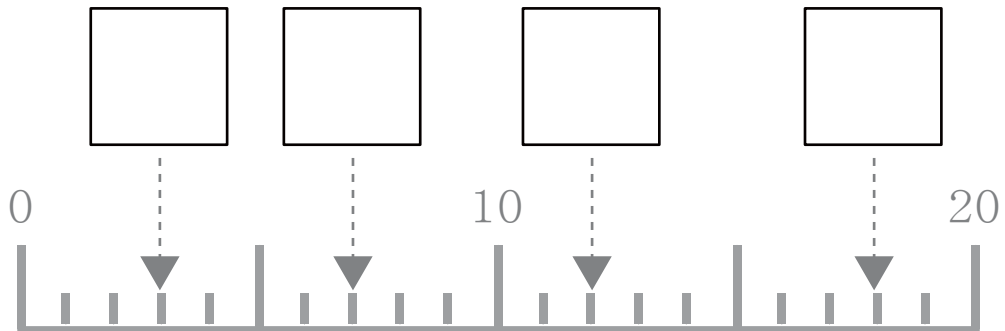


(こ)

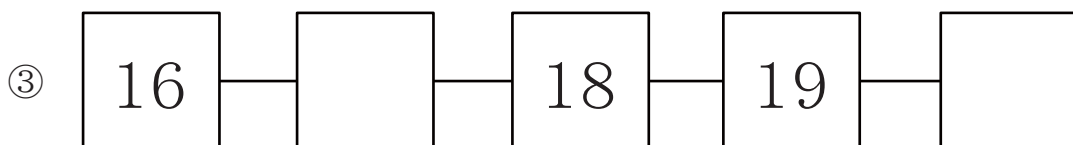
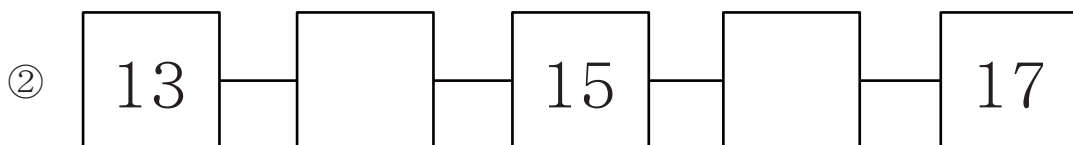
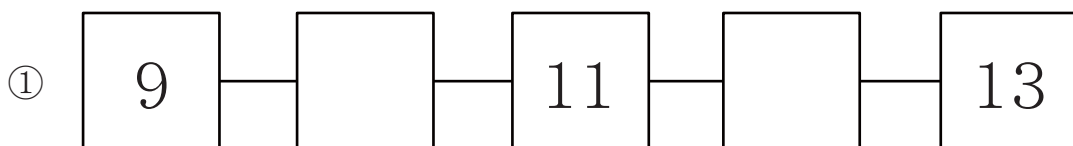


(まい)

2 にあてはまるかずをこたえましょう。



3 にあてはまるかずをこたえましょう。



1年生のまとめ [1]

20までのかず

1 にあてはまる かずを こたえましょう。

① 10 より 5 おおきいかずは

② 10 より 10 おおきいかずは

③ 20 より 3 ちいさいかずは

④ 20 より 8 ちいさいかずは

2 にあてはまる かずを こたえましょう。

① 10 と 2 で

② 10 と 8 で

③ 5 と 10 で

④ 9 と 10 で

2 にあてはまる かずを こたえましょう。

① は 10 と 4

② は 10 と 9

③ は 1 と 10

④ は 7 と 10

1年生のまとめ [1]

たしざんとひきざんのけいさん

1 けいさんをしましょう

① $5 + 5 =$

② $4 + 8 =$

③ $8 + 0 =$

④ $3 + 9 =$

⑤ $7 + 9 =$

⑥ $8 + 8 =$

2 けいさんをしましょう

① $10 - 5 =$

② $12 - 6 =$

③ $15 - 0 =$

④ $17 - 8 =$

⑤ $16 - 9 =$

⑥ $13 - 4 =$

3 けいさんをしましょう

① $5 + 0 + 6 =$

② $4 + 4 + 6 =$

③ $7 + 9 + 3 =$

④ $9 + 2 + 5 =$

⑤ $15 - 7 - 4 =$

⑥ $17 - 7 - 6 =$

⑦ $11 - 2 - 5 =$

⑧ $18 - 9 - 6 =$

ねんせい
1年生のまとめ [1]


たしざんとひきざんのぶんしょうもんだい

もんだい ぶんをよんでしきをかいてこたえましょう

- 1 こうまが2とう目のま^めえにいます。
おとなのうまはこうまよりも9とうおおいです。
みんなでなんとううまはいますか？

しき

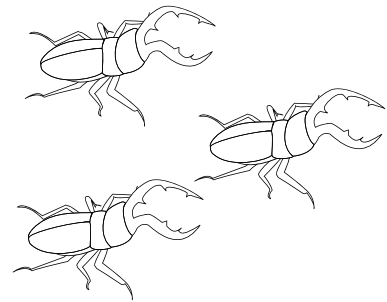
こたえ



- 2 くわがた1ひきのあしのかずは6本^{ほん}です。
ぼくのむし^{むし}かごのなか^{なか}にくわがたが3ひきいます。
3ひきのあしのかずをあわせるといくつになるでしょうか？

しき

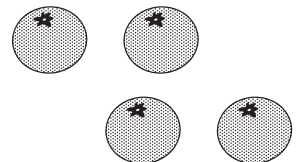
こたえ



- 3 おじいちゃんにみかんを18こもらいました。
かぞく4人^{にん}で、きのう7こたべて、きょうは8こたべました。
みかんはのこりなんこありますか？

しき

こたえ



ねんせい
1年生のまとめ [1]

なんばんめ

1 えをみて にかずをかきましょう。

まえ



うしろ

① しかは まえから ばんめにいます。

② うまの うしろには とうの どうぶつがいます。

③ いぬは なんばんめですか？ 2つの いいかたで こたえましょう。

・ まえから ばんめ ・ うしろから ばんめ

④ しかの まえとうしろには なんとうの どうぶつがいますか？

・ まえには とう ・ うしろには とう

2 こどもが いちれつにならんでいます。

ぼくは まえから 8人^{にん}めで、うしろから 7人^{にん}めです。

みんなで なん^{にん}人にならんでいますか？

こたえ

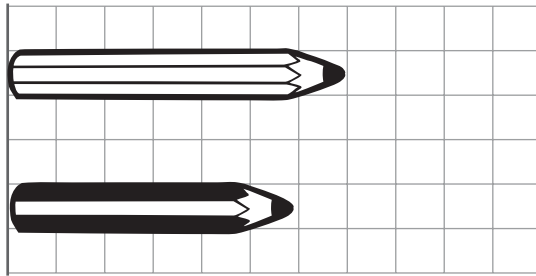
ねんせい
1年生のまとめ [1]

ながさくらべ

1 ①と②のどちらがながいか()にこたえましょう

①

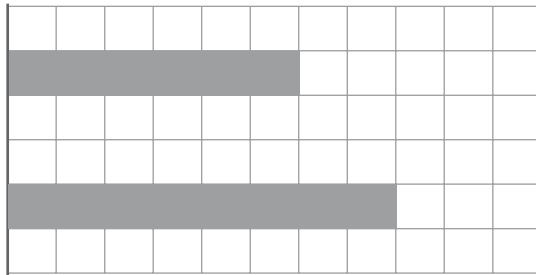
① あ



()

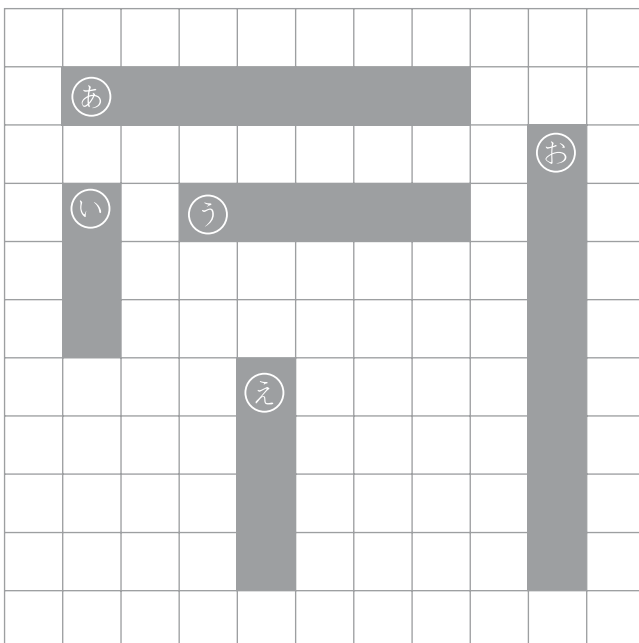
②

② あ



()

2 えをみて もんだいにこたえましょう



① ①あ②い③う④え⑤おのしかくを
ながいじゅんばんにならべよう

いちばんみじかい ()

()

()

()




いちばんながい ()

ねんせい
1年生のまとめ [1]

100までの大きいかず

1 いくつあるか かぞえて すうじで かきましょう

①



(まい)


2 あいている に あてはまる かずを かきましょう。


1	2	3		5		7	8		10
	12		14	15		17	18	19	20
21		23	24		26	27		29	30
31		33		35	36	37	38	39	
	42		44	45	46		48	49	50
51	52	53		55		57	58	59	
61	62	63	64		66	67		69	
71	72		74		76	77	78		80
	82	83	84	85	86			89	90
91		93	94	95	96		98		100

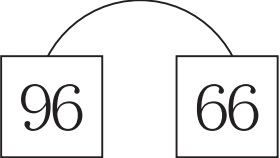
ねんせい
1年生のまとめ [1]

100までの大きいかず


1 おおきいかずのほうに○をつけましょう。

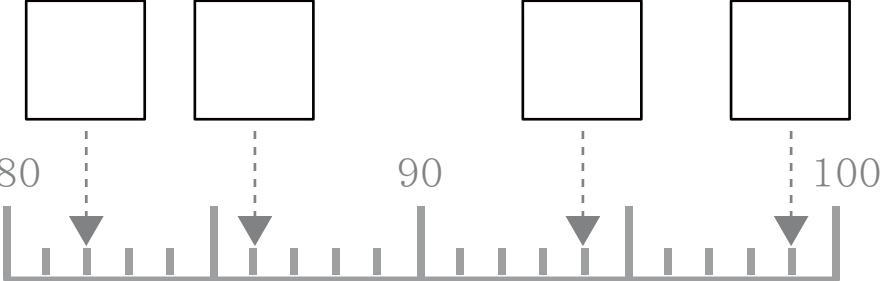
① 
 () ()

② 
 () ()

③ 
 () ()

2 あいている□にあてはまるかずをかきましょう。

① 

② 

③ 89の^{じゅう}十のくらはいは□で、^{いち}一のくらはいは□

④ 95は10が□つ、1が□つあるかず

⑤ ^{じゅう}十のくらが7で、^{いち}一のくらが5のかずは□

⑥ 80より4 ^{おお}大きいかずは□

⑦ 100より1 ^{ちい}小さいかずは□

⑧ 88は90より□ ^{ちい}小さいかず

ねんせい
1年生のまとめ [1]

おお
大きなかずのたしざん

1 けいさんをしましょう

① $30 + 10 =$

② $20 + 20 =$

③ $30 + 50 =$

④ $70 - 20 =$

⑤ $90 - 40 =$

⑥ $60 - 50 =$

2 けいさんをしましょう

① $11 + 2 =$

② $20 + 4 =$

③ $30 + 6 =$

④ $15 - 4 =$

⑤ $97 - 7 =$

⑥ $49 - 5 =$

3 けいさんをしましょう

① $10 + 20 + 30 =$

② $20 + 20 + 10 =$

③ $30 + 20 + 40 =$

④ $30 + 30 + 30 =$

⑤ $50 - 20 - 20 =$

⑥ $70 - 10 - 40 =$

⑦ $80 - 50 - 10 =$

⑧ $90 - 30 - 40 =$

ねんせい
1年生のまとめ [1]


たしざんとひきざんのぶんしょうもんだい

もんだい ぶんをよんでしきをかいてこたえましょう

- 1 わたしは、^{あか}赤いきんぎょを13ひきかっています。
きょう^{くろ}黒いきんぎょを5ひきもらいました。
あわせてなんひきになったでしょうか？

しき


こたえ



- 2 ひまわりのたねを50こまきました。
そのうち10こはめがでませんでした。
ひまわりのめはいくつでてきたでしょうか？

しき

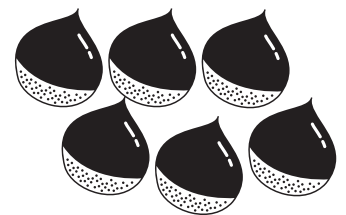
こたえ



- 3 かぞくで、くりひろいにいきました。
おとうさんは40こ、おかあさんは30こ、ぼくは20こひろいました。
あわせていくつくりをひろったでしょうか？

しき

こたえ



ねんせい
1年生のまとめ [1]

たしざんとひきざんのけいさん

1 けいさんをしましょう

① $9 - 2 + 5 =$

② $5 + 2 - 4 =$

③ $10 + 5 - 2 =$

④ $15 - 2 + 6 =$

⑤ $5 + 11 - 7 =$

⑥ $15 - 10 + 6 =$

⑦ $6 + 3 - 2 =$

⑧ $12 - 1 + 5 =$

⑨ $8 - 5 + 5 =$

⑩ $15 + 3 - 6 =$

⑪ $17 - 10 + 3 =$

⑫ $16 - 4 + 5 =$

⑬ $2 + 12 - 4 =$

⑭ $19 - 10 + 3 =$

⑮ $7 + 5 - 4 =$

⑯ $9 - 8 + 6 =$

⑰ $3 + 15 - 6 =$

⑱ $11 + 8 - 5 =$

⑲ $11 - 6 + 8 =$

⑳ $12 + 5 - 9 =$

ねんせい
1年生のまとめ [1]


たしざんとひきざんのぶんしょうもんだい

もんだい ぶんをよんでしきをかいてこたえましょう

- 1 バスにおきゃくさんが13人のっています。
つぎのバスで、おきゃくさんが10人おりて4人のってきました。
いまバスの中にはなん人のおきゃくさんがいますか？

しき

こたえ



- 2 ぼくはトンボを4ひき、おにいちゃんに8ひきつかまえました。
そのうち3ひきのトンボをいへにもってかえります。
なんひきトンボをにがさないといけませんか？

しき

こたえ



- 3 きょうのごはんはコロッケです。テーブルの上に11こあります。
すぐに5こたべました。おかあさんがつかいで8こもってきました。
いまテーブルの上にはいくつコロッケがありますか？

しき

こたえ

