

たしざん

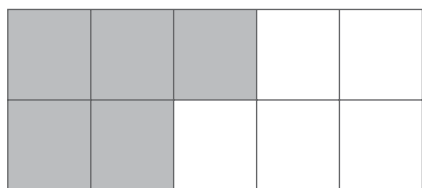
が につ 月 日 に ち 時 じ 分 分 分 ~ 時 分 分

ブロックをつかった文章問題
(繰り上がりなし)

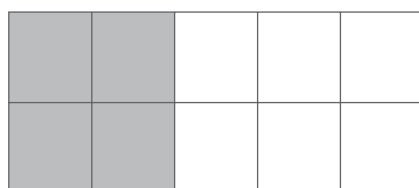
なまえ

1 ①と②の ^{ブロック} を かぞえて 答えましょう。

① () 個



② () 個



①と②の ^{ブロック} を あわせると いくつですか？

しき ()

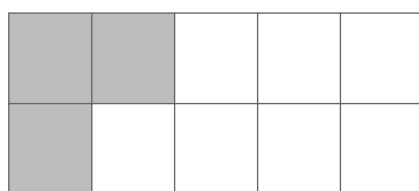
こたえ _____

2 ③と④の ^{ブロック} を かぞえて 答えましょう。

③ () 個



④ () 個



③と④の ^{ブロック} を あわせると いくつですか？

しき ()

こたえ _____

たしざん

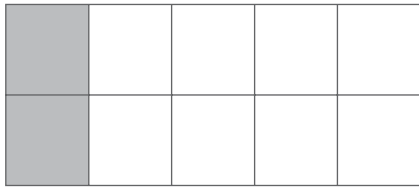
が につ 月 日 に ち じ 時 ぶん 分 ~ じ 時 ぶん 分

ブロックをつかった文章問題
(繰り上がりなし)

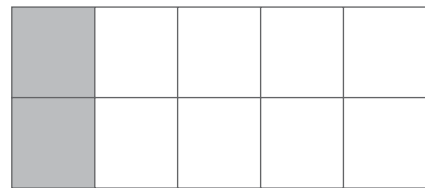
なまえ _____

1 ①と②の ^{ブロック} を かぞえて 答えましょう。

① () こ



② () こ



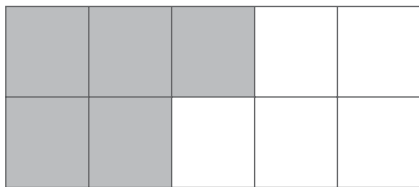
①と②の ^{ブロック} を あわせると いくつですか？

しき ()

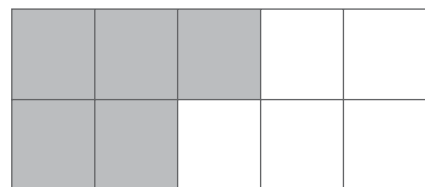
こたえ _____

2 ①と②の ^{ブロック} を かぞえて 答えましょう。

① () こ



② () こ



①と②の ^{ブロック} を あわせると いくつですか？

しき ()


こたえ _____

たしざん

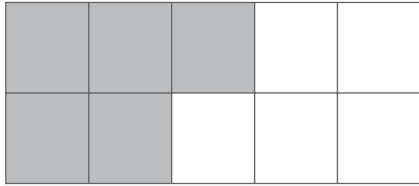
が につ 月 に ち 日 じ 時 ふん 分 ~ じ 時 ふん 分

ブロックをつかった文章問題
(繰り上がりなし)

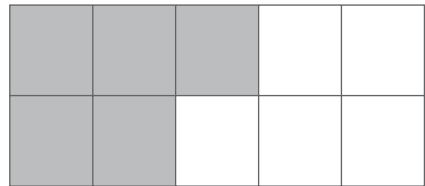
なまえ _____


1 ①と②の ^{ブロック}  を かぞえて 答えましょう。

① () こ




② () こ



①と②の ^{ブロック}  を あわせると いくつですか？

しき ()

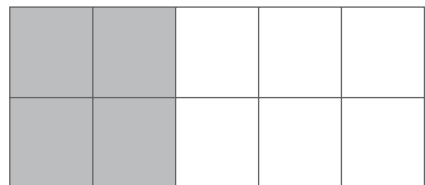
こたえ _____


2 ①と②の ^{ブロック}  を かぞえて 答えましょう。

① () こ



② () こ



①と②の ^{ブロック}  を あわせると いくつですか？

しき ()


こたえ _____

たしざん

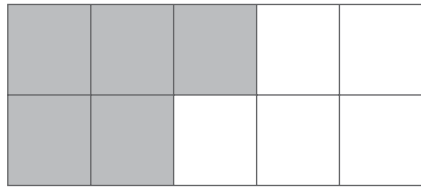
が につ 月 に ち 日 じ 時 ふん 分 ~ じ 時 ふん 分

ブロックをつかった文章問題
(繰り上がりなし)

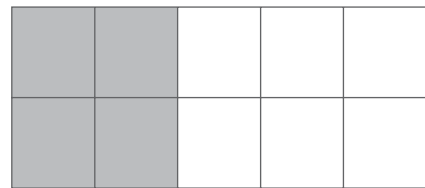
なまえ _____


1 ①と②の ^{ブロック}  を かぞえて 答えましょう。

① . . . () こ




② . . . () こ



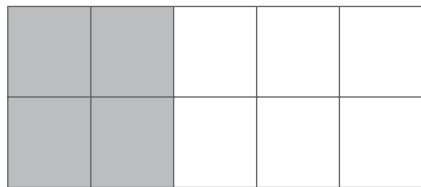
①と②の ^{ブロック}  を あわせると いくつですか？

しき ()

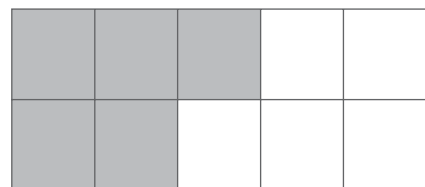
こたえ _____


2 ①と②の ^{ブロック}  を かぞえて 答えましょう。

① . . . () こ



② . . . () こ



①と②の ^{ブロック}  を あわせると いくつですか？

しき ()

こたえ _____

