

# ひきざん


が 月      に 日      じ 時      ふん 分 ~      じ 時      ふん 分

ブロックをつかった文章問題  
(繰り下がりがなし)

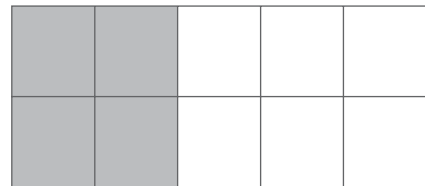
なまえ

**1** ①と②の <sup>ブロック</sup>  を かぞえて きたえましょう。

①・・・(      )こ



②・・・(      )こ



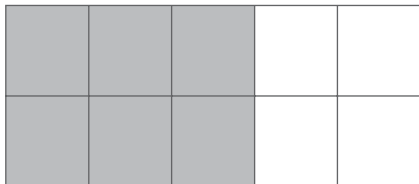
どちらの <sup>ブロック</sup>  が なんこ おおいですか？

しき (      )

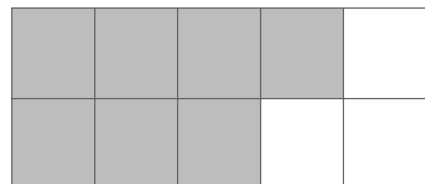
(      )のほう (      )こ おおい

**2** ①と②の <sup>ブロック</sup>  を かぞえて きたえましょう。

①・・・(      )こ



②・・・(      )こ



どちらの <sup>ブロック</sup>  が なんこ おおいですか？

しき (      )

(      )のほう (      )こ おおい

# ひきざん

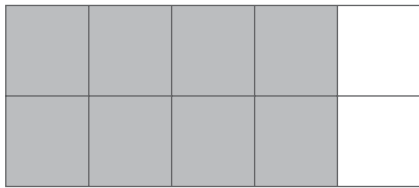
が 月      に 日      じ 時      ふん 分 ~      じ 時      ふん 分

ブロックをつかった文章問題  
(繰り下がりがなし)

なまえ

**1** ①と②の <sup>ブロック</sup>  を かぞえて きたえましょう。

①・・・(      )こ



②・・・(      )こ



どちらの <sup>ブロック</sup>  が なんこ おおいですか？

しき (      )

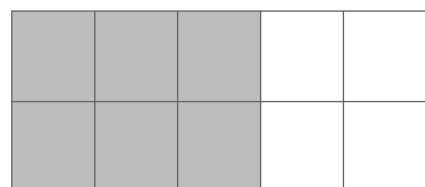
(      )のほう (      )こ おおい

**2** ①と②の <sup>ブロック</sup>  を かぞえて きたえましょう。

①・・・(      )こ



②・・・(      )こ



どちらの <sup>ブロック</sup>  が なんこ おおいですか？

しき (      )

(      )のほう (      )こ おおい